

Question Paper Preview

Notations :

- 1.Options shown in green color and with ✓ icon are correct.
- 2.Options shown in red color and with ✗ icon are incorrect.

Subject Name :	Pharmacist
Creation Date :	2021-11-18 11:21:02
Duration :	120
Total Marks :	200
Display Marks:	Yes
Share Answer Key With Delivery Engine :	No
Actual Answer Key :	Yes
Calculator :	None
Magnifying Glass Required? :	No
Ruler Required? :	No
Eraser Required? :	No
Scratch Pad Required? :	No
Rough Sketch/Notepad Required? :	No
Protractor Required? :	No
Show Watermark on Console? :	Yes
Highlighter :	No
Auto Save on Console? (SA type of questions will be always auto saved) :	No

General Ability

Group Number :	1
Group Id :	753229265
Group Maximum Duration :	0
Group Minimum Duration :	0

Show Attended Group? :	No
Edit Attended Group? :	No
Break time :	0
Group Marks :	20
Is this Group for Examiner? :	No

General Ability

Section Id :	753229265
Section Number :	1
Section type :	Online
Mandatory or Optional :	Mandatory
Number of Questions :	20
Number of Questions to be attempted :	20
Section Marks :	20
Enable Mark as Answered Mark for Review and Clear Response :	Yes
Sub-Section Number :	1
Sub-Section Id :	753229320
Question Shuffling Allowed :	Yes

Question Number : 1 Question Id : 7532295060 Question Type : MCQ Option Shuffling : Yes Is Question Mandatory : No Option Orientation : Vertical

Correct Marks : 1 Wrong Marks : 0.25

Ramesh and Suresh are brothers. Anjali is wife of Ramesh. Ragini and Alok are children of Vaishali, who is the wife of Suresh. How is Ramesh related to Alok?

Options :

1. ✓ Paternal Uncle
2. ✗ Maternal Uncle
3. ✗ Cousin
4. ✗ Father-in-law

Question Number : 1 Question Id : 7532295060 Question Type : MCQ Option Shuffling : Yes Is Question Mandatory : No Option Orientation : Vertical

Correct Marks : 1 Wrong Marks : 0.25

रमेश और सुरेश भाई हैं। अंजलि रमेश की पत्नी है। रागिनी और आलोक वैशाली के बच्चे हैं, जो सुरेश की पत्नी है। रमेश आलोक से कैसे संबंधित है?

Options :

1. ✓ चाचा
2. ✗ मामा
3. ✗ चचेरा भाई
4. ✗ ससुर

Question Number : 2 Question Id : 7532295061 Question Type : MCQ Option Shuffling : Yes Is Question Mandatory : No Option Orientation : Vertical

Correct Marks : 1 Wrong Marks : 0.25

Summaiya spends 60% of her monthly income on household items, 30% of the remaining on house rent and clothes, and saves 30% of the remaining. If her monthly salary is ₹60,000, then how much money does she save?

Options :

1. ✗ ₹25,200
2. ✗ ₹12,000
3. ✗ ₹8,000
4. ✓ ₹5,040

Question Number : 2 Question Id : 7532295061 Question Type : MCQ Option Shuffling : Yes Is Question Mandatory : No Option Orientation : Vertical

Correct Marks : 1 Wrong Marks : 0.25

सुमैया अपनी मासिक आय का 60% घरेलू सामानों पर खर्च करती है, शेष का 30% घर के किराए और कपड़ों पर, और शेष के 30% की बचत करती है। यदि उसका मासिक वेतन ₹ 60,000 है, तो वह कितनी धनराशि की बचत करती है?

Options :

1. ✗ ₹25,200
2. ✗ ₹12,000
3. ✗ ₹8,000
4. ✓ ₹5,040

Question Number : 3 Question Id : 7532295062 Question Type : MCQ Option Shuffling : Yes Is Question Mandatory : No Option Orientation : Vertical

Correct Marks : 1 Wrong Marks : 0.25

The number of chairs in each row of a seminar hall is equal to the total rows in the hall. After removing 121 chairs from the hall, there were 10,488 chairs left. How many rows of chairs were there in the hall?

Options :

1. ✘ 100
2. ✘ 102
3. ✔ 103
4. ✘ 104

Question Number : 3 Question Id : 7532295062 Question Type : MCQ Option Shuffling : Yes Is Question Mandatory : No Option Orientation : Vertical

Correct Marks : 1 Wrong Marks : 0.25

एक सेमिनार हॉल की प्रत्येक पंक्ति में कुर्सियों की संख्या हॉल की कुल पंक्तियों के बराबर है। हॉल से 121 कुर्सियों को हटा ने के बाद, 10,488 कुर्सियाँ बची थीं। हॉल में कुर्सियों की कुल कितनी पंक्तियाँ थीं?

Options :

1. ✘ 100
2. ✘ 102
3. ✔ 103
4. ✘ 104

Question Number : 4 Question Id : 7532295063 Question Type : MCQ Option Shuffling : Yes Is Question Mandatory : No Option Orientation : Vertical

Correct Marks : 1 Wrong Marks : 0.25

Read the given statements and conclusions carefully. Assuming that the information given in the statements is true, even if it appears to be at variance with commonly known facts, decide which of the given conclusions logically follow(s) from the statements.

Statements:

Some birds are lizards

Some lizards are peacocks

Conclusions:

I. Some birds are peacocks

II. Some peacocks are birds

Options :

1. ✘ Only conclusion I follows

2. ✘ Only conclusion II follows
3. ✘ Both conclusions I and II follow
4. ✔ Neither conclusion I nor II follows

Question Number : 4 Question Id : 7532295063 Question Type : MCQ Option Shuffling : Yes Is Question Mandatory : No Option Orientation : Vertical

Correct Marks : 1 Wrong Marks : 0.25

दिए गए कथनों और निष्कर्षों को ध्यानपूर्वक पढ़ें। कथनों में दी गई जानकारी को सही मानते हुए, भले ही वह सामान्य रूप से ज्ञात तथ्यों से भिन्न प्रतीत होती हो, तय करें की कौन से निष्कर्ष कथनों का तार्किक रूप से अनुसरण करते हैं।

कथन:

कुछ पक्षी छिपकलियां हैं।

कुछ छिपकलियां मोर हैं।

निष्कर्ष:

I. कुछ पक्षी मोर हैं।

II. कुछ मोर पक्षी हैं।

Options :

1. ✘ केवल निष्कर्ष I अनुसरण करता है
2. ✘ केवल निष्कर्ष II अनुसरण करता है
3. ✘ निष्कर्ष I तथा II दोनों अनुसरण करते हैं
4. ✔ न तो निष्कर्ष I और न ही निष्कर्ष II अनुसरण करता है।

Question Number : 5 Question Id : 7532295064 Question Type : MCQ Option Shuffling : Yes Is Question Mandatory : No Option Orientation : Vertical

Correct Marks : 1 Wrong Marks : 0.25

Four words have been given, out of which three are alike in some manner and one is different. Select the word that is different.

Options :

1. ✘ Red
2. ✘ Green
3. ✔ Pink
4. ✘ Blue

Question Number : 5 Question Id : 7532295064 Question Type : MCQ Option Shuffling : Yes Is Question Mandatory : No Option Orientation : Vertical

Correct Marks : 1 Wrong Marks : 0.25

विकल्पों में चार शब्द दिए गए हैं जिनमें से तीन किसी प्रकार से संगत हैं जबकि एक असंगत है। असंगत शब्द का चयन करें।

Options :

1. ✘ लाल
2. ✘ हरा
3. ✔ गुलाबी
4. ✘ नीला

Question Number : 6 Question Id : 7532295065 Question Type : MCQ Option Shuffling : Yes Is Question Mandatory : No Option Orientation : Vertical

Correct Marks : 1 Wrong Marks : 0.25

There are zebras and parrots in a zoo. By counting heads, they are a total of 90. The number of legs is 210. How many parrots are there?

Options :

1. ✘ 60
2. ✘ 65
3. ✘ 72
4. ✔ 75

Question Number : 6 Question Id : 7532295065 Question Type : MCQ Option Shuffling : Yes Is Question Mandatory : No Option Orientation : Vertical

Correct Marks : 1 Wrong Marks : 0.25

एक चिड़िया घर में कुछ ज़ेबरा और तोते हैं। गणना करने पर, सिरोंकी संख्या कुल 90 है। टांगों की संख्या 210 है। तोतों की संख्या कितनी है?

Options :

1. ✘ 60
2. ✘ 65
3. ✘ 72
4. ✔ 75

Question Number : 7 Question Id : 7532295066 Question Type : MCQ Option Shuffling : Yes Is Question Mandatory : No Option Orientation : Vertical

Correct Marks : 1 Wrong Marks : 0.25

A total of 415 coins of ₹2 and ₹5 denominations make a sum of ₹1,550. The number of ₹5 coins is:

Options :

1. ✘ 120
2. ✘ 144
3. ✘ 220
4. ✔ 240

Question Number : 7 Question Id : 7532295066 Question Type : MCQ Option Shuffling : Yes Is Question Mandatory : No Option Orientation : Vertical

Correct Marks : 1 Wrong Marks : 0.25

₹2 और ₹5 मूल्य वर्ग के 415 सिक्कों का कुल मूल्य ₹1,550 है। ₹5 के सिक्कों की संख्या कितनी है?

Options :

1. ✘ 120
2. ✘ 144
3. ✘ 220
4. ✔ 240

Question Number : 8 Question Id : 7532295067 Question Type : MCQ Option Shuffling : Yes Is Question Mandatory : No Option Orientation : Vertical

Correct Marks : 1 Wrong Marks : 0.25

Select the number set that is analogous to the given set?

(21, 7, 126)

Options :

1. ✘ (42, 14, 294)
2. ✘ (33, 11, 196)
3. ✔ (33, 11, 198)
4. ✘ (42, 16, 252)

Question Number : 8 Question Id : 7532295067 Question Type : MCQ Option Shuffling : Yes Is Question Mandatory : No Option Orientation : Vertical

Correct Marks : 1 Wrong Marks : 0.25

उन संख्याओं के समुच्चय का चयन करें जो दिए गए समुच्चय के अनुरूप है।

(21, 7, 126)

Options :

1. ✘ (42, 14, 294)
2. ✘ (33, 11, 196)
3. ✔ (33, 11, 198)
4. ✘ (42, 16, 252)

Question Number : 9 Question Id : 7532295068 Question Type : MCQ Option Shuffling : Yes Is Question Mandatory : No Option Orientation : Vertical

Correct Marks : 1 Wrong Marks : 0.25

Find the missing letter in the following letter series.

K, I, G, E, C,?

Options :

1. ✘ B
2. ✔ A
3. ✘ Z
4. ✘ Y

Question Number : 9 Question Id : 7532295068 Question Type : MCQ Option Shuffling : Yes Is Question Mandatory : No Option Orientation : Vertical

Correct Marks : 1 Wrong Marks : 0.25

दी गई अक्षर श्रृंखला में लापता अक्षर का पता लगाएं?

K, I, G, E, C,?

Options :

1. ✘ B
2. ✔ A
3. ✘ Z
4. ✘ Y

Question Number : 10 Question Id : 7532295069 Question Type : MCQ Option Shuffling : Yes Is Question Mandatory : No Option Orientation : Vertical

Correct Marks : 1 Wrong Marks : 0.25

Which of the following words is different from the rest in a certain manner?

Options :

1. ✘ Cow
2. ✘ Goat
3. ✔ Zebra
4. ✘ Horse

Question Number : 10 Question Id : 7532295069 Question Type : MCQ Option Shuffling : Yes Is Question Mandatory : No Option Orientation : Vertical

Correct Marks : 1 Wrong Marks : 0.25

निम्नलिखित में से कौनसा शब्द, अन्य शब्दों से एक निश्चित तरीके से भिन्न है।

Options :

1. ✘ गाय
2. ✘ बकरी
3. ✔ ज़ेब्रा
4. ✘ घोड़ा

Question Number : 11 Question Id : 7532295070 Question Type : MCQ Option Shuffling : Yes Is Question Mandatory : No Option Orientation : Vertical

Correct Marks : 1 Wrong Marks : 0.25

Power is to Watt as Mass is to _____.

Options :

1. ✘ Balance
2. ✘ Weight
3. ✔ Kilogram
4. ✘ Item

Question Number : 11 Question Id : 7532295070 Question Type : MCQ Option Shuffling : Yes Is Question Mandatory : No Option

Orientation : Vertical

Correct Marks : 1 Wrong Marks : 0.25

शक्ति का वॉट से वही संबंध है जो द्रव्यमान का _____ से है।

Options :

1. ✘ संतुलन
2. ✘ भार
3. ✔ किलोग्राम
4. ✘ मद

Question Number : 12 Question Id : 7532295071 Question Type : MCQ Option Shuffling : Yes Is Question Mandatory : No Option

Orientation : Vertical

Correct Marks : 1 Wrong Marks : 0.25

Select the set in which the numbers are related in the same way as the numbers of the following set.

(16, 4, 2)

Options :

1. ✘ (24, 4, 6)
2. ✔ (200, 5, 20)
3. ✘ (18, 3, 5)
4. ✘ (40, 20, 20)

Question Number : 12 Question Id : 7532295071 Question Type : MCQ Option Shuffling : Yes Is Question Mandatory : No Option

Orientation : Vertical

Correct Marks : 1 Wrong Marks : 0.25

उस समुच्चय का चयन करें, जिसमें दी गई संख्याओं के मध्य वही संबंध है, जो दिए गए समुच्चय में दी गई संख्याओं के मध्य है।

(16, 4, 2)

Options :

1. ✘ (24, 4, 6)
2. ✔ (200, 5, 20)
3. ✘ (18, 3, 5)
4. ✘ (40, 20, 20)

Question Number : 13 Question Id : 7532295072 Question Type : MCQ Option Shuffling : Yes Is Question Mandatory : No Option Orientation : Vertical

Correct Marks : 1 Wrong Marks : 0.25

Select the option that can replace the question mark (?) in the following series.

M, O, U, W, ?

Options :

1. ✘ Z
2. ✘ B
3. ✔ C
4. ✘ Y

Question Number : 13 Question Id : 7532295072 Question Type : MCQ Option Shuffling : Yes Is Question Mandatory : No Option Orientation : Vertical

Correct Marks : 1 Wrong Marks : 0.25

उस विकल्प का चयन करें, जो निम्नलिखित श्रृंखला में प्रश्न चिह्न (?) को प्रतिस्थापित करेगा।

M, O, U, W, ?

Options :

1. ✘ Z
2. ✘ B
3. ✔ C
4. ✘ Y

Question Number : 14 Question Id : 7532295073 Question Type : MCQ Option Shuffling : Yes Is Question Mandatory : No Option Orientation : Vertical

Correct Marks : 1 Wrong Marks : 0.25

Read the below two Statements carefully and identify which of the Conclusions are definitely true.

Statement:

- A) No Bed is a Room.
- B) All Lamp are Bed.

Conclusion:

- I. No Lamp is a Room.
- II. All Lamps are not Rooms.
- III. All Rooms are not Lamps.
- IV. Some Lamps are Rooms.

Options :

1. ✘ Only conclusion I follows
2. ✘ Only conclusion II follows
3. ✘ Neither conclusion III and conclusion II follows
4. ✔ Conclusions I, II & III follow

Question Number : 14 Question Id : 7532295073 Question Type : MCQ Option Shuffling : Yes Is Question Mandatory : No Option Orientation : Vertical

Correct Marks : 1 Wrong Marks : 0.25

कथनों को ध्यानपूर्वक पढ़ें और उसके निष्कर्षों की समीक्षा करें:

कथन:

- A) कोई भी बिस्तर, कमरा नहीं है।
- B) सभी लैंप, बिस्तर हैं।

निष्कर्ष:

- I. कोई भी लैंप, कमरा नहीं है।
- II. सभी लैंप, कमरे नहीं हैं।
- III. सभी कमरे, लैंप नहीं हैं।
- IV. कुछ लैंप, कमरे हैं।

Options :

1. ✘ केवल निष्कर्ष I अनुसरण करता है
2. ✘ केवल निष्कर्ष II अनुसरण करता है
3. ✘ न तो निष्कर्ष III और नही निष्कर्ष II अनुसरण करता है
4. ✔ निष्कर्ष I, II और III अनुसरण करते हैं

Question Number : 15 Question Id : 7532295074 Question Type : MCQ Option Shuffling : Yes Is Question Mandatory : No Option Orientation : Vertical

Correct Marks : 1 Wrong Marks : 0.25

Read the Statement carefully and observe.

Statement:

- A) All FLOWERS are LEAF.
- B) All LEAF are ROOTS.

Conclusion:

- I. All ROOTS are FLOWERS.
- II. All FLOWER are ROOTS.
- III. Some ROOTS are FLOWERS.

Options :

- 1. ✘ Only conclusion I follows
- 2. ✘ Only conclusion II follows
- 3. ✘ Neither conclusion I and conclusion II follows
- 4. ✔ Both conclusions II and III follows

Question Number : 15 Question Id : 7532295074 Question Type : MCQ Option Shuffling : Yes Is Question Mandatory : No Option Orientation : Vertical

Correct Marks : 1 Wrong Marks : 0.25

कथनों को ध्यानपूर्वक पढ़ें और उसके निष्कर्षों की समीक्षा करें:

कथन:

- A) सभी फूल, पत्ती हैं।
- B) सभी पत्ती, जड़ें हैं

निष्कर्ष:

- I. सभी जड़ें, फूल हैं।
- II. सभी फूल, जड़ें हैं।
- III. कुछ जड़ें, फूल हैं।

Options :

- 1. ✘ केवल निष्कर्ष I अनुसरण करता है
- 2. ✘ केवल निष्कर्ष II अनुसरण करता है
- 3. ✘ न तो निष्कर्ष I और न ही निष्कर्ष II अनुसरण करता है
- 4. ✔ निष्कर्ष I और II दोनों अनुसरण करते हैं

Question Number : 16 Question Id : 7532295075 Question Type : MCQ Option Shuffling : Yes Is Question Mandatory : No Option Orientation : Vertical

Correct Marks : 1 Wrong Marks : 0.25

Select the option that can replace question mark (?) in the following series.

G, J, M, ?

Options :

1. ✘ Q

2. ✔ P

3. ✘ O

4. ✘ R

Question Number : 16 Question Id : 7532295075 Question Type : MCQ Option Shuffling : Yes Is Question Mandatory : No Option Orientation : Vertical

Correct Marks : 1 Wrong Marks : 0.25

निम्नलिखित श्रृंखला में प्रश्न चिह्न (?) का स्थान ले सकने वाले विकल्प का चयन करें:

G, J, M, ?

Options :

1. ✘ Q

2. ✔ P

3. ✘ O

4. ✘ R

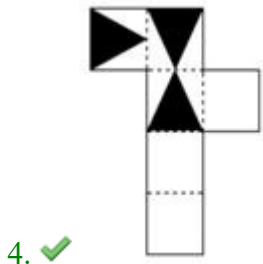
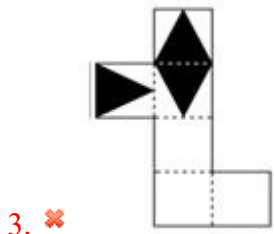
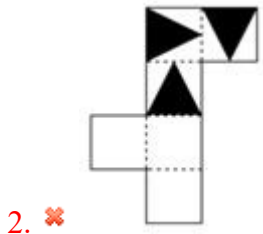
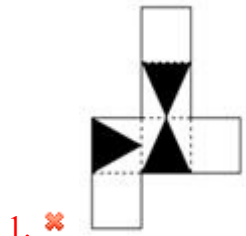
Question Number : 17 Question Id : 7532295076 Question Type : MCQ Option Shuffling : Yes Is Question Mandatory : No Option Orientation : Vertical

Correct Marks : 1 Wrong Marks : 0.25

Which of the following patterns can be folded to make the cube shown in question?



Options :



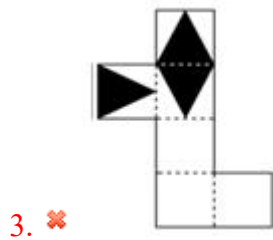
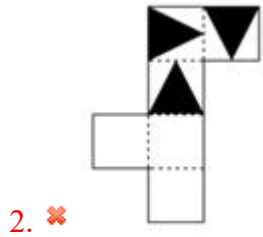
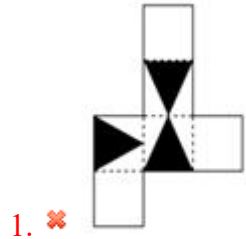
Question Number : 17 Question Id : 7532295076 Question Type : MCQ Option Shuffling : Yes Is Question Mandatory : No Option Orientation : Vertical

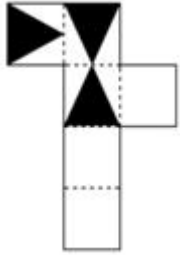
Correct Marks : 1 Wrong Marks : 0.25

विकल्पों में से किस पैटर्न को मोड़कर दिया गया घन बनाया जा सकता है?



Options :



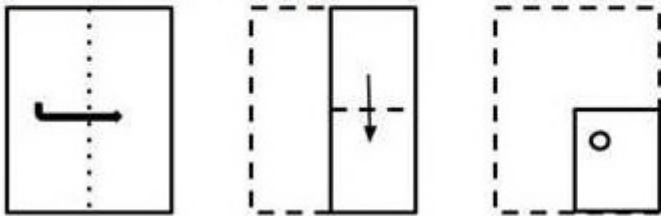


4. ✓


Question Number : 18 Question Id : 7532295077 Question Type : MCQ Option Shuffling : Yes Is Question Mandatory : No Option Orientation : Vertical

Correct Marks : 1 Wrong Marks : 0.25


The sequence of folding a piece of paper and the manner in which the folded paper has been cut is shown in the following figures. How would this paper look when unfolded?



Options :




1. ✘

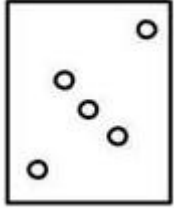


2. ✘

3. ✓



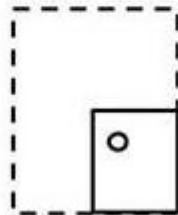
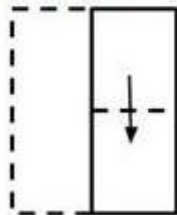
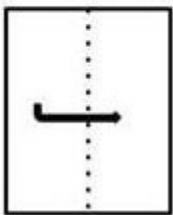
4. ✘




Question Number : 18 Question Id : 7532295077 Question Type : MCQ Option Shuffling : Yes Is Question Mandatory : No Option Orientation : Vertical

Correct Marks : 1 Wrong Marks : 0.25

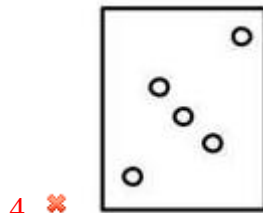
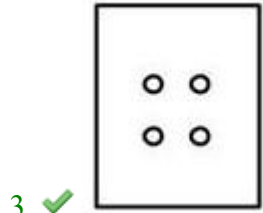
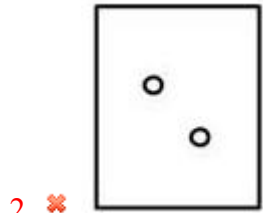
एक पेपर को मोड़ने का अनुक्रम और मुड़े हुए पेपर को काटने का तरीका नीचे दी गई आकृति में प्रदर्शित किया गया है। पेपर को खोलने पर यह कैसा दिखेगा?



Options :



1. ✘



Question Number : 19 Question Id : 7532295078 Question Type : MCQ Option Shuffling : Yes Is Question Mandatory : No Option Orientation : Vertical

Correct Marks : 1 Wrong Marks : 0.25

Select the figure (from 1, 2, 3 and 4) in which the given figure (X) is embedded (rotation is NOT allowed).



X



1



2



3



4

Options :

1. ✔ 1

2. ✘ 2

3. ✘ 3

4. ✘ 4

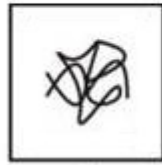
Question Number : 19 Question Id : 7532295078 Question Type : MCQ Option Shuffling : Yes Is Question Mandatory : No Option Orientation : Vertical

Correct Marks : 1 Wrong Marks : 0.25

उस आकृति (1, 2, 3 और 4 में से) का चयन करें जिसमें दी गयी आकृति (X) अंतःस्थापित है (घूर्णन की अनुमति नहीं है)।




X



1



2



3



4

Options :

1. ✔ 1

2. ✘ 2

3. ✘ 3

4. ✘ 4

Question Number : 20 Question Id : 7532295079 Question Type : MCQ Option Shuffling : Yes Is Question Mandatory : No Option Orientation : Vertical

Correct Marks : 1 Wrong Marks : 0.25

Select the option that is correct for the bracketed terms with respect to their inclusion in the given series.

$$\frac{2}{3}, \frac{3}{5}, \frac{5}{7}, \left(\frac{7}{11}\right), \frac{11}{13}, \frac{13}{17}, \frac{17}{19}, \left(\frac{19}{21}\right)$$

Options :

1. ✘ Both the bracketed terms are correct
2. ✘ Both the bracketed terms are incorrect
3. ✔ The first bracketed term is correct, and second term is incorrect
4. ✘ The first bracketed term is incorrect, and second term is correct

Question Number : 20 Question Id : 7532295079 Question Type : MCQ Option Shuffling : Yes Is Question Mandatory : No Option Orientation : Vertical

Correct Marks : 1 Wrong Marks : 0.25

निम्नलिखित में से दिए गए श्रृंखला में उनके शामिल होने के संबंध में ब्रैकेटेड शब्दोंके लिए सही विकल्प का चयन करें।

$$\frac{2}{3}, \frac{3}{5}, \frac{5}{7}, \left(\frac{7}{11}\right), \frac{11}{13}, \frac{13}{17}, \frac{17}{19}, \left(\frac{19}{21}\right)$$

Options :

1. ✘ दोनों कोष्ठकों में दी गई संख्या सही हैं
2. ✘ दोनों कोष्ठकों में दी गई संख्या गलत हैं
3. ✔ पहले कोष्ठक में दी गई संख्या सही है और दूसरे कोष्ठक में दी गई संख्या गलत है

4. ✘ पहले कोष्ठक में दी गई संख्या गलत है और दूसरे कोष्ठक में दी गई संख्या सही है

General Awareness

Group Number :	2
Group Id :	753229266
Group Maximum Duration :	0
Group Minimum Duration :	0
Show Attended Group? :	No
Edit Attended Group? :	No
Break time :	0
Group Marks :	20
Is this Group for Examiner? :	No

General Awareness

Section Id :	753229266
Section Number :	1
Section type :	Online
Mandatory or Optional :	Mandatory
Number of Questions :	20
Number of Questions to be attempted :	20
Section Marks :	20
Enable Mark as Answered Mark for Review and Clear Response :	Yes
Sub-Section Number :	1
Sub-Section Id :	753229321
Question Shuffling Allowed :	Yes

Question Number : 21 Question Id : 7532295080 Question Type : MCQ Option Shuffling : Yes Is Question Mandatory : No Option Orientation : Vertical
Correct Marks : 1 Wrong Marks : 0.25

Justice N.V. Ramana was on April 2021 sworn in as the _____ Chief Justice of India (CJI).

Options :

1. ✘ 45th
2. ✘ 47th
3. ✔ 48th
4. ✘ 50th

Question Number : 21 Question Id : 7532295080 Question Type : MCQ Option Shuffling : Yes Is Question Mandatory : No Option Orientation : Vertical

Correct Marks : 1 Wrong Marks : 0.25

न्यायाधीश एन.वी. रमन ने अप्रैल, 2021 को भारत के _____ मुख्य न्यायाधीश (CJI) के रूप में शपथ ली थी।

Options :

1. ✘ 45वें
2. ✘ 47वें
3. ✔ 48वें
4. ✘ 50वें

Question Number : 22 Question Id : 7532295081 Question Type : MCQ Option Shuffling : Yes Is Question Mandatory : No Option Orientation : Vertical

Correct Marks : 1 Wrong Marks : 0.25

Who among the following was the first chairperson of the Lokpal?

Options :

1. ✘ Shri Justice Ranjan Gogoi
2. ✔ Shri Justice Pinaki Chandra Ghose
3. ✘ Sri Justice Arun Mishra
4. ✘ Sri Justice Vikram Nath

Question Number : 22 Question Id : 7532295081 Question Type : MCQ Option Shuffling : Yes Is Question Mandatory : No Option Orientation : Vertical

Correct Marks : 1 Wrong Marks : 0.25

लोकपाल के प्रथम अध्यक्ष निम्नलिखित में से कौन थे?

Options :

1. ✘ श्री न्यायधीश रंजन गोगोई
2. ✔ श्री न्यायधीश पिनाकी चंद्र घोष
3. ✘ श्री न्यायधीश अरुण मिश्रा
4. ✘ श्री न्यायधीश विक्रम नाथ

Question Number : 23 Question Id : 7532295082 Question Type : MCQ Option Shuffling : Yes Is Question Mandatory : No Option Orientation : Vertical

Correct Marks : 1 Wrong Marks : 0.25

Who among the following launched the POSHAN Abhiyaan that directs the attention of the country towards the problem of malnutrition and address it in a mission-mode in 2018?

Options :

1. ✔ Sri Narendra Modi
2. ✘ Smt.Smriti Irani
3. ✘ Sri Ramesh Pokhriyal
4. ✘ Smt. Nirmala Sitharaman

Question Number : 23 Question Id : 7532295082 Question Type : MCQ Option Shuffling : Yes Is Question Mandatory : No Option Orientation : Vertical

Correct Marks : 1 Wrong Marks : 0.25

निम्नलिखित में से किसने पोषण अभियान शुरू किया जो कुपोषण की समस्या की ओर देश का ध्यान दिलाता है और इसे 2018 के मिशन-मोड में संबोधित करता है?

Options :

1. ✔ श्री नरेन्द्र मोदी
2. ✘ श्रीमती स्मृति ईरानी
3. ✘ श्री रमेश पोखरियाली
4. ✘ श्रीमती निर्मला सीतारमण

Question Number : 24 Question Id : 7532295083 Question Type : MCQ Option Shuffling : Yes Is Question Mandatory : No Option Orientation : Vertical

Correct Marks : 1 Wrong Marks : 0.25

Who among the following is the first Indian Prime Minister to preside over UNSC meeting?

Options :

1. ✘ Indira Gandhi
2. ✘ I.K.Gujral
3. ✘ Manmohan Singh
4. ✔ Narendra Modi

Question Number : 24 Question Id : 7532295083 Question Type : MCQ Option Shuffling : Yes Is Question Mandatory : No Option Orientation : Vertical

Correct Marks : 1 Wrong Marks : 0.25

निम्नलिखित में से कौन संयुक्त राष्ट्र सुरक्षा परिषद (UNSC) बैठक की अध्यक्षता करने वाले पहले भारतीय प्रधानमंत्री हैं?

Options :

1. ✘ इंदिरा गांधी
2. ✘ आई.के. गुजराल
3. ✘ मनमोहन सिंह
4. ✔ नरेंद्र मोदी

Question Number : 25 Question Id : 7532295084 Question Type : MCQ Option Shuffling : Yes Is Question Mandatory : No Option Orientation : Vertical

Correct Marks : 1 Wrong Marks : 0.25

Uchatar Avishkar Yojana (UAY) was announced in _____, with a view to promoting innovation of a higher order that directly impacts the needs of the Industry and thereby improves the competitive edge of Indian manufacturing.

Options :

1. ✘ 2014
2. ✔ 2015
3. ✘ 2016
4. ✘ 2017

Question Number : 25 Question Id : 7532295084 Question Type : MCQ Option Shuffling : Yes Is Question Mandatory : No Option Orientation : Vertical

Correct Marks : 1 Wrong Marks : 0.25

उच्चतर आविष्कार योजना (UAY) की घोषणा _____ में की गई थी, इसका उद्देश्य उच्च स्तर के ऐसे नवाचार को बढ़ावा देना है जो सीधे उद्योग की आवश्यकताओं को प्रभावित करता है और भारतीय विनिर्माण की प्रतिस्पर्धात्मक बढ़त में सुधार करता है।

Options :

1. ✘ 2014
2. ✔ 2015
3. ✘ 2016
4. ✘ 2017

Question Number : 26 Question Id : 7532295085 Question Type : MCQ Option Shuffling : Yes Is Question Mandatory : No Option Orientation : Vertical

Correct Marks : 1 Wrong Marks : 0.25

Which Indian scientist introduced Sixth Sense – wearable gestural computing technology to the world in 2009?

Options :

1. ✔ Pranav Mistry
2. ✘ Shinjini Kundu
3. ✘ Dinesh Bharadia
4. ✘ Jagdish Chaturvedi

Question Number : 26 Question Id : 7532295085 Question Type : MCQ Option Shuffling : Yes Is Question Mandatory : No Option Orientation : Vertical

Correct Marks : 1 Wrong Marks : 0.25

2009 में किस भारतीय वैज्ञानिक ने सिक्स्थ सेंस (छठी इंद्रिय) - वियरेबल जेस्चरल कंप्यूटिंग तकनीक को दुनिया के सामने पेश किया?

Options :

1. ✔ प्रणव मिस्त्री
2. ✘ शिंजिनी कुंडु
3. ✘ दिनेश भारड़िया
4. ✘ जगदीश चतुर्वेदी

Question Number : 27 Question Id : 7532295086 Question Type : MCQ Option Shuffling : Yes Is Question Mandatory : No Option Orientation : Vertical

Correct Marks : 1 Wrong Marks : 0.25

Who among the following has been honoured with the Scientific and Engineering Academy Award at the Oscars Scientific and Technical Awards 2018 at Beverly Hills in Los Angeles, California?

Options :

1. ✘ Shiva Ayyadurai

2. ✓ Vikas Sathaye
3. ✗ Anil Kakodkar
4. ✗ Subramaniam Ramadorai

Question Number : 27 Question Id : 7532295086 Question Type : MCQ Option Shuffling : Yes Is Question Mandatory : No Option Orientation : Vertical

Correct Marks : 1 Wrong Marks : 0.25

निम्नलिखित में से किसे बेवर्ली हिल्स, लॉस एंजिल्स, कैलिफोर्निया में ऑस्कर वैज्ञानिकी और तकनीकी पुरस्कार 2018 में वैज्ञानिकी और इंजीनियरिंग अकादमी पुरस्कार से सम्मानित किया गया?

Options :

1. ✗ शिव अय्यदुरई
2. ✓ विकास सथाये
3. ✗ अनिल काकोडकर
4. ✗ सुब्रमण्यम रामादुरई

Question Number : 28 Question Id : 7532295087 Question Type : MCQ Option Shuffling : Yes Is Question Mandatory : No Option Orientation : Vertical

Correct Marks : 1 Wrong Marks : 0.25

Which district among the following had the highest average literacy rate as per the Census 2011?

Options :

1. ✗ Champhai
2. ✗ Mahe
3. ✗ Kottayam
4. ✓ Serchhip

Question Number : 28 Question Id : 7532295087 Question Type : MCQ Option Shuffling : Yes Is Question Mandatory : No Option Orientation : Vertical

Correct Marks : 1 Wrong Marks : 0.25

2011 की जनगणना के अनुसार, निम्नलिखित में से किस जिले की औसत साक्षरता दर उच्चतम थी?

Options :

1. ✗ चम्फाई

2. ✘ माहे
3. ✘ कोट्टयम
4. ✔ सेरछिप

Question Number : 29 Question Id : 7532295088 Question Type : MCQ Option Shuffling : Yes Is Question Mandatory : No Option Orientation : Vertical

Correct Marks : 1 Wrong Marks : 0.25

A Tribal Health and Nutrition Portal has been launched by the name of _____ by Ministry of Tribal Affairs in August 2020.

Options :

1. ✔ Swasthya
2. ✘ Alekh
3. ✘ Poshan
4. ✘ Takat

Question Number : 29 Question Id : 7532295088 Question Type : MCQ Option Shuffling : Yes Is Question Mandatory : No Option Orientation : Vertical

Correct Marks : 1 Wrong Marks : 0.25

अगस्त 2020 में, जनजातीय कार्य मंत्रालय द्वारा _____ के नाम से जनजातीय स्वास्थ्य और पोषण पोर्टल शुरू किया गया है।

Options :

1. ✔ स्वास्थ्य
2. ✘ आलेख
3. ✘ पोषण
4. ✘ ताकत

Question Number : 30 Question Id : 7532295089 Question Type : MCQ Option Shuffling : Yes Is Question Mandatory : No Option Orientation : Vertical

Correct Marks : 1 Wrong Marks : 0.25

The Indian Air Force and the Air Force of which other country participated in the Ex Desert Knight-21 drill between January 20 to 24 in 2021?

Options :

1. ✘ USA
2. ✘ UK

3. ✓ France

4. ✗ Serbia

Question Number : 30 Question Id : 7532295089 Question Type : MCQ Option Shuffling : Yes Is Question Mandatory : No Option Orientation : Vertical

Correct Marks : 1 Wrong Marks : 0.25

भारतीय वायु सेना और किस अन्य देश की वायु सेना ने 20 से 24 जनवरी, 2021 के बीच एक्स डेजर्ट नाइट-21 ड्रिल में भाग लिया?

Options :

1. ✗ अमेरिका

2. ✗ ब्रिटेन

3. ✓ फ्रांस

4. ✗ सर्बिया

Question Number : 31 Question Id : 7532295090 Question Type : MCQ Option Shuffling : Yes Is Question Mandatory : No Option Orientation : Vertical

Correct Marks : 1 Wrong Marks : 0.25

In which year was the Defence Research and Development Organization established?

Options :

1. ✗ 1947

2. ✗ 1952

3. ✗ 1956

4. ✓ 1958

Question Number : 31 Question Id : 7532295090 Question Type : MCQ Option Shuffling : Yes Is Question Mandatory : No Option Orientation : Vertical

Correct Marks : 1 Wrong Marks : 0.25

रक्षा अनुसंधान एवं विकास संगठन (DRDO) की स्थापना किस वर्ष हुई थी?

Options :

1. ✗ 1947

2. ✗ 1952

3. ✗ 1956

4. ✓ 1958

Question Number : 32 Question Id : 7532295091 Question Type : MCQ Option Shuffling : Yes Is Question Mandatory : No Option Orientation : Vertical

Correct Marks : 1 Wrong Marks : 0.25

Which one of the following is an indigenously developed rocket launched from a Multi-Barrel Rocket Launcher (MBRL)?

Options :

1. ✘ NAIKA ROCKET
2. ✓ PINAKA ROCKET
3. ✘ PITARA ROCKET
4. ✘ SHAKTI ROCKET

Question Number : 32 Question Id : 7532295091 Question Type : MCQ Option Shuffling : Yes Is Question Mandatory : No Option Orientation : Vertical

Correct Marks : 1 Wrong Marks : 0.25

निम्नलिखित में से कौन सा मल्टी-बैरल रॉकेट लॉन्चर (MBRL) द्वारा लॉन्च किया गया स्वदेशी रॉकेट है?

Options :

1. ✘ नीतिका रॉकेट
2. ✓ पिनाका रॉकेट
3. ✘ पिटारा रॉकेट
4. ✘ शक्ति रॉकेट

Question Number : 33 Question Id : 7532295092 Question Type : MCQ Option Shuffling : Yes Is Question Mandatory : No Option Orientation : Vertical

Correct Marks : 1 Wrong Marks : 0.25

The _____ was India's first indigenously developed ballistic missile produced by the Integrated Guided Missile Development Program (IGMDP).

Options :

1. ✓ Prithvi
2. ✘ Agni
3. ✘ Akash
4. ✘ Vayu

Question Number : 33 Question Id : 7532295092 Question Type : MCQ Option Shuffling : Yes Is Question Mandatory : No Option Orientation : Vertical

Correct Marks : 1 Wrong Marks : 0.25

_____, भारत की पहली विकसित स्वदेशी बैलिस्टिक मिसाइल थी जिसे इंटीग्रेटेड गाइडेड मिसाइल डेवलपमेंट प्रोग्राम (IGMDP) द्वारा बनाया गया था।

Options :

1. ✓ पृथ्वी
2. ✗ अग्नि
3. ✗ आकाश
4. ✗ वायु

Question Number : 34 Question Id : 7532295093 Question Type : MCQ Option Shuffling : Yes Is Question Mandatory : No Option Orientation : Vertical

Correct Marks : 1 Wrong Marks : 0.25

India's first indigenous _____ is, IAC-1.

Options :

1. ✓ Aircraft carrier
2. ✗ Rocket Launcher
3. ✗ Missile Launcher
4. ✗ Nuclear Warhead

Question Number : 34 Question Id : 7532295093 Question Type : MCQ Option Shuffling : Yes Is Question Mandatory : No Option Orientation : Vertical

Correct Marks : 1 Wrong Marks : 0.25

भारत का पहला स्वदेशी _____ IAC-1 है।

Options :

1. ✓ एयरक्राफ्ट कैरियर
2. ✗ रॉकेट लॉन्चर
3. ✗ मिसाइल लॉन्चर
4. ✗ न्यूक्लियर वॉरहेड

Question Number : 35 Question Id : 7532295094 Question Type : MCQ Option Shuffling : Yes Is Question Mandatory : No Option Orientation : Vertical

Correct Marks : 1 Wrong Marks : 0.25

As per Hindu Calendar 'Hemant Ritu' will fall in which period?

Options :

1. ✘ January-March
2. ✘ Mid July-September
3. ✔ Mid October-December
4. ✘ April-June

Question Number : 35 Question Id : 7532295094 Question Type : MCQ Option Shuffling : Yes Is Question Mandatory : No Option Orientation : Vertical

Correct Marks : 1 Wrong Marks : 0.25

हिंदू पंचांग के अनुसार 'हेमंत ऋतु' किस अवधि में आती है?

Options :

1. ✘ जनवरी-मार्च
2. ✘ मध्य जुलाई-सितंबर
3. ✔ मध्य अक्टूबर-दिसंबर
4. ✘ अप्रैल-जून

Question Number : 36 Question Id : 7532295095 Question Type : MCQ Option Shuffling : Yes Is Question Mandatory : No Option Orientation : Vertical

Correct Marks : 1 Wrong Marks : 0.25

Which one of the following state is located in the Western Himalayas?

Options :

1. ✘ Arunachal Pradesh
2. ✘ Nagaland
3. ✔ Uttarakhand
4. ✘ Mizoram

Question Number : 36 Question Id : 7532295095 Question Type : MCQ Option Shuffling : Yes Is Question Mandatory : No Option Orientation : Vertical

Correct Marks : 1 Wrong Marks : 0.25

निम्नलिखित में से कौन-सा राज्य पश्चिमी हिमालय में स्थित है?

Options :

1. ✘ अरुणाचल प्रदेश
2. ✘ नागालैंड
3. ✔ उत्तराखंड
4. ✘ मिजोरम

Question Number : 37 Question Id : 7532295096 Question Type : MCQ Option Shuffling : Yes Is Question Mandatory : No Option Orientation : Vertical

Correct Marks : 1 Wrong Marks : 0.25

In which state will you find the rivers Lahen, Lachung, Rangit and Rangpo?

Options :

1. ✔ Sikkim
2. ✘ Jharkhand
3. ✘ Assam
4. ✘ Chhattisgarh

Question Number : 37 Question Id : 7532295096 Question Type : MCQ Option Shuffling : Yes Is Question Mandatory : No Option Orientation : Vertical

Correct Marks : 1 Wrong Marks : 0.25

किस राज्य में आपको लाचेन, लाचुंग, रंगित और रंगपो नदियाँ मिलेंगी?

Options :

1. ✔ सिक्किम
2. ✘ झारखंड
3. ✘ असम
4. ✘ छत्तीसगढ़

Question Number : 38 Question Id : 7532295097 Question Type : MCQ Option Shuffling : Yes Is Question Mandatory : No Option Orientation : Vertical

Correct Marks : 1 Wrong Marks : 0.25

In which year was the first census of independent India done?

Options :

1. ✘ 1947
2. ✘ 1949
3. ✔ 1951
4. ✘ 1954

Question Number : 38 Question Id : 7532295097 Question Type : MCQ Option Shuffling : Yes Is Question Mandatory : No Option Orientation : Vertical

Correct Marks : 1 Wrong Marks : 0.25

स्वतंत्र भारत की पहली जनगणना किस वर्ष हुई थी?

Options :

1. ✘ 1947
2. ✘ 1949
3. ✔ 1951
4. ✘ 1954

Question Number : 39 Question Id : 7532295098 Question Type : MCQ Option Shuffling : Yes Is Question Mandatory : No Option Orientation : Vertical

Correct Marks : 1 Wrong Marks : 0.25

As per 'Household Social Consumption: Education in India as part of the 75th round of National Sample Survey – from July 2017 to June 2018' _____ is the most literate state in India.

Options :

1. ✘ Goa
2. ✘ Sikkim
3. ✘ Mizoram
4. ✔ Kerala

Question Number : 39 Question Id : 7532295098 Question Type : MCQ Option Shuffling : Yes Is Question Mandatory : No Option Orientation : Vertical

Correct Marks : 1 Wrong Marks : 0.25

'जुलाई 2017 से जून 2018 तक राष्ट्रीय नमूना सर्वेक्षण के 75 वें दौर के हिस्से के रूप में हुए पारिवारिक सामाजिक उपभोग: भारत में शिक्षा' के अनुसार _____

भारत का सबसे साक्षर राज्य है।

Options :

1. ✘ गोवा
2. ✘ सिक्किम
3. ✘ मिजोरम
4. ✔ केरल

Question Number : 40 Question Id : 7532295099 Question Type : MCQ Option Shuffling : Yes Is Question Mandatory : No Option Orientation : Vertical

Correct Marks : 1 Wrong Marks : 0.25

Where in India was the headquarters of The Theosophical Society established in India in the year 1882?

Options :

1. ✘ Calcutta
2. ✔ Madras
3. ✘ Lucknow
4. ✘ Delhi

Question Number : 40 Question Id : 7532295099 Question Type : MCQ Option Shuffling : Yes Is Question Mandatory : No Option Orientation : Vertical

Correct Marks : 1 Wrong Marks : 0.25

वर्ष 1882 में भारत में स्थापित थियोसोफिकल सोसायटी का मुख्यालय भारत में कहाँ था?

Options :

1. ✘ कलकत्ता
2. ✔ मद्रास
3. ✘ लखनऊ
4. ✘ दिल्ली

Arithmetic Ability

Group Number :

3

Group Id :

753229267

Group Maximum Duration :	0
Group Minimum Duration :	0
Show Attended Group? :	No
Edit Attended Group? :	No
Break time :	0
Group Marks :	20
Is this Group for Examiner? :	No

Arithmetic Ability

Section Id :	753229267
Section Number :	1
Section type :	Online
Mandatory or Optional :	Mandatory
Number of Questions :	20
Number of Questions to be attempted :	20
Section Marks :	20
Enable Mark as Answered Mark for Review and Clear Response :	Yes
Sub-Section Number :	1
Sub-Section Id :	753229322
Question Shuffling Allowed :	Yes

Question Number : 41 Question Id : 7532295100 Question Type : MCQ Option Shuffling : Yes Is Question Mandatory : No Option Orientation : Vertical Correct Marks : 1 Wrong Marks : 0.25

While calculating the average marks of 40 students of a class, marks of three students who actually scored 18 marks were noted as 28 by mistake. After correcting the error, the average of marks will reduce by

Options :

1. ✘ 0.9

2. ✔ 0.75

3. ✖ 0.6

4. ✖ 0.25

Question Number : 41 Question Id : 7532295100 Question Type : MCQ Option Shuffling : Yes Is Question Mandatory : No Option Orientation : Vertical

Correct Marks : 1 Wrong Marks : 0.25

किसी कक्षा के 40 छात्रों के औसत अंक की गणना करते समय, तीन छात्रों के अंक जिन्होंने वास्तव में 18 अंक अर्जित किए थे, गलती से 28 अंक लिख लिए गए। त्रुटि को ठीक करने के बाद, अंकों का औसत कितना कम हो जाएगा?

Options :

1. ✖ 0.9

2. ✔ 0.75

3. ✖ 0.6

4. ✖ 0.25

Question Number : 42 Question Id : 7532295101 Question Type : MCQ Option Shuffling : Yes Is Question Mandatory : No Option Orientation : Vertical

Correct Marks : 1 Wrong Marks : 0.25

Find the single discount equivalent to series of discounts of 10%, 15% and 18%.

Options :

1. ✖ 62.73%

2. ✖ 43%

3. ✔ 37.27%

4. ✘ 14.33%

Question Number : 42 Question Id : 7532295101 Question Type : MCQ Option Shuffling : Yes Is Question Mandatory : No Option Orientation : Vertical

Correct Marks : 1 Wrong Marks : 0.25

10%, 15% और 18% की क्रमिक छूट के बराबर एकल छूट ज्ञात कीजिए।

Options :

1. ✘ 62.73%

2. ✘ 43%

3. ✔ 37.27%

4. ✘ 14.33%

Question Number : 43 Question Id : 7532295102 Question Type : MCQ Option Shuffling : Yes Is Question Mandatory : No Option Orientation : Vertical

Correct Marks : 1 Wrong Marks : 0.25

The marked price of an article is ₹5200. Two successive discounts of 10% and 20% are offered on it due to season end. At what price is the article available to customers?

Options :

1. ✘ ₹3690

2. ✔ ₹3744

3. ✘ ₹3750

4. ✘ ₹3875

Question Number : 43 Question Id : 7532295102 Question Type : MCQ Option Shuffling : Yes Is Question Mandatory : No Option Orientation : Vertical

Correct Marks : 1 Wrong Marks : 0.25

किसी वस्तु का अंकित मूल्य ₹5200 है। सीजन का अंत होने के कारण उस पर 10% और 20% की दो क्रमिक छूट दी जाती है। ग्राहकों के लिए वस्तु किस मूल्य पर उपलब्ध है?

Options :

1. ✘ ₹3690
2. ✔ ₹3744
3. ✘ ₹3750
4. ✘ ₹3875

Question Number : 44 Question Id : 7532295103 Question Type : MCQ Option Shuffling : Yes Is Question Mandatory : No Option Orientation : Vertical

Correct Marks : 1 Wrong Marks : 0.25

A shopkeeper offers a discount of 12% on a TV and sells it for ₹61600. What is the marked price (in Rs) of the TV?

Options :

1. ✘ 68500
2. ✘ 69000
3. ✔ 70000
4. ✘ 72500

Question Number : 44 Question Id : 7532295103 Question Type : MCQ Option Shuffling : Yes Is Question Mandatory : No Option Orientation : Vertical

Correct Marks : 1 Wrong Marks : 0.25

कोई दुकानदार एक टीवी पर 12% की छूट देता है और उसे ₹61600 में बेच देता है। टीवी का अंकित मूल्य (₹ में) कितना है?

Options :

1. ✘ 68500
2. ✘ 69000
3. ✔ 70000
4. ✘ 72500

Question Number : 45 Question Id : 7532295104 Question Type : MCQ Option Shuffling : Yes Is Question Mandatory : No Option Orientation : Vertical

Correct Marks : 1 Wrong Marks : 0.25

A and B scored 440 and 520 marks respectively in an examination. If A scores 55% marks, find the percentage of marks scored by B.

Options :

1. ✔ 65%
2. ✘ 64.5%
3. ✘ 64%
4. ✘ 62%

Question Number : 45 Question Id : 7532295104 Question Type : MCQ Option Shuffling : Yes Is Question Mandatory : No Option Orientation : Vertical

Correct Marks : 1 Wrong Marks : 0.25

A और B ने किसी परीक्षा में क्रमशः 440 और 520 अंक अर्जित किए। यदि A ने 55% अंक अर्जित किए, तो B ने कितने प्रतिशत अंक अर्जित किए?

Options :

1. ✓ 65%
2. ✗ 64.5%
3. ✗ 64%
4. ✗ 62%

Question Number : 46 Question Id : 7532295105 Question Type : MCQ Option Shuffling : Yes Is Question Mandatory : No Option Orientation : Vertical

Correct Marks : 1 Wrong Marks : 0.25

Anita scored 72% marks out of 600 marks in an examination. She scored 42 marks more than Shailja. Find the percentage of marks scored by Shailja.

Options :

1. ✗ 60%
2. ✗ 62.5%
3. ✓ 65%
4. ✗ 66%

Question Number : 46 Question Id : 7532295105 Question Type : MCQ Option Shuffling : Yes Is Question Mandatory : No Option Orientation : Vertical

Correct Marks : 1 Wrong Marks : 0.25

किसी परीक्षा में अनीता ने 600 अंकों में से 72% अंक अर्जित किए। उसने शैलजा से 42 अंक अधिक अर्जित किए। शैलजा ने कितने प्रतिशत अंक अर्जित किए?

Options :

1. ✘ 60%
2. ✘ 62.5%
3. ✔ 65%
4. ✘ 66%

Question Number : 47 Question Id : 7532295106 Question Type : MCQ Option Shuffling : Yes Is Question Mandatory : No Option Orientation : Vertical

Correct Marks : 1 Wrong Marks : 0.25

Abhay scored 79% marks and Joseph scored 83% marks in an examination. If difference in their marks is 32, then what are the maximum marks of the examination?

Options :

1. ✘ 750
2. ✔ 800
3. ✘ 850
4. ✘ 900

Question Number : 47 Question Id : 7532295106 Question Type : MCQ Option Shuffling : Yes Is Question Mandatory : No Option Orientation : Vertical

Correct Marks : 1 Wrong Marks : 0.25

किसी परीक्षा में अभय ने 79% अंक और जोसेफ ने 83% अंक अर्जित किए। यदि उनके अंकों का अंतर 32 है, तो परीक्षा के अधिकतम अंक कितने हैं?

Options :

1. ✘ 750
2. ✔ 800
3. ✘ 850
4. ✘ 900

Question Number : 48 Question Id : 7532295107 Question Type : MCQ Option Shuffling : Yes Is Question Mandatory : No Option Orientation : Vertical

Correct Marks : 1 Wrong Marks : 0.25

A shopkeeper sold an item for ₹56 at a profit percent equal to the cost price. What is the cost price?

Options :

1. ✘ ₹38
2. ✔ ₹40
3. ✘ ₹38.5
4. ✘ ₹42

Question Number : 48 Question Id : 7532295107 Question Type : MCQ Option Shuffling : Yes Is Question Mandatory : No Option Orientation : Vertical

Correct Marks : 1 Wrong Marks : 0.25

एक दुकानदार ने किसी वस्तु को क्रय मूल्य के बराबर लाभ प्रतिशत पर ₹56 में बेचा। क्रय मूल्य कितना है?

Options :

1. ✘ ₹38
2. ✔ ₹40
3. ✘ ₹38.5
4. ✘ ₹42

Question Number : 49 Question Id : 7532295108 Question Type : MCQ Option Shuffling : Yes Is Question Mandatory : No Option Orientation : Vertical

Correct Marks : 1 Wrong Marks : 0.25

A shopkeeper sells two pen drives for ₹1140. The cost price of the first is equal to the selling price of the second pen drive. If he sells the first pen drive at 10% loss and the second pen drive at 20% gain, then what is his gain or loss percent? (correct to one decimal place)

Options :

1. ✘ 3.2% profit
2. ✘ 3.5% profit
3. ✔ 3.6% profit
4. ✘ 3.5% loss

Question Number : 49 Question Id : 7532295108 Question Type : MCQ Option Shuffling : Yes Is Question Mandatory : No Option Orientation : Vertical

Correct Marks : 1 Wrong Marks : 0.25

एक दुकानदार दो पेन ड्राइव को ₹1140 में बेचता है। पहले पेन ड्राइव का क्रय मूल्य दूसरे पेन ड्राइव के विक्रय मूल्य के बराबर है। यदि वह पहली पेन ड्राइव को 10% हानि पर और दूसरी पेन ड्राइव को 20% लाभ पर बेचता है, तो उसका लाभ या हानि प्रतिशत कितना है? (दशमलव के एक स्थान तक सही)

Options :

1. ✘ 3.2% लाभ
2. ✘ 3.5% लाभ
3. ✔ 3.6% लाभ
4. ✘ 3.5% हानि

Question Number : 50 Question Id : 7532295109 Question Type : MCQ Option Shuffling : Yes Is Question Mandatory : No Option Orientation : Vertical

Correct Marks : 1 Wrong Marks : 0.25

Rahul calculates his profit on the cost price whereas Sushil calculates it on the selling price. They find that the difference in their profits is ₹80. The selling prices of both of them are the same and both of them get 20% profit. Find their selling price.

Options :

1. ✘ ₹2200
2. ✘ ₹2250
3. ✘ ₹2275
4. ✔ ₹2400

Question Number : 50 Question Id : 7532295109 Question Type : MCQ Option Shuffling : Yes Is Question Mandatory : No Option

Orientation : Vertical

Correct Marks : 1 Wrong Marks : 0.25

राहुल अपने लाभ की गणना क्रय मूल्य पर करता है जबकि सुशील इसकी गणना विक्रय मूल्य पर करता है। वे पाते हैं कि उनके लाभ में ₹80 का अंतर है। दोनों के विक्रय मूल्य समान है और दोनों को 20% का लाभ होता है। उनका विक्रय मूल्य ज्ञात कीजिए।

Options :

1. ✘ ₹2200
2. ✘ ₹2250
3. ✘ ₹2275
4. ✔ ₹2400

Question Number : 51 Question Id : 7532295110 Question Type : MCQ Option Shuffling : Yes Is Question Mandatory : No Option Orientation : Vertical

Correct Marks : 1 Wrong Marks : 0.25

A certain sum of money is divided among A, B and C such that for each 100 rupees of A, B has 60 rupees and C has 25 rupees. If C's share is ₹280, then find the sum of money.

Options :

1. ✘ ₹2000
2. ✘ ₹2050
3. ✘ ₹2060
4. ✔ ₹2072

Question Number : 51 Question Id : 7532295110 Question Type : MCQ Option Shuffling : Yes Is Question Mandatory : No Option Orientation : Vertical

Correct Marks : 1 Wrong Marks : 0.25

किसी निश्चित राशि को A, B और C में इस प्रकार विभाजित की जाती है कि A के प्रत्येक ₹100 के लिए B के पास ₹60 और C के पास ₹25 हों। यदि C का हिस्सा ₹280 है, तो वह राशि ज्ञात कीजिए।

Options :

1. ✘ ₹2000
2. ✘ ₹2050
3. ✘ ₹2060
4. ✔ ₹2072

Question Number : 52 Question Id : 7532295111 Question Type : MCQ Option Shuffling : Yes Is Question Mandatory : No Option Orientation : Vertical

Correct Marks : 1 Wrong Marks : 0.25

The ratio of income of A and B last year was 2 : 3. Ratios of their respective income of last year and this year are 3 : 4 and 4 : 5 respectively. If the sum of their present incomes is ₹59136, then find the present income of A.

Options :

1. ✘ ₹24000
2. ✔ ₹24576
3. ✘ ₹25000
4. ✘ ₹25750

Question Number : 52 Question Id : 7532295111 Question Type : MCQ Option Shuffling : Yes Is Question Mandatory : No Option Orientation : Vertical

Correct Marks : 1 Wrong Marks : 0.25

पिछले वर्ष A और B की आय का अनुपात 2:3 था। पिछले वर्ष और इस वर्ष की उनकी संबंधित आय का अनुपात क्रमशः 3:4 और 4:5 है। यदि उनकी वर्तमान आय का योग ₹59136 है, तो A की वर्तमान आय ज्ञात कीजिए।

Options :

1. ✘ ₹24000
2. ✔ ₹24576
3. ✘ ₹25000
4. ✘ ₹25750

Question Number : 53 Question Id : 7532295112 Question Type : MCQ Option Shuffling : Yes Is Question Mandatory : No Option Orientation : Vertical

Correct Marks : 1 Wrong Marks : 0.25

Ratio of acid and water in solution A is 2 : 3 and that in solution B is 4 : 5. In what ratio the two solutions are mixed so that the new solution has acid and water in the ratio 3 : 4?

Options :

1. ✘ 5 : 8
2. ✘ 1 : 2
3. ✔ 5 : 9
4. ✘ 2 : 5

Question Number : 53 Question Id : 7532295112 Question Type : MCQ Option Shuffling : Yes Is Question Mandatory : No Option Orientation : Vertical

Correct Marks : 1 Wrong Marks : 0.25

विलयन A में अम्ल और जल का अनुपात 2 : 3 है और विलयन B में अम्ल और जल का अनुपात 4 : 5 है। दोनों विलयनों को किस अनुपात में मिलाया जाता है कि नए विलयन में अम्ल और जल का अनुपात 3 : 4 हो?

Options :

1. ✘ 5 : 8
2. ✘ 1 : 2
3. ✔ 5 : 9
4. ✘ 2 : 5

Question Number : 54 Question Id : 7532295113 Question Type : MCQ Option Shuffling : Yes Is Question Mandatory : No Option Orientation : Vertical

Correct Marks : 1 Wrong Marks : 0.25

A and B can do a piece of work in 9 and 12 days respectively. How many days will they take if they both work together?

Options :

1. ✘ 5
2. ✔ $5\frac{1}{7}$
3. ✘ $5\frac{1}{2}$
4. ✘ $5\frac{3}{4}$

Question Number : 54 Question Id : 7532295113 Question Type : MCQ Option Shuffling : Yes Is Question Mandatory : No Option

Orientation : Vertical

Correct Marks : 1 Wrong Marks : 0.25

A और B एक कार्य को क्रमशः 9 और 12 दिन में पूरा कर सकते हैं। यदि वे दोनों एक साथ कार्य करें तो उन्हें कार्य पूरा करने में कितने दिन लगेंगे?

Options :

1. ✘ 5

2. ✔ $5\frac{1}{7}$

3. ✘ $5\frac{1}{2}$

4. ✘ $5\frac{3}{4}$

Question Number : 55 Question Id : 7532295114 Question Type : MCQ Option Shuffling : Yes Is Question Mandatory : No Option Orientation : Vertical

Correct Marks : 1 Wrong Marks : 0.25

A, B and C are three pipes connected to a water tank. Pipes A and B together can fill the tank in 12 hours. Pipes B and C together can fill the tank in 15 hours. If pipes A and C together can fill the tank in 20 hours, then in how much time will pipe C alone fill the tank?

Options :

1. ✘ 55 hours

2. ✘ 58 hours 30 minutes

3. ✘ 59 hours 45 minutes

4. ✔ 60 hours

Question Number : 55 Question Id : 7532295114 Question Type : MCQ Option Shuffling : Yes Is Question Mandatory : No Option Orientation : Vertical

Correct Marks : 1 Wrong Marks : 0.25

तीन पाइपें A, B और C एक पानी की टंकी से जुड़ी हैं। पाइप A और B मिलकर टैंक को 12 hr में भर सकते हैं। पाइप B और C मिलकर टैंक को 15 hr में भर सकते हैं। यदि पाइप A और C मिलकर टैंक को 20 hr में भर सकते हैं, तो पाइप C अकेले टैंक को कितने समय में भरेगा?

Options :

1. ✘ 55 hr
2. ✘ 58 hr 30 min
3. ✘ 59 hr 45 min
4. ✔ 60 hr

Question Number : 56 Question Id : 7532295115 Question Type : MCQ Option Shuffling : Yes Is Question Mandatory : No Option Orientation : Vertical

Correct Marks : 1 Wrong Marks : 0.25

Two persons A and B undertake to do a piece of work for ₹4900. A alone can do it in 8 days while B alone can do it in 10 days. With the assistance of another person C they finished the work in 4 days. What is the share of B?

Options :

1. ✘ ₹1920
2. ✘ ₹1950
3. ✔ ₹1960

4. ✖ ₹1975

Question Number : 56 Question Id : 7532295115 Question Type : MCQ Option Shuffling : Yes Is Question Mandatory : No Option Orientation : Vertical

Correct Marks : 1 Wrong Marks : 0.25

दो व्यक्ति A और B किसी कार्य को ₹4900 में पूरा करने का ठेका लेते हैं। A अकेला इसे 8 दिन में कर सकता है जबकि B अकेला इसे 10 दिन में कर सकता है। एक अन्य व्यक्ति C की सहायता से उन्होंने कार्य को 4 दिन में पूरा कर दिया। B का हिस्सा कितना है?

Options :

1. ✖ ₹1920

2. ✖ ₹1950

3. ✔ ₹1960

4. ✖ ₹1975

Question Number : 57 Question Id : 7532295116 Question Type : MCQ Option Shuffling : Yes Is Question Mandatory : No Option Orientation : Vertical

Correct Marks : 1 Wrong Marks : 0.25

9 men and 18 women can do a work in 6 days. 36 men and 12 women can do the same work in 3 days. How many days are required for 15 men and 25 women to do the same work?

Options :

1. ✖ $3\frac{1}{2}$

2. ✔ 4

3. ✖ $4\frac{1}{3}$

4. ✘ 5

Question Number : 57 Question Id : 7532295116 Question Type : MCQ Option Shuffling : Yes Is Question Mandatory : No Option Orientation : Vertical

Correct Marks : 1 Wrong Marks : 0.25

9 पुरुष और 18 महिलाएं किसी कार्य को 6 दिन में पूरा कर सकते हैं। 36 पुरुष और 12 महिलाएं उसी कार्य को 3 दिन में पूरा कर सकते हैं। उसी कार्य को करने के लिए 15 पुरुष और 25 महिलाओं को कितने दिनों की आवश्यकता होगी?

Options :

1. ✘ $3\frac{1}{2}$

2. ✔ 4

3. ✘ $4\frac{1}{3}$

4. ✘ 5

Question Number : 58 Question Id : 7532295117 Question Type : MCQ Option Shuffling : Yes Is Question Mandatory : No Option Orientation : Vertical

Correct Marks : 1 Wrong Marks : 0.25

Two persons are walking in the same direction at the speed of 3 km/h and 5 km/h respectively. If a train moving in the same direction overtakes them in 20 and 21 seconds respectively, then find the length of the train (in m).

Options :

1. ✘ 220

2. ✘ $220\frac{1}{2}$

3. ✘ 225

4. ✔ $233\frac{1}{3}$

Question Number : 58 Question Id : 7532295117 Question Type : MCQ Option Shuffling : Yes Is Question Mandatory : No Option Orientation : Vertical

Correct Marks : 1 Wrong Marks : 0.25

दो व्यक्ति एक ही दिशा में क्रमशः 3 km/h और 5 km/h की चाल से चल रहे हैं। यदि उसी दिशा में चलती हुई एक रेलगाड़ी उन्हें क्रमशः 20s और 21 s में पार करती है, तो रेलगाड़ी की लंबाई (m में) ज्ञात करें।

Options :

1. ✘ 220

2. ✘ $220\frac{1}{2}$

3. ✘ 225

4. ✔ $233\frac{1}{3}$

Question Number : 59 Question Id : 7532295118 Question Type : MCQ Option Shuffling : Yes Is Question Mandatory : No Option Orientation : Vertical

Correct Marks : 1 Wrong Marks : 0.25

A boat covers 32 km upstream and 36 km downstream in 7 hours, while it covers 48 km upstream and 24 km downstream in 8 hours. Find the speed of the boat in still water (in km/h).

Options :

1. ✘ 8

2. ✘ 9.2

3. ✔ 10

4. ✘ 10.5

Question Number : 59 Question Id : 7532295118 Question Type : MCQ Option Shuffling : Yes Is Question Mandatory : No Option Orientation : Vertical

Correct Marks : 1 Wrong Marks : 0.25

कोई नाव प्रतिप्रवाह दिशा में 32km और अनुप्रवाह दिशा में 36km की दूरी 7hr में तय करती है, जबकि यह प्रतिप्रवाह दिशा में 48km और अनुप्रवाह दिशा में 24km की दूरी 8hr में तय करती है। ठहरे जल में नाव की चाल (km/h में) ज्ञात कीजिए।

Options :

1. ✘ 8

2. ✘ 9.2

3. ✔ 10

4. ✘ 10.5

Question Number : 60 Question Id : 7532295119 Question Type : MCQ Option Shuffling : Yes Is Question Mandatory : No Option Orientation : Vertical

Correct Marks : 1 Wrong Marks : 0.25

The value of $(4.5 \times 4.5 \times 4.5 \times 4.5) \div 225 \div 25 + 5^3$ is:

Options :

1. ✘ 128.0528

2. ✓ 125.0729

3. ✗ 124.0829

4. ✗ 125.0739

Question Number : 60 Question Id : 7532295119 Question Type : MCQ Option Shuffling : Yes Is Question Mandatory : No Option Orientation : Vertical

Correct Marks : 1 Wrong Marks : 0.25

$(4.5 \times 4.5 \times 4.5 \times 4.5) \div 225 \div 25 + 5^3$ का मान ज्ञात कीजिए।

Options :

1. ✗ 128.0528

2. ✓ 125.0729

3. ✗ 124.0829

4. ✗ 125.0739

General English

Group Number :	4
Group Id :	753229268
Group Maximum Duration :	0
Group Minimum Duration :	0
Show Attended Group? :	No
Edit Attended Group? :	No
Break time :	0
Group Marks :	20

Is this Group for Examiner? :

No

General English

Section Id :	753229268
Section Number :	1
Section type :	Online
Mandatory or Optional :	Mandatory
Number of Questions :	16
Number of Questions to be attempted :	16
Section Marks :	20
Enable Mark as Answered Mark for Review and Clear Response :	Yes
Sub-Section Number :	1
Sub-Section Id :	753229323
Question Shuffling Allowed :	Yes

Question Number : 61 Question Id : 7532295120 Question Type : MCQ Option Shuffling : Yes Is Question Mandatory : No Option Orientation : Vertical

Correct Marks : 1 Wrong Marks : 0.25

Fill in the blank using the correct option. In case no article is needed, select option No Article.

I was born in _____ state of Uttarakhand in north India.

Options :

1. ✘ a
2. ✘ an
3. ✔ the
4. ✘ No Article

Question Number : 61 Question Id : 7532295120 Question Type : MCQ Option Shuffling : Yes Is Question Mandatory : No Option Orientation : Vertical

Correct Marks : 1 Wrong Marks : 0.25

Fill in the blank using the correct option. In case no article is needed, select option No Article.

I was born in _____ state of Uttarakhand in north India.

Options :

1. ✘ a
2. ✘ an
3. ✔ the
4. ✘ No Article

Question Number : 62 Question Id : 7532295121 Question Type : MCQ Option Shuffling : Yes Is Question Mandatory : No Option Orientation : Vertical

Correct Marks : 1 Wrong Marks : 0.25

Fill in the blank using the correct option. In case no article is needed, select option No Article.

We dressed the little girl as _____ Indian gypsy.

Options :

1. ✘ a
2. ✔ an
3. ✘ the
4. ✘ No Article

Question Number : 62 Question Id : 7532295121 Question Type : MCQ Option Shuffling : Yes Is Question Mandatory : No Option Orientation : Vertical

Correct Marks : 1 Wrong Marks : 0.25

Fill in the blank using the correct option. In case no article is needed, select option No Article.

We dressed the little girl as _____ Indian gypsy.

Options :

1. ✘ a
2. ✔ an
3. ✘ the
4. ✘ No Article

Question Number : 63 Question Id : 7532295122 Question Type : MCQ Option Shuffling : Yes Is Question Mandatory : No Option Orientation : Vertical

Correct Marks : 1 Wrong Marks : 0.25

Fill in the blank using the correct option. In case no article is needed, select option No Article.

My folding umbrella couldn't shield me from _____ heavy downpour.

Options :

1. ✘ a
2. ✘ an
3. ✔ the
4. ✘ No Article

Question Number : 63 Question Id : 7532295122 Question Type : MCQ Option Shuffling : Yes Is Question Mandatory : No Option Orientation : Vertical

Correct Marks : 1 Wrong Marks : 0.25

Fill in the blank using the correct option. In case no article is needed, select option No Article.

My folding umbrella couldn't shield me from _____ heavy downpour.

Options :

1. ✘ a
2. ✘ an
3. ✔ the
4. ✘ No Article

Question Number : 64 Question Id : 7532295123 Question Type : MCQ Option Shuffling : Yes Is Question Mandatory : No Option Orientation : Vertical

Correct Marks : 1 Wrong Marks : 0.25

The following text contains four underlined words or phrases. One is incorrect. Choose the incorrect option.

With good teaching, dyslexics can eventually learn to read, but they often read more slowly then others.

Options :

1. ✘ dyslexics
2. ✘ eventually
3. ✘ often
4. ✔ then

Question Number : 64 Question Id : 7532295123 Question Type : MCQ Option Shuffling : Yes Is Question Mandatory : No Option Orientation : Vertical

Correct Marks : 1 Wrong Marks : 0.25

The following text contains four underlined words or phrases. One is incorrect. Choose the incorrect option.

With good teaching, dyslexics can eventually learn to read, but they often read more slowly then others.

Options :

1. ✘ dyslexics
2. ✘ eventually
3. ✘ often
4. ✔ then

Question Number : 65 Question Id : 7532295124 Question Type : MCQ Option Shuffling : Yes Is Question Mandatory : No Option Orientation : Vertical

Correct Marks : 1 Wrong Marks : 0.25

Choose the correct meaning of the following idiom from the options given below:

Close fisted

Options :

1. ✔ Miser
2. ✘ Spendthrift
3. ✘ Generous
4. ✘ Powerful

Question Number : 65 Question Id : 7532295124 Question Type : MCQ Option Shuffling : Yes Is Question Mandatory : No Option Orientation : Vertical

Correct Marks : 1 Wrong Marks : 0.25

Choose the correct meaning of the following idiom from the options given below:

Close fisted

Options :

1. ✔ Miser

2. ✘ Spendthrift
3. ✘ Generous
4. ✘ Powerful

Question Number : 66 Question Id : 7532295125 Question Type : MCQ Option Shuffling : Yes Is Question Mandatory : No Option Orientation : Vertical

Correct Marks : 1 Wrong Marks : 0.25

Choose the correct one word substitution of the given sentence from the options given below:

A woman's handbag in earlier days was called as _____.

Options :

1. ✘ Holdall
2. ✔ Reticule
3. ✘ Backpack
4. ✘ Wallet

Question Number : 66 Question Id : 7532295125 Question Type : MCQ Option Shuffling : Yes Is Question Mandatory : No Option Orientation : Vertical

Correct Marks : 1 Wrong Marks : 0.25

Choose the correct one word substitution of the given sentence from the options given below:

A woman's handbag in earlier days was called as _____.

Options :

1. ✘ Holdall
2. ✔ Reticule
3. ✘ Backpack
4. ✘ Wallet

Question Number : 67 Question Id : 7532295126 Question Type : MCQ Option Shuffling : Yes Is Question Mandatory : No Option Orientation : Vertical

Correct Marks : 1 Wrong Marks : 0.25

Read the following sentence and identify the part that has an error.

She spoke /so soft/ that we could / hardly hear her.

Options :

1. ✘ She spoke
2. ✔ so soft
3. ✘ that we could
4. ✘ hardly hear her

Question Number : 67 Question Id : 7532295126 Question Type : MCQ Option Shuffling : Yes Is Question Mandatory : No Option Orientation : Vertical

Correct Marks : 1 Wrong Marks : 0.25

Read the following sentence and identify the part that has an error.

She spoke /so soft/ that we could / hardly hear her.

Options :

1. ✘ She spoke
2. ✔ so soft
3. ✘ that we could
4. ✘ hardly hear her

Question Number : 68 Question Id : 7532295127 Question Type : MCQ Option Shuffling : Yes Is Question Mandatory : No Option Orientation : Vertical

Correct Marks : 1 Wrong Marks : 0.25

Read the following sentence and identify the part that has an error.

Anu said to her mother, / “Please don’t buy/ the expensive bags, /buy the cheaper one’s.”

Options :

1. ✘ Anu said to her mother
2. ✘ Please don’t buy
3. ✘ the expensive bags
4. ✔ buy the cheaper one’s

Question Number : 68 Question Id : 7532295127 Question Type : MCQ Option Shuffling : Yes Is Question Mandatory : No Option Orientation : Vertical

Correct Marks : 1 Wrong Marks : 0.25

Read the following sentence and identify the part that has an error.

Anu said to her mother, / “Please don’t buy/ the expensive bags, /buy the cheaper one’s.”

Options :

1. ✘ Anu said to her mother
2. ✘ Please don’t buy
3. ✘ the expensive bags
4. ✔ buy the cheaper one’s

Question Number : 69 Question Id : 7532295128 Question Type : MCQ Option Shuffling : Yes Is Question Mandatory : No Option Orientation : Vertical

Correct Marks : 1 Wrong Marks : 0.25

Identify the segment in the sentence, which contains the grammatical error.

I do not/ like to laugh/ above his/ silly jokes.

Options :

1. ✘ I do not
2. ✘ like to laugh
3. ✔ above his
4. ✘ silly jokes

Question Number : 69 Question Id : 7532295128 Question Type : MCQ Option Shuffling : Yes Is Question Mandatory : No Option Orientation : Vertical

Correct Marks : 1 Wrong Marks : 0.25

Identify the segment in the sentence, which contains the grammatical error.

I do not/ like to laugh/ above his/ silly jokes.

Options :

1. ✘ I do not
2. ✘ like to laugh
3. ✔ above his
4. ✘ silly jokes

Question Number : 70 Question Id : 7532295129 Question Type : MCQ Option Shuffling : Yes Is Question Mandatory : No Option Orientation : Vertical

Correct Marks : 1 Wrong Marks : 0.25

Identify the segment in the sentence, which contains the grammatical error.

Although it was/ very cold outside / even we went/ for a walk.

Options :

1. ✘ Although it was
2. ✘ very cold outside
3. ✔ even we went
4. ✘ for a walk

Question Number : 70 Question Id : 7532295129 Question Type : MCQ Option Shuffling : Yes Is Question Mandatory : No Option Orientation : Vertical

Correct Marks : 1 Wrong Marks : 0.25

Identify the segment in the sentence, which contains the grammatical error.

Although it was/ very cold outside / even we went/ for a walk.

Options :

1. ✘ Although it was
2. ✘ very cold outside
3. ✔ even we went
4. ✘ for a walk

Question Number : 71 Question Id : 7532295130 Question Type : MCQ Option Shuffling : Yes Is Question Mandatory : No Option Orientation : Vertical

Correct Marks : 1 Wrong Marks : 0.25

Select the meaning of the underlined idiom in the given sentence.

What the speaker said was all stuff and nonsense.

Options :

1. ✔ Absurd

2. ✘ Effective
3. ✘ Relevant
4. ✘ Impressive

Question Number : 71 Question Id : 7532295130 Question Type : MCQ Option Shuffling : Yes Is Question Mandatory : No Option Orientation : Vertical

Correct Marks : 1 Wrong Marks : 0.25

Select the meaning of the underlined idiom in the given sentence.

What the speaker said was all stuff and nonsense.

Options :

1. ✔ Absurd
2. ✘ Effective
3. ✘ Relevant
4. ✘ Impressive

Question Number : 72 Question Id : 7532295131 Question Type : MCQ Option Shuffling : Yes Is Question Mandatory : No Option Orientation : Vertical

Correct Marks : 1 Wrong Marks : 0.25

Fill in the blank with the most appropriate idiom. The meaning of the idiom is given in brackets for guidance.

The detective didn't realize that he was _____ (making a mistake) the wrong tree by falling prey to the wrong version of the story.

Options :

1. ✘ climbing down
2. ✔ barking up
3. ✘ barking down
4. ✘ climbing up

Question Number : 72 Question Id : 7532295131 Question Type : MCQ Option Shuffling : Yes Is Question Mandatory : No Option Orientation : Vertical

Correct Marks : 1 Wrong Marks : 0.25

Fill in the blank with the most appropriate idiom. The meaning of the idiom is given in brackets for guidance.

The detective didn't realize that he was _____ (making a mistake) the wrong tree by falling prey to the wrong version of the story.

Options :

1. ✘ climbing down
2. ✔ barking up
3. ✘ barking down
4. ✘ climbing up

Question Number : 73 Question Id : 7532295132 Question Type : MCQ Option Shuffling : Yes Is Question Mandatory : No Option Orientation : Vertical

Correct Marks : 1 Wrong Marks : 0.25

Select the one-word substitute for the underlined group of words in the given sentence.

Today's board meeting was going to be a long one. I saw the secretary placing a long list of items to be discussed during the meeting on his table.

Options :

1. ✔ Agenda
2. ✘ Schedule
3. ✘ Timetable
4. ✘ Status

Question Number : 73 Question Id : 7532295132 Question Type : MCQ Option Shuffling : Yes Is Question Mandatory : No Option Orientation : Vertical

Correct Marks : 1 Wrong Marks : 0.25

Select the one-word substitute for the underlined group of words in the given sentence.

Today's board meeting was going to be a long one. I saw the secretary placing a long list of items to be discussed during the meeting on his table.

Options :

1. ✔ Agenda
2. ✘ Schedule
3. ✘ Timetable
4. ✘ Status

Question Number : 74 Question Id : 7532295133 Question Type : MCQ Option Shuffling : Yes Is Question Mandatory : No Option Orientation : Vertical

Correct Marks : 1 Wrong Marks : 0.25

Choose the correct ANTONYM of the given word.

FOOLISH

Options :

1. ✓ Wise
2. ✗ Absurd
3. ✗ Graceful
4. ✗ Simple

Question Number : 74 Question Id : 7532295133 Question Type : MCQ Option Shuffling : Yes Is Question Mandatory : No Option Orientation : Vertical

Correct Marks : 1 Wrong Marks : 0.25

Choose the correct ANTONYM of the given word.

FOOLISH

Options :

1. ✓ Wise
2. ✗ Absurd
3. ✗ Graceful
4. ✗ Simple

Question Number : 75 Question Id : 7532295134 Question Type : MCQ Option Shuffling : Yes Is Question Mandatory : No Option Orientation : Vertical

Correct Marks : 1 Wrong Marks : 0.25

Select the word which is closest in meaning to the word given below:

Recondite

Options :

1. ✗ Conspicuous
2. ✓ Concealed
3. ✗ Palpable
4. ✗ Responsible

Question Number : 75 Question Id : 7532295134 Question Type : MCQ Option Shuffling : Yes Is Question Mandatory : No Option Orientation : Vertical

Correct Marks : 1 Wrong Marks : 0.25

Select the word which is closest in meaning to the word given below:

Recondite

Options :

1. ✘ Conspicuous
2. ✔ Concealed
3. ✘ Palpable
4. ✘ Responsible

Sub-Section Number :

2

Sub-Section Id :

753229324

Question Shuffling Allowed :

Yes

Question Id : 7532295135 Question Type : COMPREHENSION Sub Question Shuffling Allowed : Yes Group Comprehension Questions : No

Question Numbers : (76 to 80)

In the following passage some words have been deleted. Fill in the blanks with the most suitable option. Choose the most appropriate option for each number.

The government has plans to set up a mobile phone manufacturing company in my town. It will (1)_____ as many as 2000 jobs across the country. The company (2)_____ is due to start production early next year will (3)_____ employment to 1500 people in its factory. Later, when the company begins operations in other (4)_____ of the country, there will be more employment (5)_____ for young people.

Sub questions

Question Number : 76 Question Id : 7532295136 Question Type : MCQ Option Shuffling : Yes Is Question Mandatory : No Option Orientation : Vertical

Correct Marks : 1 Wrong Marks : 0.25

Choose the most appropriate option to fill blank no. 1.

Options :

1. ✔ create
2. ✘ make

3. ✘ start
4. ✘ discover

Question Number : 77 Question Id : 7532295137 Question Type : MCQ Option Shuffling : Yes Is Question Mandatory : No Option Orientation : Vertical

Correct Marks : 1 Wrong Marks : 0.25

Choose the most appropriate option to fill blank no. 2.

Options :

1. ✘ who
2. ✔ which
3. ✘ what
4. ✘ where

Question Number : 78 Question Id : 7532295138 Question Type : MCQ Option Shuffling : Yes Is Question Mandatory : No Option Orientation : Vertical

Correct Marks : 1 Wrong Marks : 0.25

Choose the most appropriate option to fill blank no. 3.

Options :

1. ✘ contribute
2. ✘ serve
3. ✘ arrange
4. ✔ provide

Question Number : 79 Question Id : 7532295139 Question Type : MCQ Option Shuffling : Yes Is Question Mandatory : No Option Orientation : Vertical

Correct Marks : 1 Wrong Marks : 0.25

Choose the most appropriate option to fill blank no. 4.

Options :

1. ✘ units
2. ✔ parts
3. ✘ models
4. ✘ divisions

Question Number : 80 Question Id : 7532295140 Question Type : MCQ Option Shuffling : Yes Is Question Mandatory : No Option Orientation : Vertical

Correct Marks : 1 Wrong Marks : 0.25

Choose the most appropriate option to fill blank no. 5.

Options :

1. ✘ courses
2. ✘ moments
3. ✔ opportunities
4. ✘ connections

Question Id : 7532295135 Question Type : COMPREHENSION Sub Question Shuffling Allowed : Yes Group Comprehension Questions : No

Question Numbers : (76 to 80)

In the following passage some words have been deleted. Fill in the blanks with the most suitable option. Choose the most appropriate option for each number.

The government has plans to set up a mobile phone manufacturing company in my town. It will (1)_____ as many as 2000 jobs across the country. The company (2)_____ is due to start production early next year will (3)_____ employment to 1500 people in its factory. Later, when the company begins operations in other (4)_____ of the country, there will be more employment (5)_____ for young people.

Sub questions

Question Number : 76 Question Id : 7532295136 Question Type : MCQ Option Shuffling : Yes Is Question Mandatory : No Option Orientation : Vertical

Correct Marks : 1 Wrong Marks : 0.25

Choose the most appropriate option to fill blank no. 1.

Options :

1. ✔ create
2. ✘ make
3. ✘ start
4. ✘ discover

Question Number : 77 Question Id : 7532295137 Question Type : MCQ Option Shuffling : Yes Is Question Mandatory : No Option Orientation : Vertical

Correct Marks : 1 Wrong Marks : 0.25

Choose the most appropriate option to fill blank no. 2.

Options :

1. ✘ who
2. ✔ which
3. ✘ what
4. ✘ where

Question Number : 78 Question Id : 7532295138 Question Type : MCQ Option Shuffling : Yes Is Question Mandatory : No Option Orientation : Vertical

Correct Marks : 1 Wrong Marks : 0.25

Choose the most appropriate option to fill blank no. 3.

Options :

1. ✘ contribute
2. ✘ serve
3. ✘ arrange
4. ✔ provide

Question Number : 79 Question Id : 7532295139 Question Type : MCQ Option Shuffling : Yes Is Question Mandatory : No Option Orientation : Vertical

Correct Marks : 1 Wrong Marks : 0.25

Choose the most appropriate option to fill blank no. 4.

Options :

1. ✘ units
2. ✔ parts
3. ✘ models
4. ✘ divisions

Question Number : 80 Question Id : 7532295140 Question Type : MCQ Option Shuffling : Yes Is Question Mandatory : No Option Orientation : Vertical

Correct Marks : 1 Wrong Marks : 0.25

Choose the most appropriate option to fill blank no. 5.

Options :

1. ✘ courses

2. ✘ moments
3. ✔ opportunities
4. ✘ connections

General Hindi

Group Number :	5
Group Id :	753229269
Group Maximum Duration :	0
Group Minimum Duration :	0
Show Attended Group? :	No
Edit Attended Group? :	No
Break time :	0
Group Marks :	20
Is this Group for Examiner? :	No

General Hindi

Section Id :	753229269
Section Number :	1
Section type :	Online
Mandatory or Optional :	Mandatory
Number of Questions :	16
Number of Questions to be attempted :	16
Section Marks :	20
Enable Mark as Answered Mark for Review and Clear Response :	Yes
Sub-Section Number :	1
Sub-Section Id :	753229325
Question Shuffling Allowed :	Yes

Question Number : 81 Question Id : 7532295141 Question Type : MCQ Option Shuffling : Yes Is Question Mandatory : No Option Orientation : Vertical

Correct Marks : 1 Wrong Marks : 0.25

सम्बोधन कारक एकवचन 'हे देवी' का सही बहुवचन होगा-

Options :

1. ✓ हे देवियो
2. ✗ हे देवियों
3. ✗ हे देविओ
4. ✗ हे देविओं

Question Number : 81 Question Id : 7532295141 Question Type : MCQ Option Shuffling : Yes Is Question Mandatory : No Option Orientation : Vertical

Correct Marks : 1 Wrong Marks : 0.25

सम्बोधन कारक एकवचन 'हे देवी' का सही बहुवचन होगा-

Options :

1. ✓ हे देवियो
2. ✗ हे देवियों
3. ✗ हे देविओ
4. ✗ हे देविओं

Question Number : 82 Question Id : 7532295142 Question Type : MCQ Option Shuffling : Yes Is Question Mandatory : No Option Orientation : Vertical

Correct Marks : 1 Wrong Marks : 0.25

'सुरेश ने एक गज कपड़ा खरीदा।' वाक्य के रेखांकित अंश को किस विकल्प से प्रस्थापित किया जा सकता है?

Options :

1. ✗ गज तक
2. ✓ गज भर
3. ✗ गज भरा
4. ✗ पूरा गज

Question Number : 82 Question Id : 7532295142 Question Type : MCQ Option Shuffling : Yes Is Question Mandatory : No Option Orientation : Vertical

Correct Marks : 1 Wrong Marks : 0.25

‘सुरेश ने एक गज कपड़ा खरीदा।’ वाक्य के रेखांकित अंश को किस विकल्प से प्रस्थापित किया जा सकता है?

Options :

1. ✘ गज तक
2. ✔ गज भर
3. ✘ गज भरा
4. ✘ पूरा गज

Question Number : 83 Question Id : 7532295143 Question Type : MCQ Option Shuffling : Yes Is Question Mandatory : No Option Orientation : Vertical

Correct Marks : 1 Wrong Marks : 0.25

निम्नलिखित में से कौन सा वाक्य ‘एकवचन’ का है?

Options :

1. ✔ हरि तुम्हारे मामा हैं।
2. ✘ प्रेम और हरि तुम्हारे मामा हैं।
3. ✘ स्कूल के अनेक दाता हैं।
4. ✘ साधु आए हैं।

Question Number : 83 Question Id : 7532295143 Question Type : MCQ Option Shuffling : Yes Is Question Mandatory : No Option Orientation : Vertical

Correct Marks : 1 Wrong Marks : 0.25

निम्नलिखित में से कौन सा वाक्य ‘एकवचन’ का है?

Options :

1. ✔ हरि तुम्हारे मामा हैं।
2. ✘ प्रेम और हरि तुम्हारे मामा हैं।
3. ✘ स्कूल के अनेक दाता हैं।
4. ✘ साधु आए हैं।

Question Number : 84 Question Id : 7532295144 Question Type : MCQ Option Shuffling : Yes Is Question Mandatory : No Option Orientation : Vertical

Correct Marks : 1 Wrong Marks : 0.25

वचन की दृष्टि से कौन सा वाक्य अशुद्ध है?

Options :

1. ✘ हर एक कुआँ मीठे जल का नहीं होता।
2. ✔ आपका दर्शन हुआ।
3. ✘ उनके ओठ खुले।
4. ✘ आँख से आँसू निकले।

Question Number : 84 Question Id : 7532295144 Question Type : MCQ Option Shuffling : Yes Is Question Mandatory : No Option Orientation : Vertical

Correct Marks : 1 Wrong Marks : 0.25

वचन की दृष्टि से कौन सा वाक्य अशुद्ध है?

Options :

1. ✘ हर एक कुआँ मीठे जल का नहीं होता।
2. ✔ आपका दर्शन हुआ।
3. ✘ उनके ओठ खुले।
4. ✘ आँख से आँसू निकले।

Question Number : 85 Question Id : 7532295145 Question Type : MCQ Option Shuffling : Yes Is Question Mandatory : No Option Orientation : Vertical

Correct Marks : 1 Wrong Marks : 0.25

किस विकल्प के सभी शब्द पर्यायवाची हैं?

Options :

1. ✘ तनुज, पंडित, धरा
2. ✘ अगम, मीन, रम्य
3. ✘ सागर, घन, तरु
4. ✔ तनय, सुत, बेटा

Question Number : 85 Question Id : 7532295145 Question Type : MCQ Option Shuffling : Yes Is Question Mandatory : No Option Orientation : Vertical

Correct Marks : 1 Wrong Marks : 0.25

किस विकल्प के सभी शब्द पर्यायवाची हैं?

Options :

1. ✘ तनुज, पंडित, धरा
2. ✘ अगम, मीन, रम्य
3. ✘ सागर, घन, तरु
4. ✔ तनय, सुत, बेटा

Question Number : 86 Question Id : 7532295146 Question Type : MCQ Option Shuffling : Yes Is Question Mandatory : No Option Orientation : Vertical

Correct Marks : 1 Wrong Marks : 0.25

उत्तरायण का विलोम शब्द होगा -

Options :

1. ✘ उत्तरका
2. ✘ जवाब
3. ✔ दक्षिणायन
4. ✘ पश्चिमका

Question Number : 86 Question Id : 7532295146 Question Type : MCQ Option Shuffling : Yes Is Question Mandatory : No Option Orientation : Vertical

Correct Marks : 1 Wrong Marks : 0.25

उत्तरायण का विलोम शब्द होगा -

Options :

1. ✘ उत्तरका
2. ✘ जवाब
3. ✔ दक्षिणायन
4. ✘ पश्चिमका

Question Number : 87 Question Id : 7532295147 Question Type : MCQ Option Shuffling : Yes Is Question Mandatory : No Option Orientation : Vertical

Correct Marks : 1 Wrong Marks : 0.25

निम्न में से किस मुहावरे का अर्थ 'विवेक भ्रष्ट होना' है।

Options :

1. ✘ अंधाबनना

2. ✘ अंधाबनाना
3. ✔ अंधाहोना
4. ✘ अंधादिखना

Question Number : 87 Question Id : 7532295147 Question Type : MCQ Option Shuffling : Yes Is Question Mandatory : No Option Orientation : Vertical

Correct Marks : 1 Wrong Marks : 0.25

निम्न में से किस मुहावरे का अर्थ 'विवेक भ्रष्ट होना' है।

Options :

1. ✘ अंधाबनाना
2. ✘ अंधाबनाना
3. ✔ अंधाहोना
4. ✘ अंधादिखना

Question Number : 88 Question Id : 7532295148 Question Type : MCQ Option Shuffling : Yes Is Question Mandatory : No Option Orientation : Vertical

Correct Marks : 1 Wrong Marks : 0.25

महत्त्वपूर्ण कथन, कहावत, संधि आदि को उद्धृत करने में किस विराम चिह्न का प्रयोग होता है?

Options :

1. ✘ इकहराउद्धरण चिह्न
2. ✔ दुहराउद्धरण चिह्न
3. ✘ प्रश्नवाचक चिह्न
4. ✘ विस्मयादिबोधक चिह्न

Question Number : 88 Question Id : 7532295148 Question Type : MCQ Option Shuffling : Yes Is Question Mandatory : No Option Orientation : Vertical

Correct Marks : 1 Wrong Marks : 0.25

महत्त्वपूर्ण कथन, कहावत, संधि आदि को उद्धृत करने में किस विराम चिह्न का प्रयोग होता है?

Options :

1. ✘ इकहराउद्धरण चिह्न
2. ✔ दुहराउद्धरण चिह्न

3. ✖ प्रश्नवाचक चिह्न
4. ✖ विस्मयादिबोधक चिह्न

Question Number : 89 Question Id : 7532295149 Question Type : MCQ Option Shuffling : Yes Is Question Mandatory : No Option Orientation : Vertical

Correct Marks : 1 Wrong Marks : 0.25

निम्नलिखित में कौन-सा वाक्य निश्चयार्थक वृत्तिका उदाहरण है -

Options :

1. ✔ राकेश विद्यालय जाता है।
2. ✖ तुम यहीं बैठे रहो।
3. ✖ वह नदी पार कर सकता है।
4. ✖ युद्ध होर हा होगा।

Question Number : 89 Question Id : 7532295149 Question Type : MCQ Option Shuffling : Yes Is Question Mandatory : No Option Orientation : Vertical

Correct Marks : 1 Wrong Marks : 0.25

निम्नलिखित में कौन-सा वाक्य निश्चयार्थक वृत्तिका उदाहरण है -

Options :

1. ✔ राकेश विद्यालय जाता है।
2. ✖ तुम यहीं बैठे रहो।
3. ✖ वह नदी पार कर सकता है।
4. ✖ युद्ध होर हा होगा।

Question Number : 90 Question Id : 7532295150 Question Type : MCQ Option Shuffling : Yes Is Question Mandatory : No Option Orientation : Vertical

Correct Marks : 1 Wrong Marks : 0.25

हिंदी में क्रियाओं के कुल कितने अर्थ होते हैं?

Options :

1. ✖ तीन
2. ✖ चार
3. ✔ पाँच

4. ✖ छः

Question Number : 90 Question Id : 7532295150 Question Type : MCQ Option Shuffling : Yes Is Question Mandatory : No Option Orientation : Vertical

Correct Marks : 1 Wrong Marks : 0.25

हिंदी में क्रियाओं के कुल कितने अर्थ होते हैं?

Options :

1. ✖ तीन
2. ✖ चार
3. ✔ पाँच
4. ✖ छः

Question Number : 91 Question Id : 7532295151 Question Type : MCQ Option Shuffling : Yes Is Question Mandatory : No Option Orientation : Vertical

Correct Marks : 1 Wrong Marks : 0.25

'नियंत्रण रखना' अर्थ के लिए सर्वाधिक उपयुक्त मुहावरा है -

Options :

1. ✔ अंकुश रखना
2. ✖ ऊँगली पर नचाना
3. ✖ गाँठ बांधना
4. ✖ टाँग अड़ाना

Question Number : 91 Question Id : 7532295151 Question Type : MCQ Option Shuffling : Yes Is Question Mandatory : No Option Orientation : Vertical

Correct Marks : 1 Wrong Marks : 0.25

'नियंत्रण रखना' अर्थ के लिए सर्वाधिक उपयुक्त मुहावरा है -

Options :

1. ✔ अंकुश रखना
2. ✖ ऊँगली पर नचाना
3. ✖ गाँठ बांधना
4. ✖ टाँग अड़ाना

Question Number : 92 Question Id : 7532295152 Question Type : MCQ Option Shuffling : Yes Is Question Mandatory : No Option Orientation : Vertical

Correct Marks : 1 Wrong Marks : 0.25

'अवधूत' का समानार्थी शब्द कौन सा है?

Options :

1. ✘ जीवनपति
2. ✘ जनार्दन
3. ✘ नृप
4. ✔ मुनि

Question Number : 92 Question Id : 7532295152 Question Type : MCQ Option Shuffling : Yes Is Question Mandatory : No Option Orientation : Vertical

Correct Marks : 1 Wrong Marks : 0.25

'अवधूत' का समानार्थी शब्द कौन सा है?

Options :

1. ✘ जीवनपति
2. ✘ जनार्दन
3. ✘ नृप
4. ✔ मुनि

Question Number : 93 Question Id : 7532295153 Question Type : MCQ Option Shuffling : Yes Is Question Mandatory : No Option Orientation : Vertical

Correct Marks : 1 Wrong Marks : 0.25

आरंभद्योतक पक्ष का उदाहरण है-

Options :

1. ✘ भीड़ बढ़ती जा रही है
2. ✘ हम पढ़ चुके हैं।
3. ✔ अब वह पढ़ने लगा है।
4. ✘ उस समय राजेश बहुत रो रहा था।

Question Number : 93 Question Id : 7532295153 Question Type : MCQ Option Shuffling : Yes Is Question Mandatory : No Option Orientation : Vertical

Correct Marks : 1 Wrong Marks : 0.25

आरंभद्योतक पक्ष का उदाहरण है-

Options :

1. ✘ भीड़ बढ़ती जा रही है
2. ✘ हम पढ़ चुके हैं।
3. ✔ अब वह पढ़ने लगा है।
4. ✘ उस समय राजेश बहुत रो रहा था।

Question Number : 94 Question Id : 7532295154 Question Type : MCQ Option Shuffling : Yes Is Question Mandatory : No Option Orientation : Vertical

Correct Marks : 1 Wrong Marks : 0.25

'सूर्य पूर्व दिशा में उदित होता है।' वाक्यमें पक्ष है-

Options :

1. ✔ नित्यताद्योतक पक्ष
2. ✘ सातत्यबोधक पक्ष
3. ✘ आरंभद्योतक पक्ष
4. ✘ प्रगतिद्योतक पक्ष

Question Number : 94 Question Id : 7532295154 Question Type : MCQ Option Shuffling : Yes Is Question Mandatory : No Option Orientation : Vertical

Correct Marks : 1 Wrong Marks : 0.25

'सूर्य पूर्व दिशा में उदित होता है।' वाक्यमें पक्ष है-

Options :

1. ✔ नित्यताद्योतक पक्ष
2. ✘ सातत्यबोधक पक्ष
3. ✘ आरंभद्योतक पक्ष
4. ✘ प्रगतिद्योतक पक्ष

Question Number : 95 Question Id : 7532295155 Question Type : MCQ Option Shuffling : Yes Is Question Mandatory : No Option

Orientation : Vertical

Correct Marks : 1 Wrong Marks : 0.25

निम्नलिखित में से किस वाक्य में क्रिया अथवा भाव की प्रधानता का बोध हो रहा है-

Options :

1. ✓ मुझ से बैठा नहीं जाता।
2. ✗ राधा ने पत्र लिखा।
3. ✗ सायंश अच्छी पुस्तकें पढ़ता है।
4. ✗ मैं काम के लिए कभी मना नहीं करता।

Question Number : 95 Question Id : 7532295155 Question Type : MCQ Option Shuffling : Yes Is Question Mandatory : No Option

Orientation : Vertical

Correct Marks : 1 Wrong Marks : 0.25

निम्नलिखित में से किस वाक्य में क्रिया अथवा भाव की प्रधानता का बोध हो रहा है-

Options :

1. ✓ मुझ से बैठा नहीं जाता।
2. ✗ राधा ने पत्र लिखा।
3. ✗ सायंश अच्छी पुस्तकें पढ़ता है।
4. ✗ मैं काम के लिए कभी मना नहीं करता।

Sub-Section Number :

2

Sub-Section Id :

753229326

Question Shuffling Allowed :

Yes

Question Id : 7532295156 Question Type : COMPREHENSION Sub Question Shuffling Allowed : Yes Group Comprehension Questions : No

Question Numbers : (96 to 100)

उपरोक्त गद्यांश का अभ्यास करे और नीचे दिए गए प्रश्न के उत्तर दे।

जीवन का उद्देश्य एक रहस्य है। वह कठिन जरूर है फिर भी ऐसा नहीं है कि उसे जाना ही नजा सके। लगातार इस पर सोचते रहने से इसके भेदों से पर्दा उठा भी है। आधुनिक युग में अत्यंत सूक्ष्म तथा वैज्ञानिक आकलन से बने उपकरण सचमुच विलक्षण हैं। भौतिकशास्त्र के प्रचुर आविष्कार हमें उन विश्वसनीय उपायोंका स्पष्ट आभास दे रहे हैं, जिन से जीव नको उन्नत बनाया जा सकता है। लेकिन सारे उपकरणों, रणनितियों तथा खोजों के बावजूद ऐसा लगता है कि हम अभी भी नियतिके हाथ का खिलौना ही हैं। हम अपनी नियति तय नहीं कर पाते। प्रकृति हम परहावी है। हम उसके आगे असहाय महसूस करते हैं। हमें प्रकृति के प्रभुत्व से मुक्ति पानी ही चाहिए और उसे पाने के लिए हमें एक लंबी यात्रा तय करनी होगी।

Sub questions

Question Number : 96 Question Id : 7532295157 Question Type : MCQ Option Shuffling : Yes Is Question Mandatory : No Option Orientation : Vertical

Correct Marks : 1 Wrong Marks : 0.25

इस गद्यांश का उपयुक्त शीर्षक क्या होगा?

Options :

1. ✘ जीवन की रणनीति
2. ✘ नियति का खेल
3. ✔ जीवन का रहस्य
4. ✘ प्रकृति का प्रभाव

Question Number : 97 Question Id : 7532295158 Question Type : MCQ Option Shuffling : Yes Is Question Mandatory : No Option Orientation : Vertical

Correct Marks : 1 Wrong Marks : 0.25

‘नियति के हाथ का खिलौना’ – इसका क्या तात्पर्य है?

Options :

1. ✘ भाग्यका खेल
2. ✔ प्रकृति के आगे असहाय महसूस करना
3. ✘ नियति के हाथ बिक जाना
4. ✘ प्रकृति को अपना दास बनाना

Question Number : 98 Question Id : 7532295159 Question Type : MCQ Option Shuffling : Yes Is Question Mandatory : No Option Orientation : Vertical

Correct Marks : 1 Wrong Marks : 0.25

आधुनिक युग में विलक्षण क्या है?

Options :

1. ✘ जीवन के रहस्य को अनुभव करना
2. ✔ अत्यंत सूक्ष्म और वैज्ञानिक आकलन से बने उपकरण
3. ✘ प्रकृति से बने उपकरण
4. ✘ अवैज्ञानिक आकलन से प्रस्तुत उपकरण

Question Number : 99 Question Id : 7532295160 Question Type : MCQ Option Shuffling : Yes Is Question Mandatory : No Option Orientation : Vertical

Correct Marks : 1 Wrong Marks : 0.25

कौन-सा शब्द मुक्तिका पर्याय वाची है?

Options :

1. ✓ छुटकारा
2. ✗ आजाद
3. ✗ मुकुल
4. ✗ आनंद

Question Number : 100 Question Id : 7532295161 Question Type : MCQ Option Shuffling : Yes Is Question Mandatory : No Option Orientation : Vertical

Correct Marks : 1 Wrong Marks : 0.25

कठिन होने के बावजूद किसे जाना जा सकता है?

Options :

1. ✗ आधुनिक युग के विचारों को
2. ✓ जीवन के रहस्यमय उद्देश्य को
3. ✗ भौतिकशास्त्र के आविष्कारों को
4. ✗ प्रकृति के प्रभुत्व को

Question Id : 7532295156 Question Type : COMPREHENSION Sub Question Shuffling Allowed : Yes Group Comprehension Questions : No

Question Numbers : (96 to 100)

उपरोक्त गद्यांश का अभ्यास करे और नीचे दिए गए प्रश्न के उत्तर दे।

जीवन का उद्देश्य एक रहस्य है। वह कठिन जरूर है फिर भी ऐसा नहीं है कि उसे जाना ही नजा सके। लगातार इस पर सोचते रहने से इसके भेदों से पर्दा उठा भी है। आधुनिक युग में अत्यंत सूक्ष्म तथा वैज्ञानिक आकलन से बने उपकरण सचमुच विलक्षण हैं। भौतिकशास्त्र के प्रचुर आविष्कार हमें उन विश्वसनीय उपायोंका स्पष्ट आभास दे रहे हैं, जिन से जीव नको उन्नत बनाया जा सकता है। लेकिन सारे उपकरणों, रणनितियों तथा खोजों के बावजूद ऐसा लगता है कि हम अभी भी नियतिके हाथ का खिलौना ही हैं। हम अपनी नियति तय नहीं कर पाते। प्रकृति हम परहावी है। हम उसके आगे असहाय महसूस करते हैं। हमें प्रकृति के प्रभुत्व से मुक्ति पानी ही चाहिए और उसे पाने के लिए हमें एक लंबी यात्रा तय करनी होगी।

Sub questions

Question Number : 96 Question Id : 7532295157 Question Type : MCQ Option Shuffling : Yes Is Question Mandatory : No Option

Orientation : Vertical

Correct Marks : 1 Wrong Marks : 0.25

इस गद्यांश का उपयुक्त शीर्षक क्या होगा?

Options :

1. ✖ जीवन की रणनीति
2. ✖ नियति का खेल
3. ✔ जीवन का रहस्य
4. ✖ प्रकृति का प्रभाव

Question Number : 97 Question Id : 7532295158 Question Type : MCQ Option Shuffling : Yes Is Question Mandatory : No Option

Orientation : Vertical

Correct Marks : 1 Wrong Marks : 0.25

‘नियति के हाथ का खिलौना’ – इसका क्या तात्पर्य है?

Options :

1. ✖ भाग्यका खेल
2. ✔ प्रकृति के आगे असहाय महसूस करना
3. ✖ नियति के हाथ बिक जाना
4. ✖ प्रकृति को अपना दास बनाना

Question Number : 98 Question Id : 7532295159 Question Type : MCQ Option Shuffling : Yes Is Question Mandatory : No Option

Orientation : Vertical

Correct Marks : 1 Wrong Marks : 0.25

आधुनिक युग में विलक्षण क्या है?

Options :

1. ✖ जीवन के रहस्य को अनुभव करना
2. ✔ अत्यंत सूक्ष्म और वैज्ञानिक आकलन से बने उपकरण
3. ✖ प्रकृति से बने उपकरण
4. ✖ अवैज्ञानिक आकलन से प्रस्तुत उपकरण

Question Number : 99 Question Id : 7532295160 Question Type : MCQ Option Shuffling : Yes Is Question Mandatory : No Option

Orientation : Vertical

Correct Marks : 1 Wrong Marks : 0.25

कौन-सा शब्द मुक्तिका पर्याय वाची है?

Options :

1. ✓ छुटकारा
2. ✗ आजाद
3. ✗ मुकुल
4. ✗ आनंद

Question Number : 100 Question Id : 7532295161 Question Type : MCQ Option Shuffling : Yes Is Question Mandatory : No Option Orientation : Vertical

Correct Marks : 1 Wrong Marks : 0.25

कठिन होने के बावजूद किसे जाना जा सकता है?

Options :

1. ✗ आधुनिक युग के विचारों को
2. ✓ जीवन के रहस्यमय उद्देश्य को
3. ✗ भौतिकशास्त्र के आविष्कारों को
4. ✗ प्रकृति के प्रभुत्व को

Discipline1

Group Number :	6
Group Id :	753229270
Group Maximum Duration :	0
Group Minimum Duration :	0
Show Attended Group? :	No
Edit Attended Group? :	No
Break time :	0
Group Marks :	20
Is this Group for Examiner? :	No

Discipline1

Section Id :	753229270
Section Number :	1
Section type :	Online
Mandatory or Optional :	Mandatory
Number of Questions :	20
Number of Questions to be attempted :	20
Section Marks :	20
Enable Mark as Answered Mark for Review and Clear Response :	Yes
Sub-Section Number :	1
Sub-Section Id :	753229327
Question Shuffling Allowed :	Yes

Question Number : 101 Question Id : 7532295162 Question Type : MCQ Option Shuffling : Yes Is Question Mandatory : No Option Orientation : Vertical

Correct Marks : 1 Wrong Marks : 0.25

One of the chemical constituents present in Van den Bergh reagent A is:

Options :

1. ✘ sodium thiosulphate
2. ✘ sodium chloride
3. ✔ sulphanic acid
4. ✘ sulfanilamide

Question Number : 101 Question Id : 7532295162 Question Type : MCQ Option Shuffling : Yes Is Question Mandatory : No Option Orientation : Vertical

Correct Marks : 1 Wrong Marks : 0.25

निम्न में से कौन सा वैन डेन बर्ग (Van den Bergh) अभिकर्मक A में मौजूद रासायनिक घटकों में से एक है?

Options :

1. ✘ सोडियम थायोसल्फेट
2. ✘ सोडियम क्लोराइड
3. ✔ सल्फानिलिक अम्ल
4. ✘ सल्फानिलामाइड

Question Number : 102 Question Id : 7532295163 Question Type : MCQ Option Shuffling : Yes Is Question Mandatory : No Option Orientation : Vertical

Correct Marks : 1 Wrong Marks : 0.25

The icteric index is a measure that is used to identify:

Options :

1. ✘ diabetes
2. ✔ jaundice
3. ✘ gout
4. ✘ anaemia

Question Number : 102 Question Id : 7532295163 Question Type : MCQ Option Shuffling : Yes Is Question Mandatory : No Option Orientation : Vertical

Correct Marks : 1 Wrong Marks : 0.25

इक्टेरिक सूचकांक एक ऐसा मापन है जिसका इस्तेमाल निम्न में से किसकी पहचान करने के लिए किया जाता है?

Options :

1. ✘ मधुमेह
2. ✔ पीलिया
3. ✘ गाउट
4. ✘ एनीमिया

Question Number : 103 Question Id : 7532295164 Question Type : MCQ Option Shuffling : Yes Is Question Mandatory : No Option Orientation : Vertical

Correct Marks : 1 Wrong Marks : 0.25

Which of the following is a plasma protein derived chemical mediator of inflammation?

Options :

1. ✔ Bradykinin
2. ✘ Serotonin
3. ✘ Globulin
4. ✘ Cytokine

Question Number : 103 Question Id : 7532295164 Question Type : MCQ Option Shuffling : Yes Is Question Mandatory : No Option Orientation : Vertical

Correct Marks : 1 Wrong Marks : 0.25

निम्नलिखित में से कौन सा इन्फ्लेमेशन (प्रदाह) का प्लाज्मा प्रोटीन व्युत्पन्न रासायनिक मध्यस्थ है?

Options :

1. ✓ ब्रैडिकाइनिन
2. ✗ सेरोटोनिन
3. ✗ ग्लोबुलिन
4. ✗ साइटोकाइन

Question Number : 104 Question Id : 7532295165 Question Type : MCQ Option Shuffling : Yes Is Question Mandatory : No Option Orientation : Vertical

Correct Marks : 1 Wrong Marks : 0.25

The source of salmonella generated enterocolitis is:

Options :

1. ✗ cheese
2. ✗ water
3. ✗ shell fish
4. ✓ beef

Question Number : 104 Question Id : 7532295165 Question Type : MCQ Option Shuffling : Yes Is Question Mandatory : No Option Orientation : Vertical

Correct Marks : 1 Wrong Marks : 0.25

साल्मोनेला से होने वाले एंटरोकोलाइटिस का स्रोत क्या है?

Options :

1. ✗ पनीर
2. ✗ जल
3. ✗ शैल मछली
4. ✓ बीफ

Question Number : 105 Question Id : 7532295166 Question Type : MCQ Option Shuffling : Yes Is Question Mandatory : No Option Orientation : Vertical

Correct Marks : 1 Wrong Marks : 0.25

The epithelium composed of a single layer of flattened cells is termed as:

Options :

1. ✘ columnar epithelium
2. ✘ cuboidal epithelium
3. ✔ pavement epithelium
4. ✘ ciliated epithelium

Question Number : 105 Question Id : 7532295166 Question Type : MCQ Option Shuffling : Yes Is Question Mandatory : No Option Orientation : Vertical

Correct Marks : 1 Wrong Marks : 0.25

चपटी कोशिकाओं की एक परत से बनी उपकला (एपिथिलियम) को किस नाम से जाना जाता है?

Options :

1. ✘ स्तंभाकार उपकला
2. ✘ घनाकार उपकला
3. ✔ खनिकुट्टिम उपकला
4. ✘ रोमक उपकला

Question Number : 106 Question Id : 7532295167 Question Type : MCQ Option Shuffling : Yes Is Question Mandatory : No Option Orientation : Vertical

Correct Marks : 1 Wrong Marks : 0.25

The most abundant plasma protein present in the body is:

Options :

1. ✔ albumin
2. ✘ globulin
3. ✘ fibrinogen
4. ✘ plasminogen

Question Number : 106 Question Id : 7532295167 Question Type : MCQ Option Shuffling : Yes Is Question Mandatory : No Option Orientation : Vertical

Correct Marks : 1 Wrong Marks : 0.25

शरीर में सबसे प्रचुर मात्रा में पाया जाने वाला प्लाज्मा प्रोटीन कौन सा है?

Options :

1. ✓ एल्बुमिन
2. ✗ ग्लोबुलिन
3. ✗ फाइब्रिनोजेन
4. ✗ प्लाज्मिनोजेन

Question Number : 107 Question Id : 7532295168 Question Type : MCQ Option Shuffling : Yes Is Question Mandatory : No Option Orientation : Vertical

Correct Marks : 1 Wrong Marks : 0.25

Sinusoids are generally found in all of the following, EXCEPT:

Options :

1. ✗ the bone marrow
2. ✓ the brain
3. ✗ the spleen
4. ✗ the liver

Question Number : 107 Question Id : 7532295168 Question Type : MCQ Option Shuffling : Yes Is Question Mandatory : No Option Orientation : Vertical

Correct Marks : 1 Wrong Marks : 0.25

सिनुसाइड आमतौर पर निम्नलिखित सभी में पाए जाते हैं, सिवाय _____ के।

Options :

1. ✗ अस्थि मज्जा
2. ✓ मस्तिष्क
3. ✗ प्लीहा
4. ✗ यकृत

Question Number : 108 Question Id : 7532295169 Question Type : MCQ Option Shuffling : Yes Is Question Mandatory : No Option Orientation : Vertical

Correct Marks : 1 Wrong Marks : 0.25

The type of aneurysm occurring mainly in the arch of the aorta is:

Options :

1. ✗ fusiform

2. ✘ microaneurysm
3. ✘ saccular
4. ✔ dissecting

Question Number : 108 Question Id : 7532295169 Question Type : MCQ Option Shuffling : Yes Is Question Mandatory : No Option Orientation : Vertical

Correct Marks : 1 Wrong Marks : 0.25

मुख्य रूप से महाधमनी के आर्क में पाया जाने वाला एन्यूरिज्म का प्रकार कौन सा है?

Options :

1. ✘ तर्कुरूप
2. ✘ माइक्रोएन्यूरिज्म
3. ✘ कोषाकार
4. ✔ विच्छेदक

Question Number : 109 Question Id : 7532295170 Question Type : MCQ Option Shuffling : Yes Is Question Mandatory : No Option Orientation : Vertical

Correct Marks : 1 Wrong Marks : 0.25

The thermoregulatory centre in the brain is located in:

Options :

1. ✘ the cerebrum
2. ✘ the cerebellum
3. ✔ the hypothalamus
4. ✘ the medulla oblongata

Question Number : 109 Question Id : 7532295170 Question Type : MCQ Option Shuffling : Yes Is Question Mandatory : No Option Orientation : Vertical

Correct Marks : 1 Wrong Marks : 0.25

मस्तिष्क में थर्मोरेगुलेटरी (ताप नियामक) केंद्र कहां स्थित होता है?

Options :

1. ✘ प्रमस्तिष्क
2. ✘ अनुमस्तिष्क

3. ✓ हाइपोथैलेमस

4. ✗ मेडुला ऑब्लोगेटा

Question Number : 110 Question Id : 7532295171 Question Type : MCQ Option Shuffling : Yes Is Question Mandatory : No Option Orientation : Vertical

Correct Marks : 1 Wrong Marks : 0.25

The phase of the cell cycle during which the cell may leave the cell cycle is:

Options :

1. ✓ G0

2. ✗ G1

3. ✗ S

4. ✗ M

Question Number : 110 Question Id : 7532295171 Question Type : MCQ Option Shuffling : Yes Is Question Mandatory : No Option Orientation : Vertical

Correct Marks : 1 Wrong Marks : 0.25

कोशिका चक्र का वह कौन सा चरण है जिसके दौरान कोशिका, कोशिका चक्र छोड़ सकती है?

Options :

1. ✓ G0

2. ✗ G1

3. ✗ S

4. ✗ M

Question Number : 111 Question Id : 7532295172 Question Type : MCQ Option Shuffling : Yes Is Question Mandatory : No Option Orientation : Vertical

Correct Marks : 1 Wrong Marks : 0.25

The number of ATP yielded in the body from 1 molecule of glucose as a result of electron transport chain is:

Options :

1. ✗ 2

2. ✗ 4

3. ✗ 6

4. ✓ 32

Question Number : 111 Question Id : 7532295172 Question Type : MCQ Option Shuffling : Yes Is Question Mandatory : No Option Orientation : Vertical

Correct Marks : 1 Wrong Marks : 0.25

इलेक्ट्रॉन परिवहन श्रृंखला के कारण शरीर में ग्लूकोज के 1 अणु से कितने ए.टी.पी. (ATP) प्राप्त होते हैं?

Options :

1. ✘ 2
2. ✘ 4
3. ✘ 6
4. ✔ 32

Question Number : 112 Question Id : 7532295173 Question Type : MCQ Option Shuffling : Yes Is Question Mandatory : No Option Orientation : Vertical

Correct Marks : 1 Wrong Marks : 0.25

The RNA virus that causes cancer in humans is:

Options :

1. ✘ human papilloma virus
2. ✔ human T cell leukaemia virus
3. ✘ Epstein-Barr virus
4. ✘ hepatitis B virus

Question Number : 112 Question Id : 7532295173 Question Type : MCQ Option Shuffling : Yes Is Question Mandatory : No Option Orientation : Vertical

Correct Marks : 1 Wrong Marks : 0.25

मनुष्यों में कैंसर पैदा करने वाला आर.एन.ए. (RNA) वायरस कौन सा है?

Options :

1. ✘ ह्यूमन पैपिलोमा वायरस
2. ✔ ह्यूमन टी. सेल ल्यूकेमिया वायरस
3. ✘ एपस्टीन-बार वायरस
4. ✘ हेपेटाइटिस बी. वायरस

Question Number : 113 Question Id : 7532295174 Question Type : MCQ Option Shuffling : Yes Is Question Mandatory : No Option Orientation : Vertical

Correct Marks : 1 Wrong Marks : 0.25

The alcohol contained in glycolipids is:

Options :

1. ✘ glycerol
2. ✔ sphingosine
3. ✘ maltitol
4. ✘ sorbitol

Question Number : 113 Question Id : 7532295174 Question Type : MCQ Option Shuffling : Yes Is Question Mandatory : No Option Orientation : Vertical

Correct Marks : 1 Wrong Marks : 0.25

ग्लाइकोलिपिड्स में कौन सा एल्कोहल निहित होता है?

Options :

1. ✘ ग्लिसरॉल
2. ✔ स्फिंगोसिन
3. ✘ माल्टिटॉल
4. ✘ सोर्बिटॉल

Question Number : 114 Question Id : 7532295175 Question Type : MCQ Option Shuffling : Yes Is Question Mandatory : No Option Orientation : Vertical

Correct Marks : 1 Wrong Marks : 0.25

Catabolism of serine takes place after getting converted to:

Options :

1. ✘ tyrosine
2. ✘ alanine
3. ✔ cysteine
4. ✘ proline

Question Number : 114 Question Id : 7532295175 Question Type : MCQ Option Shuffling : Yes Is Question Mandatory : No Option Orientation : Vertical

Correct Marks : 1 Wrong Marks : 0.25

_____ में परिवर्तित होने के बाद सेरीन का अपचय (केटाबोलिज्म) होता है।

Options :

1. ✘ टायरोसिन
2. ✘ ऐलेनिन
3. ✔ सिस्टीन
4. ✘ प्रोलीन

Question Number : 115 Question Id : 7532295176 Question Type : MCQ Option Shuffling : Yes Is Question Mandatory : No Option Orientation : Vertical

Correct Marks : 1 Wrong Marks : 0.25

Which of the following vitamins is essential in citric acid metabolism?

Options :

1. ✔ Thiamine
2. ✘ Cyanocobalamin
3. ✘ Ascorbic acid
4. ✘ Retinol

Question Number : 115 Question Id : 7532295176 Question Type : MCQ Option Shuffling : Yes Is Question Mandatory : No Option Orientation : Vertical

Correct Marks : 1 Wrong Marks : 0.25

साइट्रिक अम्ल उपापचय में निम्नलिखित में से कौन सा विटामिन आवश्यक होता है?

Options :

1. ✔ थायमीन
2. ✘ सायनोकोबालामिन
3. ✘ एस्कॉर्बिक अम्ल
4. ✘ रेटिनॉल

Question Number : 116 Question Id : 7532295177 Question Type : MCQ Option Shuffling : Yes Is Question Mandatory : No Option Orientation : Vertical

Correct Marks : 1 Wrong Marks : 0.25

The enzyme that is responsible for the conversion of ATP to cAMP is:

Options :

1. ✘ phosphodiesterase
2. ✘ lipoprotein lipase
3. ✘ guanyl cyclase
4. ✔ adenylyl cyclase

Question Number : 116 Question Id : 7532295177 Question Type : MCQ Option Shuffling : Yes Is Question Mandatory : No Option Orientation : Vertical

Correct Marks : 1 Wrong Marks : 0.25

ए.टी.पी. (ATP) को cAMP में परिवर्तित करने के लिए कौन सा एंजाइम उत्तरदायी होता है?

Options :

1. ✘ फोस्फोडाईएस्टरेज़
2. ✘ लाइपोप्रोटीन लाइपेज़
3. ✘ ग्वानिल साइक्लेज़
4. ✔ एडेनिलिल साइक्लेज़

Question Number : 117 Question Id : 7532295178 Question Type : MCQ Option Shuffling : Yes Is Question Mandatory : No Option Orientation : Vertical

Correct Marks : 1 Wrong Marks : 0.25

8-bit word can address _____ memory locations.

Options :

1. ✘ 32
2. ✘ 138
3. ✘ 8
4. ✔ 256

Question Number : 117 Question Id : 7532295178 Question Type : MCQ Option Shuffling : Yes Is Question Mandatory : No Option Orientation : Vertical

Correct Marks : 1 Wrong Marks : 0.25

8-बिट शब्द _____ मेमोरी लोकेशनों (memory locations) को एड्रेस कर सकता है।

Options :

1. ✘ 32
2. ✘ 138
3. ✘ 8
4. ✔ 256

Question Number : 118 Question Id : 7532295179 Question Type : MCQ Option Shuffling : Yes Is Question Mandatory : No Option Orientation : Vertical

Correct Marks : 1 Wrong Marks : 0.25

A set of instructions is called:

Options :

1. ✘ an address
2. ✘ a code
3. ✔ a programme
4. ✘ a server

Question Number : 118 Question Id : 7532295179 Question Type : MCQ Option Shuffling : Yes Is Question Mandatory : No Option Orientation : Vertical

Correct Marks : 1 Wrong Marks : 0.25

निर्देशों के एक सेट को _____ नाम से जाना जाता है।

Options :

1. ✘ एक एड्रेस
2. ✘ एक कोड
3. ✔ एक प्रोग्राम
4. ✘ एक सर्वर

Question Number : 119 Question Id : 7532295180 Question Type : MCQ Option Shuffling : Yes Is Question Mandatory : No Option Orientation : Vertical

Correct Marks : 1 Wrong Marks : 0.25

Basic ASCII Code is a standard coding system that uses _____ bits to code each character.

Options :

1. ✘ 3

2. ✓ 7
3. ✗ 9
4. ✗ 5

Question Number : 119 Question Id : 7532295180 Question Type : MCQ Option Shuffling : Yes Is Question Mandatory : No Option Orientation : Vertical

Correct Marks : 1 Wrong Marks : 0.25

बेसिक ASCII कोड एक मानक कोडिंग प्रणाली है जो प्रत्येक कैरेक्टर को कोड करने के लिए _____ बिट्स का इस्तेमाल करती है।

Options :

1. ✗ 3
2. ✓ 7
3. ✗ 9
4. ✗ 5

Question Number : 120 Question Id : 7532295181 Question Type : MCQ Option Shuffling : Yes Is Question Mandatory : No Option Orientation : Vertical

Correct Marks : 1 Wrong Marks : 0.25

Which of the following is a software programme that is programmed for doctors to enter patient symptoms into the computer?

Options :

1. ✓ SUMEX
2. ✗ COPES
3. ✗ COPE
4. ✗ IPES

Question Number : 120 Question Id : 7532295181 Question Type : MCQ Option Shuffling : Yes Is Question Mandatory : No Option Orientation : Vertical

Correct Marks : 1 Wrong Marks : 0.25

निम्नलिखित में से कौन सा एक सॉफ्टवेयर प्रोग्राम है जो डॉक्टरों के लिए कंप्यूटर में मरीज के लक्षणों को दर्ज करने के लिए प्रोग्राम किया गया है?

Options :

1. ✓ SUMEX
2. ✗ COPES
3. ✗ COPE

4. ✖ IPES

Discipline2

Group Number :	7
Group Id :	753229271
Group Maximum Duration :	0
Group Minimum Duration :	0
Show Attended Group? :	No
Edit Attended Group? :	No
Break time :	0
Group Marks :	20
Is this Group for Examiner? :	No

Discipline2

Section Id :	753229271
Section Number :	1
Section type :	Online
Mandatory or Optional :	Mandatory
Number of Questions :	20
Number of Questions to be attempted :	20
Section Marks :	20
Enable Mark as Answered Mark for Review and Clear Response :	Yes
Sub-Section Number :	1
Sub-Section Id :	753229328
Question Shuffling Allowed :	Yes

Question Number : 121 Question Id : 7532295182 Question Type : MCQ Option Shuffling : Yes Is Question Mandatory : No Option Orientation : Vertical

Correct Marks : 1 Wrong Marks : 0.25

The number of grams required for preparing 8 oz of 6 per cent solution of mercuric chloride is _____ (35 grams in 8 oz makes 1 per cent

solution).

Options :

1. ✘ 175 grams
2. ✔ 210 grams
3. ✘ 320 grams
4. ✘ 144 grams

Question Number : 121 Question Id : 7532295182 Question Type : MCQ Option Shuffling : Yes Is Question Mandatory : No Option Orientation : Vertical

Correct Marks : 1 Wrong Marks : 0.25

मर्क्यूरिक क्लोराइड के 6 प्रतिशत विलयन का 8 oz तैयार करने के लिए _____ ग्राम आवश्यक हैं (8 oz में 35 ग्राम 1 प्रतिशत विलयन बनाता है)।

Options :

1. ✘ 175
2. ✔ 210
3. ✘ 320
4. ✘ 144

Question Number : 122 Question Id : 7532295183 Question Type : MCQ Option Shuffling : Yes Is Question Mandatory : No Option Orientation : Vertical

Correct Marks : 1 Wrong Marks : 0.25

Which of the following liquid preparations is applied externally to the skin and not in the cavities?

Options :

1. ✘ Ear drops
2. ✘ Douches
3. ✘ Enemas
4. ✔ Collodions

Question Number : 122 Question Id : 7532295183 Question Type : MCQ Option Shuffling : Yes Is Question Mandatory : No Option Orientation : Vertical

Correct Marks : 1 Wrong Marks : 0.25

निम्नलिखित में से कौन सा तरल पदार्थ त्वचा पर बाहरी रूप से लगाया जाता है और गुहाओं में इसका प्रयोग नहीं किया जाता?

Options :

1. ✘ ईयर ड्रॉप
2. ✘ डूश
3. ✘ एनिमा
4. ✔ कोलोडियन्स

Question Number : 123 Question Id : 7532295184 Question Type : MCQ Option Shuffling : Yes Is Question Mandatory : No Option Orientation : Vertical

Correct Marks : 1 Wrong Marks : 0.25

The aromatic water used as carminative for infants in gripe water is:

Options :

1. ✘ camphor water
2. ✔ dill water
3. ✘ chloroform water
4. ✘ anise water

Question Number : 123 Question Id : 7532295184 Question Type : MCQ Option Shuffling : Yes Is Question Mandatory : No Option Orientation : Vertical

Correct Marks : 1 Wrong Marks : 0.25

शिशुओं के लिए ग्राइप वाटर में कार्मिनेटिव (वायुनाशी) के रूप में इस्तेमाल किया जाने वाला सुगंधित पानी क्या होता है?

Options :

1. ✘ कपूर का पानी
2. ✔ सोआ का पानी
3. ✘ क्लोरोफॉर्म का पानी
4. ✘ सौंफ का पानी

Question Number : 124 Question Id : 7532295185 Question Type : MCQ Option Shuffling : Yes Is Question Mandatory : No Option Orientation : Vertical

Correct Marks : 1 Wrong Marks : 0.25

The strength of 1 in 400 is equivalent to:

Options :

1. ✘ 0.143%

2. ✘ 0.04%

3. ✔ 0.25%

4. ✘ 0.1%

Question Number : 124 Question Id : 7532295185 Question Type : MCQ Option Shuffling : Yes Is Question Mandatory : No Option Orientation : Vertical

Correct Marks : 1 Wrong Marks : 0.25

400 में से 1 की शक्ति _____ के समतुल्य होती है।

Options :

1. ✘ 0.143%

2. ✘ 0.04%

3. ✔ 0.25%

4. ✘ 0.1%

Question Number : 125 Question Id : 7532295186 Question Type : MCQ Option Shuffling : Yes Is Question Mandatory : No Option Orientation : Vertical

Correct Marks : 1 Wrong Marks : 0.25

The paediatric dose calculation of $\frac{\text{Surface area of Child}}{\text{Surface area of Adult}} \times 100 = \% \text{ of Adult Dose}$ was proposed by:

Options :

1. ✘ Dilling

2. ✘ Fried

3. ✘ Young

4. ✔ Catzel

Question Number : 125 Question Id : 7532295186 Question Type : MCQ Option Shuffling : Yes Is Question Mandatory : No Option Orientation : Vertical

Correct Marks : 1 Wrong Marks : 0.25

बाल चिकित्सा खुराक (पीडियाट्रिक डोज़) की $\frac{\text{बच्चे का पृष्ठीय क्षेत्रफल}}{\text{वयस्क का पृष्ठीय क्षेत्रफल}} \times 100 = \text{वयस्क खुराक का \%}$ गणना को इनमें से किसने प्रस्तावित किया था?

Options :

- ✘ डिलिंग
- ✘ फ्राइड
- ✘ यंग
- ✔ कैटज़ेल

Question Number : 126 Question Id : 7532295187 Question Type : MCQ Option Shuffling : Yes Is Question Mandatory : No Option Orientation : Vertical

Correct Marks : 1 Wrong Marks : 0.25

Which of the following is an example of external preparation of suspension containing indiffusible solid?

Options :

- ✔ Hydrocortisone
- ✘ Aspirin
- ✘ Phenobarbitone
- ✘ Sulphadimidine

Question Number : 126 Question Id : 7532295187 Question Type : MCQ Option Shuffling : Yes Is Question Mandatory : No Option Orientation : Vertical

Correct Marks : 1 Wrong Marks : 0.25

निम्नलिखित में से कौन सा अघुलनशील ठोस युक्त निलंबन की बाहरी तैयारी (एक्सटर्नल प्रिपरेशन) का एक उदाहरण है?

Options :

- ✔ हाइड्रोकॉर्टिसोन
- ✘ एस्पिरिन
- ✘ फेनोबार्बिटोन
- ✘ सल्फाडीमिडीन

Question Number : 127 Question Id : 7532295188 Question Type : MCQ Option Shuffling : Yes Is Question Mandatory : No Option Orientation : Vertical

Correct Marks : 1 Wrong Marks : 0.25

In the imperial weight system, $\frac{1}{2}$ scruple represents:

Options :

1. ✓ 10 grains
2. ✗ 60 grains
3. ✗ 20 grains
4. ✗ 40 grains

Question Number : 127 Question Id : 7532295188 Question Type : MCQ Option Shuffling : Yes Is Question Mandatory : No Option Orientation : Vertical

Correct Marks : 1 Wrong Marks : 0.25

इम्पीरियल भार प्रणाली में, $\frac{1}{2}$ स्कूपल क्या प्रदर्शित करता है?

Options :

1. ✓ 10 ग्रेन
2. ✗ 60 ग्रेन
3. ✗ 20 ग्रेन
4. ✗ 40 ग्रेन

Question Number : 128 Question Id : 7532295189 Question Type : MCQ Option Shuffling : Yes Is Question Mandatory : No Option Orientation : Vertical

Correct Marks : 1 Wrong Marks : 0.25

Which of the following is an example of an ointment made by chemical reaction?

Options :

1. ✓ Iodine ointment
2. ✗ Ammoniated mercury ointment
3. ✗ Calamine ointment
4. ✗ Salicylic acid ointment

Question Number : 128 Question Id : 7532295189 Question Type : MCQ Option Shuffling : Yes Is Question Mandatory : No Option Orientation : Vertical

Correct Marks : 1 Wrong Marks : 0.25

निम्नलिखित में से कौन सा रासायनिक अभिक्रिया से बने मलहम का उदाहरण है?

Options :

1. ✓ आयोडीन मलहम
2. ✗ अमोनियायुक्त पारा मलहम
3. ✗ कैलामाइन मलहम
4. ✗ सैलिसिलिक अम्ल मलहम

Question Number : 129 Question Id : 7532295190 Question Type : MCQ Option Shuffling : Yes Is Question Mandatory : No Option Orientation : Vertical

Correct Marks : 1 Wrong Marks : 0.25

The solvent contained in dimercaprol injection is:

Options :

1. ✗ dimethyl formamide
2. ✗ ethyl acetate
3. ✓ benzyl benzoate
4. ✗ alcohol

Question Number : 129 Question Id : 7532295190 Question Type : MCQ Option Shuffling : Yes Is Question Mandatory : No Option Orientation : Vertical

Correct Marks : 1 Wrong Marks : 0.25

डिमेरकाप्रोल इंजेक्शन में कौन सा विलायक निहित होता है?

Options :

1. ✗ डाइमेथिल फॉर्माइड
2. ✗ एथिल एसीटेट
3. ✓ बेंजाइल बेंजोएट
4. ✗ एल्कोहल

Question Number : 130 Question Id : 7532295191 Question Type : MCQ Option Shuffling : Yes Is Question Mandatory : No Option Orientation : Vertical

Correct Marks : 1 Wrong Marks : 0.25

The synthetic fat bases consisting of a mixture of tri, di and mono glycerides of saturated fatty acid are known as:

Options :

1. ✓ Massa estarinum
2. ✗ Maasuppol
3. ✗ Wecobee
4. ✗ Witepsol

Question Number : 130 Question Id : 7532295191 Question Type : MCQ Option Shuffling : Yes Is Question Mandatory : No Option Orientation : Vertical

Correct Marks : 1 Wrong Marks : 0.25

संतृप्त फैटी अम्ल के ट्राई, डाई और मोनो ग्लिसराइड के मिश्रण से युक्त कृत्रिम वसा आधार को किस नाम से जाना जाता है?

Options :

1. ✓ मस्सा एस्टारिनम
2. ✗ मासुप्पोलो
3. ✗ वीकोबी
4. ✗ विटेपसोल

Question Number : 131 Question Id : 7532295192 Question Type : MCQ Option Shuffling : Yes Is Question Mandatory : No Option Orientation : Vertical

Correct Marks : 1 Wrong Marks : 0.25

In India, the National Malaria Eradication Programme was launched in:

Options :

1. ✗ 1947
2. ✓ 1958
3. ✗ 1963
4. ✗ 1972

Question Number : 131 Question Id : 7532295192 Question Type : MCQ Option Shuffling : Yes Is Question Mandatory : No Option Orientation : Vertical

Correct Marks : 1 Wrong Marks : 0.25

भारत में, राष्ट्रीय मलेरिया उन्मूलन कार्यक्रम कब शुरू किया गया था?

Options :

1. ✗ 1947

2. ✓ 1958
3. ✗ 1963
4. ✗ 1972

Question Number : 132 Question Id : 7532295193 Question Type : MCQ Option Shuffling : Yes Is Question Mandatory : No Option Orientation : Vertical

Correct Marks : 1 Wrong Marks : 0.25

Cohort study is associated with which of the following methods of epidemiology?

Options :

1. ✓ Analytical epidemiology
2. ✗ Descriptive epidemiology
3. ✗ Quantitative epidemiology
4. ✗ Experimental epidemiology

Question Number : 132 Question Id : 7532295193 Question Type : MCQ Option Shuffling : Yes Is Question Mandatory : No Option Orientation : Vertical

Correct Marks : 1 Wrong Marks : 0.25

कोहोर्ट अध्ययन, महामारी विज्ञान की निम्नलिखित में से किस पद्धति से संबंधित है?

Options :

1. ✓ विश्लेषणात्मक महामारी विज्ञान
2. ✗ वर्णनात्मक महामारी विज्ञान
3. ✗ मात्रात्मक महामारी विज्ञान
4. ✗ प्रायोगिक महामारी विज्ञान

Question Number : 133 Question Id : 7532295194 Question Type : MCQ Option Shuffling : Yes Is Question Mandatory : No Option Orientation : Vertical

Correct Marks : 1 Wrong Marks : 0.25

The communicable disease caused by RNA paramyxovirus is:

Options :

1. ✗ tuberculosis
2. ✗ chicken pox

3. ✓ measles
4. ✗ diphtheria

Question Number : 133 Question Id : 7532295194 Question Type : MCQ Option Shuffling : Yes Is Question Mandatory : No Option Orientation : Vertical

Correct Marks : 1 Wrong Marks : 0.25

आर.एन.ए. (RNA) पैरामिक्सोवाइरस के कारण निम्न में से कौन सा संचारी रोग होता है?

Options :

1. ✗ तपेदिक
2. ✗ चिकन पॉक्स
3. ✓ खसरा
4. ✗ डिप्थीरिया

Question Number : 134 Question Id : 7532295195 Question Type : MCQ Option Shuffling : Yes Is Question Mandatory : No Option Orientation : Vertical

Correct Marks : 1 Wrong Marks : 0.25

Sporangiospores are associated with:

Options :

1. ✓ phycomycetes
2. ✗ ascomycetes
3. ✗ basidiomycetes
4. ✗ glomeromycetes

Question Number : 134 Question Id : 7532295195 Question Type : MCQ Option Shuffling : Yes Is Question Mandatory : No Option Orientation : Vertical

Correct Marks : 1 Wrong Marks : 0.25

स्पोरैजियोस्पोर किससे संबंधित हैं?

Options :

1. ✓ फाइकोमाइसीटीज़
2. ✗ असोमाइसीटीज़
3. ✗ बेसिडिओमाइसीटीज़

4. ✖ ग्लोमेरोमाइसिटीज़

Question Number : 135 Question Id : 7532295196 Question Type : MCQ Option Shuffling : Yes Is Question Mandatory : No Option Orientation : Vertical

Correct Marks : 1 Wrong Marks : 0.25

The Schedule regarding standards of disinfectant fluids is:

Options :

1. ✖ Schedule J
2. ✖ Schedule R
3. ✔ Schedule O
4. ✖ Schedule P

Question Number : 135 Question Id : 7532295196 Question Type : MCQ Option Shuffling : Yes Is Question Mandatory : No Option Orientation : Vertical

Correct Marks : 1 Wrong Marks : 0.25

निम्नलिखित में से कौन सी अनुसूची निस्संक्रामक तरल पदार्थों के मानकों से संबंधित है?

Options :

1. ✖ अनुसूची J
2. ✖ अनुसूची R
3. ✔ अनुसूची O
4. ✖ अनुसूची P

Question Number : 136 Question Id : 7532295197 Question Type : MCQ Option Shuffling : Yes Is Question Mandatory : No Option Orientation : Vertical

Correct Marks : 1 Wrong Marks : 0.25

The Schedule corresponding to proforma for application for licences, issue and renewal of licences, and for sending memoranda under the Drugs and Cosmetics Act is:

Options :

1. ✖ Schedule E1
2. ✔ Schedule A
3. ✖ Schedule D1
4. ✖ Schedule K

Question Number : 136 Question Id : 7532295197 Question Type : MCQ Option Shuffling : Yes Is Question Mandatory : No Option Orientation : Vertical

Correct Marks : 1 Wrong Marks : 0.25

निम्नलिखित में से कौन सी अनुसूची लाइसेंस के लिए आवेदन करने, लाइसेंस जारी करने और इसका नवीनीकरण करने तथा औषधि और प्रसाधन सामग्री अधिनियम के तहत ज्ञापन भेजने के लिए प्रोफार्मा से संबंधित है?

Options :

1. ✘ अनुसूची E1
2. ✔ अनुसूची A
3. ✘ अनुसूची D1
4. ✘ अनुसूची K

Question Number : 137 Question Id : 7532295198 Question Type : MCQ Option Shuffling : Yes Is Question Mandatory : No Option Orientation : Vertical

Correct Marks : 1 Wrong Marks : 0.25

Section 9 of the National List of Essential Medicines is specifically about:

Options :

1. ✘ antimigraine medicines
2. ✘ antiinfective medicines
3. ✘ antineoplastic medicines
4. ✔ antiparkinsonism medicines

Question Number : 137 Question Id : 7532295198 Question Type : MCQ Option Shuffling : Yes Is Question Mandatory : No Option Orientation : Vertical

Correct Marks : 1 Wrong Marks : 0.25

आवश्यक दवाओं की राष्ट्रीय सूची की धारा 9 विशेष रूप से _____ के बारे में है।

Options :

1. ✘ माइग्रेन रोधी दवाएं
2. ✘ संक्रमण रोधी दवाएं
3. ✘ नियोप्लास्ट रोधी दवाएं
4. ✔ पार्किन्सनिज्म रोधी दवाएं

Question Number : 138 Question Id : 7532295199 Question Type : MCQ Option Shuffling : Yes Is Question Mandatory : No Option Orientation : Vertical

Correct Marks : 1 Wrong Marks : 0.25

The subsequent penalty on the offence related to the manufacture, sale, distribution, stocking, exhibition, offering for sale or distribution of spurious drugs but not manufactured under the name of any other drug is:

Options :

- ✘ imprisonment up to 10 years or fine up to ₹20,000 or both
- ✔ imprisonment for not less than 6 years to 10 years and fine of not less than ₹10,000
- ✘ imprisonment for 2 to 4 years or fine of not less than ₹5,000 or both
- ✘ imprisonment up to 10 years or fine upto ₹5,000 or both

Question Number : 138 Question Id : 7532295199 Question Type : MCQ Option Shuffling : Yes Is Question Mandatory : No Option Orientation : Vertical

Correct Marks : 1 Wrong Marks : 0.25

नकली दवाओं का निर्माण, बिक्री, वितरण, भंडारण, प्रदर्शनी, बिक्री के लिए पेशकश या वितरण करने, लेकिन किसी अन्य दवा के नाम से निर्मित नहीं होने की स्थिति से संबंधित अपराध में अनुवर्ती दंड क्या है?

Options :

- ✘ 10 साल तक की कैद या ₹20,000 तक का जुर्माना या दोनों
- ✔ कम से कम 6 साल से लेकर 10 साल तक की कैद और कम से कम ₹10,000 का जुर्माना
- ✘ 2 से 4 साल की कैद या कम से कम ₹5,000 का जुर्माना या दोनों
- ✘ 10 साल तक की कैद या ₹5,000 तक का जुर्माना या दोनों

Question Number : 139 Question Id : 7532295200 Question Type : MCQ Option Shuffling : Yes Is Question Mandatory : No Option Orientation : Vertical

Correct Marks : 1 Wrong Marks : 0.25

Which of the following is credited to the profit and loss account?

Options :

- ✘ Printing and stationary
- ✘ Carriage outwards
- ✘ Advertisement
- ✔ Cash discount from creditors

Question Number : 139 Question Id : 7532295200 Question Type : MCQ Option Shuffling : Yes Is Question Mandatory : No Option Orientation : Vertical

Correct Marks : 1 Wrong Marks : 0.25

निम्नलिखित में से किसे लाभ और हानि खाते में जमा (क्रेडिट) किया जाता है?

Options :

1. ✘ प्रिंटिंग और स्टेशनरी
2. ✘ जावक माल भाड़ा
3. ✘ विज्ञापन
4. ✔ लेनदारों से प्राप्त नकद छूट

Question Number : 140 Question Id : 7532295201 Question Type : MCQ Option Shuffling : Yes Is Question Mandatory : No Option Orientation : Vertical

Correct Marks : 1 Wrong Marks : 0.25

Which of the following is a current asset?

Options :

1. ✘ Quorum
2. ✔ Inventory
3. ✘ Debenture
4. ✘ Tender

Question Number : 140 Question Id : 7532295201 Question Type : MCQ Option Shuffling : Yes Is Question Mandatory : No Option Orientation : Vertical

Correct Marks : 1 Wrong Marks : 0.25

निम्नलिखित में से कौन सी एक चालू परिसंपत्ति है?

Options :

1. ✘ कोरम
2. ✔ माल-सूची
3. ✘ ऋणपत्र
4. ✘ निविदा

Discipline3

Group Number :	8
Group Id :	753229272
Group Maximum Duration :	0
Group Minimum Duration :	0
Show Attended Group? :	No
Edit Attended Group? :	No
Break time :	0
Group Marks :	20
Is this Group for Examiner? :	No

Discipline3

Section Id :	753229272
Section Number :	1
Section type :	Online
Mandatory or Optional :	Mandatory
Number of Questions :	20
Number of Questions to be attempted :	20
Section Marks :	20
Enable Mark as Answered Mark for Review and Clear Response :	Yes
Sub-Section Number :	1
Sub-Section Id :	753229329
Question Shuffling Allowed :	Yes

Question Number : 141 Question Id : 7532295202 Question Type : MCQ Option Shuffling : Yes Is Question Mandatory : No Option Orientation : Vertical

Correct Marks : 1 Wrong Marks : 0.25

The accounting concept where income is measured by the amount charged for goods sold or services rendered to customers is known as:

Options :

1. ✘ the cost concept

2. ✘ the matching concept
3. ✔ the revenue realisation concept
4. ✘ the entity concept

Question Number : 141 Question Id : 7532295202 Question Type : MCQ Option Shuffling : Yes Is Question Mandatory : No Option Orientation : Vertical

Correct Marks : 1 Wrong Marks : 0.25

वह लेखांकन संकल्पना कौन सी है जिसके तहत आय को ग्राहकों को बेची गई वस्तुओं या प्रदान की जाने वाली सेवाओं के लिए ली गई राशि से मापा जाता है?

Options :

1. ✘ लागत संकल्पना
2. ✘ मिलान संकल्पना
3. ✔ राजस्व प्राप्ति संकल्पना
4. ✘ सत्व संकल्पना

Question Number : 142 Question Id : 7532295203 Question Type : MCQ Option Shuffling : Yes Is Question Mandatory : No Option Orientation : Vertical

Correct Marks : 1 Wrong Marks : 0.25

'First in First Out Method' is a method associated with:

Options :

1. ✔ pricing of materials
2. ✘ codification of items
3. ✘ inventory control techniques
4. ✘ purchase procedures

Question Number : 142 Question Id : 7532295203 Question Type : MCQ Option Shuffling : Yes Is Question Mandatory : No Option Orientation : Vertical

Correct Marks : 1 Wrong Marks : 0.25

'फर्स्ट इन फर्स्ट आउट मेथड' किससे जुड़ी एक विधि है?

Options :

1. ✔ माल का मूल्य निर्धारण
2. ✘ वस्तुओं का संहिताकरण

3. ✖ माल-सूची नियंत्रण तकनीक
4. ✖ खरीद प्रक्रिया

Question Number : 143 Question Id : 7532295204 Question Type : MCQ Option Shuffling : Yes Is Question Mandatory : No Option Orientation : Vertical

Correct Marks : 1 Wrong Marks : 0.25

Which of the following is used as an antioxidant for aqueous injections?

Options :

1. ✖ Thiocarbamide
2. ✔ Thiourea
3. ✖ Thiomersal
4. ✖ Thiosemicarbazide

Question Number : 143 Question Id : 7532295204 Question Type : MCQ Option Shuffling : Yes Is Question Mandatory : No Option Orientation : Vertical

Correct Marks : 1 Wrong Marks : 0.25

निम्नलिखित में से किसका उपयोग जलीय इंजेक्शन के लिए एक एंटीऑक्सीडेंट के रूप में किया जाता है?

Options :

1. ✖ थियोकार्बामाइड
2. ✔ थियोयूरिया
3. ✖ थियोमर्सल
4. ✖ थियोसेमीकार्बाज़ाइड

Question Number : 144 Question Id : 7532295205 Question Type : MCQ Option Shuffling : Yes Is Question Mandatory : No Option Orientation : Vertical

Correct Marks : 1 Wrong Marks : 0.25

The minimum number of physicians required in the Pharmacy and Therapeutics Committee is:

Options :

1. ✔ 3
2. ✖ 4
3. ✖ 2

4. ✖ 5

Question Number : 144 Question Id : 7532295205 Question Type : MCQ Option Shuffling : Yes Is Question Mandatory : No Option Orientation : Vertical

Correct Marks : 1 Wrong Marks : 0.25

फार्मेसी और चिकित्सीय समिति में न्यूनतम कितने चिकित्सक (फिजिशियन) आवश्यक होते हैं?

Options :

1. ✔ 3

2. ✖ 4

3. ✖ 2

4. ✖ 5

Question Number : 145 Question Id : 7532295206 Question Type : MCQ Option Shuffling : Yes Is Question Mandatory : No Option Orientation : Vertical

Correct Marks : 1 Wrong Marks : 0.25

The most common emulsifying agent used in parenterals is:

Options :

1. ✖ methyl cellulose

2. ✖ gelatin

3. ✔ lecithin

4. ✖ borax

Question Number : 145 Question Id : 7532295206 Question Type : MCQ Option Shuffling : Yes Is Question Mandatory : No Option Orientation : Vertical

Correct Marks : 1 Wrong Marks : 0.25

पैरेंटेरल्स दवाओं में प्रयुक्त होने वाला सबसे आम पायसीकारी कारक कौन सा है?

Options :

1. ✖ मिथाइल सेलुलोज

2. ✖ जिलेटिन

3. ✔ लेसिथिन

4. ✖ बोरेक्स

Question Number : 146 Question Id : 7532295207 Question Type : MCQ Option Shuffling : Yes Is Question Mandatory : No Option Orientation : Vertical

Correct Marks : 1 Wrong Marks : 0.25

The term associated with the rapid onset and progress of a disease is termed as:

Options :

1. ✘ systemic
2. ✘ local
3. ✘ chronic
4. ✔ acute

Question Number : 146 Question Id : 7532295207 Question Type : MCQ Option Shuffling : Yes Is Question Mandatory : No Option Orientation : Vertical

Correct Marks : 1 Wrong Marks : 0.25

किसी बीमारी की तीव्र शुरुआत और प्रगति से जुड़े शब्द को किस नाम से जाना जाता है?

Options :

1. ✘ सिस्टेमिक (systemic)
2. ✘ लोकल (local)
3. ✘ क्रोनिक (chronic)
4. ✔ एक्यूट (acute)

Question Number : 147 Question Id : 7532295208 Question Type : MCQ Option Shuffling : Yes Is Question Mandatory : No Option Orientation : Vertical

Correct Marks : 1 Wrong Marks : 0.25

The advice on a prescription 'hora somni' means:

Options :

1. ✘ once a day
2. ✔ at bed time
3. ✘ early morning
4. ✘ in the evening

Question Number : 147 Question Id : 7532295208 Question Type : MCQ Option Shuffling : Yes Is Question Mandatory : No Option

Orientation : Vertical

Correct Marks : 1 Wrong Marks : 0.25

एक प्रेस्क्रिप्शन पर लिखी सलाह 'होरा सोमनी (hora somni)' का क्या अर्थ होता है?

Options :

1. ✘ दिन में एक बार
2. ✔ सोने के समय
3. ✘ सुबह जल्दी
4. ✘ शाम को

Question Number : 148 Question Id : 7532295209 Question Type : MCQ Option Shuffling : Yes Is Question Mandatory : No Option

Orientation : Vertical

Correct Marks : 1 Wrong Marks : 0.25

Isoniazid-Phenytoin interaction resulting in phenytoin toxicity is a result of:

Options :

1. ✔ interaction associated with metabolism
2. ✘ interaction associated with excretion
3. ✘ interaction associated with absorption
4. ✘ interaction associated with distribution

Question Number : 148 Question Id : 7532295209 Question Type : MCQ Option Shuffling : Yes Is Question Mandatory : No Option

Orientation : Vertical

Correct Marks : 1 Wrong Marks : 0.25

आइसोनियाज़िड-फेनेटोइन की आपसी अंतःक्रिया के कारण फेनेटोइन विषाक्तता होती है जो _____ के परिणामस्वरूप होती है।

Options :

1. ✔ उपापचय से जुड़ी अंतःक्रिया
2. ✘ उत्सर्जन से जुड़ी अंतःक्रिया
3. ✘ अवशोषण से जुड़ी अंतःक्रिया
4. ✘ वितरण से जुड़ी अंतःक्रिया

Question Number : 149 Question Id : 7532295210 Question Type : MCQ Option Shuffling : Yes Is Question Mandatory : No Option

Orientation : Vertical

Correct Marks : 1 Wrong Marks : 0.25

The ratio of velocity of light in one medium to the velocity in a second medium is known as:

Options :

1. ✘ molar refractivity
2. ✔ refractive index
3. ✘ molar polarization
4. ✘ molar polarizability

Question Number : 149 Question Id : 7532295210 Question Type : MCQ Option Shuffling : Yes Is Question Mandatory : No Option Orientation : Vertical

Correct Marks : 1 Wrong Marks : 0.25

एक माध्यम में प्रकाश के वेग और दूसरे माध्यम में प्रकाश के वेग के अनुपात को किस नाम से जाना जाता है?

Options :

1. ✘ मोलर अपवर्तकता
2. ✔ अपवर्तक सूचकांक
3. ✘ मोलर ध्रुवीकरण
4. ✘ मोलर ध्रुवीकरणता

Question Number : 150 Question Id : 7532295211 Question Type : MCQ Option Shuffling : Yes Is Question Mandatory : No Option Orientation : Vertical

Correct Marks : 1 Wrong Marks : 0.25

The law related to the study of gas solubilities is known as:

Options :

1. ✘ Ohm's law
2. ✔ Henry's law
3. ✘ Nernst's law
4. ✘ Faraday's law

Question Number : 150 Question Id : 7532295211 Question Type : MCQ Option Shuffling : Yes Is Question Mandatory : No Option Orientation : Vertical

Correct Marks : 1 Wrong Marks : 0.25

गैस की विलेयता के अध्ययन से संबंधित नियम को किस नाम से जाना जाता है?

Options :

1. ✘ ओम का नियम
2. ✔ हेनरी का नियम
3. ✘ नर्नस्ट का नियम
4. ✘ फैराडे का नियम

Question Number : 151 Question Id : 7532295212 Question Type : MCQ Option Shuffling : Yes Is Question Mandatory : No Option Orientation : Vertical

Correct Marks : 1 Wrong Marks : 0.25

In electrolytes, the sum of two transference numbers, t^+ and t^- is equal to:

Options :

1. ✘ 0
2. ✘ 2
3. ✔ 1
4. ✘ 3

Question Number : 151 Question Id : 7532295212 Question Type : MCQ Option Shuffling : Yes Is Question Mandatory : No Option Orientation : Vertical

Correct Marks : 1 Wrong Marks : 0.25

एक विद्युत अपघट्य में, दो अभिगमनांकों, t^+ और t^- का योग _____ के बराबर होता है।

Options :

1. ✘ 0
2. ✘ 2
3. ✔ 1
4. ✘ 3

Question Number : 152 Question Id : 7532295213 Question Type : MCQ Option Shuffling : Yes Is Question Mandatory : No Option Orientation : Vertical

Correct Marks : 1 Wrong Marks : 0.25

Dimethyldodecylammonio propane sulfonate is an example of a/an _____ colloid.

Options :

1. ✓ ampholytic
2. ✗ cationic
3. ✗ anionic
4. ✗ non-ionic

Question Number : 152 Question Id : 7532295213 Question Type : MCQ Option Shuffling : Yes Is Question Mandatory : No Option Orientation : Vertical

Correct Marks : 1 Wrong Marks : 0.25

डाइमिथाइलडोडेसिलमोनियो प्रोपेन सल्फोनेट एक _____ कोलाइड का उदाहरण है।

Options :

1. ✓ उभयधर्मी
2. ✗ धनायनित
3. ✗ ऋणायनित
4. ✗ गैर-आयनित

Question Number : 153 Question Id : 7532295214 Question Type : MCQ Option Shuffling : Yes Is Question Mandatory : No Option Orientation : Vertical

Correct Marks : 1 Wrong Marks : 0.25

In coarse dispersions, the condition when no clear supernatant is shown on standing is known as:

Options :

1. ✗ ionic equilibrium
2. ✓ flocculation equilibrium
3. ✗ Donnan membrane equilibrium
4. ✗ phase equilibrium

Question Number : 153 Question Id : 7532295214 Question Type : MCQ Option Shuffling : Yes Is Question Mandatory : No Option Orientation : Vertical

Correct Marks : 1 Wrong Marks : 0.25

एक मोटे फैलाव में, वह स्थिति किस नाम से जानी जाती है जब स्थायित्व पर कोई साफ अधिप्लवी (सुपरनेटेंट) दिखाई नहीं देता है?

Options :

1. ✗ आयनिक संतुलन

2. ✓ ऊर्णन संतुलन
3. ✗ डोनान झिल्ली संतुलन
4. ✗ प्रावस्था संतुलन

Question Number : 154 Question Id : 7532295215 Question Type : MCQ Option Shuffling : Yes Is Question Mandatory : No Option Orientation : Vertical

Correct Marks : 1 Wrong Marks : 0.25

The measurement of equilibrium constant in charge transfer complexes was derived by:

Options :

1. ✗ Clausius
2. ✗ Debye
3. ✓ Benesi
4. ✗ Nernst

Question Number : 154 Question Id : 7532295215 Question Type : MCQ Option Shuffling : Yes Is Question Mandatory : No Option Orientation : Vertical

Correct Marks : 1 Wrong Marks : 0.25

आवेश स्थानांतरण संकुल में संतुलन स्थिरांक का मापन किसके द्वारा प्रतिपादित किया गया था?

Options :

1. ✗ क्लौसियस
2. ✗ देबाई
3. ✓ बेनेसी
4. ✗ नर्नस्ट

Question Number : 155 Question Id : 7532295216 Question Type : MCQ Option Shuffling : Yes Is Question Mandatory : No Option Orientation : Vertical

Correct Marks : 1 Wrong Marks : 0.25

Which of the following diseases is caused by Treponema pallidum?

Options :

1. ✗ Leptospirosis
2. ✗ Tetanus

3. ✘ Pinta
4. ✔ Syphilis

Question Number : 155 Question Id : 7532295216 Question Type : MCQ Option Shuffling : Yes Is Question Mandatory : No Option Orientation : Vertical

Correct Marks : 1 Wrong Marks : 0.25

निम्नलिखित में से कौन सा रोग ट्रेपोनिमा पैलिडम के कारण होता है?

Options :

1. ✘ लेप्टोस्पाइरोसिस
2. ✘ टिटैनस
3. ✘ पिंटा
4. ✔ सिफलिस

Question Number : 156 Question Id : 7532295217 Question Type : MCQ Option Shuffling : Yes Is Question Mandatory : No Option Orientation : Vertical

Correct Marks : 1 Wrong Marks : 0.25

Among the surface active agents, quaternary ammonium chloride is categorised as:

Options :

1. ✘ a wetting agent
2. ✘ an anionic agent
3. ✔ a cationic agent
4. ✘ an emulsifying agent

Question Number : 156 Question Id : 7532295217 Question Type : MCQ Option Shuffling : Yes Is Question Mandatory : No Option Orientation : Vertical

Correct Marks : 1 Wrong Marks : 0.25

सतह सक्रिय कारकों में, चतुर्धातुक अमोनियम क्लोराइड को निम्न में से किस रूप में वर्गीकृत किया जाता है?

Options :

1. ✘ एक क्लेदन कर्मक
2. ✘ एक आयनिक कर्मक
3. ✔ एक ऋणायनित कर्मक

4. ✖ एक पायसीकारी कर्मक

Question Number : 157 Question Id : 7532295218 Question Type : MCQ Option Shuffling : Yes Is Question Mandatory : No Option Orientation : Vertical

Correct Marks : 1 Wrong Marks : 0.25

The antimicrobial action of mercuric chloride is attributed to the inhibition of enzymes having _____ group.

Options :

1. ✔ **sulphydryl**
2. ✖ **hydroxyl**
3. ✖ **amide**
4. ✖ **sulfone**

Question Number : 157 Question Id : 7532295218 Question Type : MCQ Option Shuffling : Yes Is Question Mandatory : No Option Orientation : Vertical

Correct Marks : 1 Wrong Marks : 0.25

मर्क्यूरिक क्लोराइड की रोगाणुरोधी क्रिया _____ समूह वाले एंजाइमों के अवरोधन के कारण होती है।

Options :

1. ✔ **सल्फहाइड्रिल**
2. ✖ **हाइड्रॉक्सिल**
3. ✖ **एमाइड**
4. ✖ **सल्फोन**

Question Number : 158 Question Id : 7532295219 Question Type : MCQ Option Shuffling : Yes Is Question Mandatory : No Option Orientation : Vertical

Correct Marks : 1 Wrong Marks : 0.25

The vitamin used by Clostridium tetani as a growth stimulator is:

Options :

1. ✖ **niacin**
2. ✔ **riboflavin**
3. ✖ **pyridoxine**
4. ✖ **tocopherol**

Question Number : 158 Question Id : 7532295219 Question Type : MCQ Option Shuffling : Yes Is Question Mandatory : No Option Orientation : Vertical

Correct Marks : 1 Wrong Marks : 0.25

क्लोस्ट्रीडियम टेटानी द्वारा वृद्धि उत्तेजक के रूप में किस विटामिन का उपयोग किया जाता है?

Options :

1. ✘ **नियासिन**
2. ✔ **राइबोफ्लेविन**
3. ✘ **पायरिडॉक्सिन**
4. ✘ **टोकोफेरॉल**

Question Number : 159 Question Id : 7532295220 Question Type : MCQ Option Shuffling : Yes Is Question Mandatory : No Option Orientation : Vertical

Correct Marks : 1 Wrong Marks : 0.25

The principal product of corrosion on dezincification is:

Options :

1. ✘ **antimony**
2. ✘ **phosphorous**
3. ✔ **copper**
4. ✘ **arsenic**

Question Number : 159 Question Id : 7532295220 Question Type : MCQ Option Shuffling : Yes Is Question Mandatory : No Option Orientation : Vertical

Correct Marks : 1 Wrong Marks : 0.25

वियशदन (dezincification) पर संक्षारण का मुख्य उत्पाद कौन सा है?

Options :

1. ✘ **एंटीमनी**
2. ✘ **फॉस्फोरस**
3. ✔ **कॉपर**
4. ✘ **आर्सेनिक**

Question Number : 160 Question Id : 7532295221 Question Type : MCQ Option Shuffling : Yes Is Question Mandatory : No Option Orientation : Vertical

Correct Marks : 1 Wrong Marks : 0.25

Krystal crystallizer works on the principle of:

Options :

1. ✘ supersaturation by cooling
2. ✘ supersaturation by adiabatic evaporation
3. ✔ supersaturation by evaporation of solvent
4. ✘ supersaturation by salting out

Question Number : 160 Question Id : 7532295221 Question Type : MCQ Option Shuffling : Yes Is Question Mandatory : No Option Orientation : Vertical

Correct Marks : 1 Wrong Marks : 0.25

क्रिस्टल क्रिस्टलाइज़र किस सिद्धांत पर काम करता है?

Options :

1. ✘ शीतलन द्वारा अतिसंतृप्ति
2. ✘ रुद्धोष्म वाष्पीकरण द्वारा अतिसंतृप्ति
3. ✔ विलायक के वाष्पीकरण द्वारा अतिसंतृप्ति
4. ✘ लवणन आउट द्वारा अतिसंतृप्ति

Discipline4

Group Number :	9
Group Id :	753229273
Group Maximum Duration :	0
Group Minimum Duration :	0
Show Attended Group? :	No
Edit Attended Group? :	No
Break time :	0
Group Marks :	20
Is this Group for Examiner? :	No

Discipline4

Section Id :	753229273
Section Number :	1
Section type :	Online
Mandatory or Optional :	Mandatory
Number of Questions :	20
Number of Questions to be attempted :	20
Section Marks :	20
Enable Mark as Answered Mark for Review and Clear Response :	Yes
Sub-Section Number :	1
Sub-Section Id :	753229330
Question Shuffling Allowed :	Yes

Question Number : 161 Question Id : 7532295222 Question Type : MCQ Option Shuffling : Yes Is Question Mandatory : No Option Orientation : Vertical

Correct Marks : 1 Wrong Marks : 0.25

The IP specification for nominal mesh aperture size of 180 μm corresponds to:

Options :

1. ✘ sieve number 60
2. ✔ sieve number 85
3. ✘ sieve number 44
4. ✘ sieve number 100

Question Number : 161 Question Id : 7532295222 Question Type : MCQ Option Shuffling : Yes Is Question Mandatory : No Option Orientation : Vertical

Correct Marks : 1 Wrong Marks : 0.25

180 माइक्रोन के नॉमिनल मैश एपर्चर आकार के लिए IP विनिर्देश _____ के संगत होता है।

Options :

1. ✘ सीव नंबर 60
2. ✔ सीव नंबर 85
3. ✘ सीव नंबर 44

4. ✖ सीव नंबर 100

Question Number : 162 Question Id : 7532295223 Question Type : MCQ Option Shuffling : Yes Is Question Mandatory : No Option Orientation : Vertical

Correct Marks : 1 Wrong Marks : 0.25

The toxic gas obtained on decomposition of Teflon is:

Options :

1. ✔ perfluoroisobutene
2. ✖ epoxy propane
3. ✖ chlorotrifluoro ethylene
4. ✖ polypropylene

Question Number : 162 Question Id : 7532295223 Question Type : MCQ Option Shuffling : Yes Is Question Mandatory : No Option Orientation : Vertical

Correct Marks : 1 Wrong Marks : 0.25

टेफ्लॉन के अपघटन से कौन सी विषैली गैस बनती है?

Options :

1. ✔ परफ्लूरोआइसोब्यूटीन
2. ✖ एपॉक्सी प्रोपेन
3. ✖ क्लोरोट्राईफ्लोरो एथिलीन
4. ✖ पॉलीप्रोपाइलीन

Question Number : 163 Question Id : 7532295224 Question Type : MCQ Option Shuffling : Yes Is Question Mandatory : No Option Orientation : Vertical

Correct Marks : 1 Wrong Marks : 0.25

The approximate moisture content of a hard gelatin capsule in normal conditions is:

Options :

1. ✔ 13-16%
2. ✖ 3-6%
3. ✖ 20-25%
4. ✖ 7-10%

Question Number : 163 Question Id : 7532295224 Question Type : MCQ Option Shuffling : Yes Is Question Mandatory : No Option Orientation : Vertical

Correct Marks : 1 Wrong Marks : 0.25

सामान्य परिस्थितियों में हार्ड जिलेटिन कैप्सूल का लगभग आर्द्रतांश _____ होता है।

Options :

1. ✓ 13-16%
2. ✗ 3-6%
3. ✗ 20-25%
4. ✗ 7-10%

Question Number : 164 Question Id : 7532295225 Question Type : MCQ Option Shuffling : Yes Is Question Mandatory : No Option Orientation : Vertical

Correct Marks : 1 Wrong Marks : 0.25

Which of the following is an example of inorganic two phase system gels?

Options :

1. ✗ Carbopol gel
2. ✗ Tragacanth gel
3. ✗ Polyethylene gel
4. ✓ Aluminium hydroxide gel

Question Number : 164 Question Id : 7532295225 Question Type : MCQ Option Shuffling : Yes Is Question Mandatory : No Option Orientation : Vertical

Correct Marks : 1 Wrong Marks : 0.25

निम्नलिखित में से कौन सा अकार्बनिक द्वि-प्रावस्थाप्रणाली जैल (gel) का एक उदाहरण है?

Options :

1. ✗ कार्बोपोल जैल
2. ✗ ट्रैगाकैथ जैल
3. ✗ पॉलीएथिलीन जैल
4. ✓ एल्युमिनियम हाइड्रॉक्साइड जैल

Question Number : 165 Question Id : 7532295226 Question Type : MCQ Option Shuffling : Yes Is Question Mandatory : No Option Orientation : Vertical

Correct Marks : 1 Wrong Marks : 0.25

Which of the following is an example of water soluble and water miscible suppository base?

Options :

1. ✘ Cocoa butter
2. ✘ Suppocire base
3. ✘ Wecobee base
4. ✔ Glycerinated gelatin

Question Number : 165 Question Id : 7532295226 Question Type : MCQ Option Shuffling : Yes Is Question Mandatory : No Option Orientation : Vertical

Correct Marks : 1 Wrong Marks : 0.25

निम्नलिखित में से कौन सा जल में घुलनशील और जल में मिश्रणीय सपोजीटरी बेस का उदाहरण है?

Options :

1. ✘ कोकोआ मक्खन
2. ✘ सपोसीयर बेस
3. ✘ वीकोबी बेस
4. ✔ ग्लिसरीनयुक्त जिलेटिन

Question Number : 166 Question Id : 7532295227 Question Type : MCQ Option Shuffling : Yes Is Question Mandatory : No Option Orientation : Vertical

Correct Marks : 1 Wrong Marks : 0.25

Which of the following is used as a tablet direct compression excipient?

Options :

1. ✘ Sodium chloride
2. ✔ Dibasic calcium phosphate
3. ✘ Titanium dioxide
4. ✘ Hydroxyl ethyl cellulose

Question Number : 166 Question Id : 7532295227 Question Type : MCQ Option Shuffling : Yes Is Question Mandatory : No Option Orientation : Vertical

Correct Marks : 1 Wrong Marks : 0.25

निम्नलिखित में से किसका इस्तेमाल टैबलेट प्रत्यक्ष संपीडन अनुद्रव्य (डायरेक्ट कंप्रेशन एक्सीपिएंट) के रूप में किया जाता है?

Options :

1. ✘ सोडियम क्लोराइड
2. ✔ डाईबेसिक कैल्शियम फॉस्फेट
3. ✘ टाइटेनियम डाइऑक्साइड
4. ✘ हाइड्रॉक्सिल एथिल सेलुलोज

Question Number : 167 Question Id : 7532295228 Question Type : MCQ Option Shuffling : Yes Is Question Mandatory : No Option Orientation : Vertical

Correct Marks : 1 Wrong Marks : 0.25

The T lymphocytes involved in mediating the development of T-cells are:

Options :

1. ✘ suppressor T-cells
2. ✘ helper T-cells
3. ✘ cytotoxic T-cells
4. ✔ inducer T-cells

Question Number : 167 Question Id : 7532295228 Question Type : MCQ Option Shuffling : Yes Is Question Mandatory : No Option Orientation : Vertical

Correct Marks : 1 Wrong Marks : 0.25

T-कोशिकाओं के विकास के मध्यवर्तन में कौन सी T-लिम्फोसाइट शामिल होती हैं?

Options :

1. ✘ शामक T-कोशिकाएं
2. ✘ सहायक T-कोशिकाएं
3. ✘ साइटोटोक्सिक T-कोशिकाएं
4. ✔ प्रेरक T-कोशिकाएं

Question Number : 168 Question Id : 7532295229 Question Type : MCQ Option Shuffling : Yes Is Question Mandatory : No Option Orientation : Vertical

Correct Marks : 1 Wrong Marks : 0.25

The most preferred production method of L-glutamic acid is through:

Options :

1. ✘ extraction
2. ✔ fermentation
3. ✘ chemical synthesis
4. ✘ intermediate production

Question Number : 168 Question Id : 7532295229 Question Type : MCQ Option Shuffling : Yes Is Question Mandatory : No Option Orientation : Vertical

Correct Marks : 1 Wrong Marks : 0.25

एल-ग्लूटामिक अम्ल (L-glutamic acid) के उत्पादन की सर्वाधिक वरीय विधि कौन सी है?

Options :

1. ✘ निष्कर्षण
2. ✔ किण्वन
3. ✘ रासायनिक संश्लेषण
4. ✘ मध्यवर्ती उत्पादन

Question Number : 169 Question Id : 7532295230 Question Type : MCQ Option Shuffling : Yes Is Question Mandatory : No Option Orientation : Vertical

Correct Marks : 1 Wrong Marks : 0.25

The heavy chain corresponding to the immunoglobulin IgA is:

Options :

1. ✘ Υ
2. ✘ ϵ
3. ✔ α
4. ✘ μ

Question Number : 169 Question Id : 7532295230 Question Type : MCQ Option Shuffling : Yes Is Question Mandatory : No Option Orientation : Vertical

Correct Marks : 1 Wrong Marks : 0.25

इम्युनोग्लोबुलिन IgA से संबंधित भारी श्रृंखला कौन सी है?

Options :

1. ✘ Υ
2. ✘ ε
3. ✔ α
4. ✘ μ

Question Number : 170 Question Id : 7532295231 Question Type : MCQ Option Shuffling : Yes Is Question Mandatory : No Option Orientation : Vertical

Correct Marks : 1 Wrong Marks : 0.25

The antisense drug used for the treatment of cytomegalovirus in patients with AIDS is:

Options :

1. ✔ Fomivirsen
2. ✘ Kogenate
3. ✘ Refludan
4. ✘ Filgrastim

Question Number : 170 Question Id : 7532295231 Question Type : MCQ Option Shuffling : Yes Is Question Mandatory : No Option Orientation : Vertical

Correct Marks : 1 Wrong Marks : 0.25

एड्स (AIDS) के मरीजों में साइटोमेगालोवायरस के उपचार के लिए इस्तेमाल की जाने वाली एंटीसेंस दवा कौन सी है?

Options :

1. ✔ फोमिविरसेन
2. ✘ कोजनेट
3. ✘ रेफ्लुडान
4. ✘ फिल्ग्रास्टिम

Question Number : 171 Question Id : 7532295232 Question Type : MCQ Option Shuffling : Yes Is Question Mandatory : No Option Orientation : Vertical

Correct Marks : 1 Wrong Marks : 0.25

Which of the following is categorised as having intermediate risk potential with reference to bioequivalence study?

Options :

1. ✘ Ephedrine

2. ✓ Griseofulvin
3. ✗ Quinidine
4. ✗ Phenytoin

Question Number : 171 Question Id : 7532295232 Question Type : MCQ Option Shuffling : Yes Is Question Mandatory : No Option Orientation : Vertical

Correct Marks : 1 Wrong Marks : 0.25

जैव समतुल्यता अध्ययन के संदर्भ में निम्नलिखित में से किसे मध्यवर्ती जोखिम क्षमता वाले के रूप में वर्गीकृत किया गया है?

Options :

1. ✗ इफेड्रिन
2. ✓ ग्राइसोफुल्विन
3. ✗ क्विनिडीन
4. ✗ फेनिटोइन

Question Number : 172 Question Id : 7532295233 Question Type : MCQ Option Shuffling : Yes Is Question Mandatory : No Option Orientation : Vertical

Correct Marks : 1 Wrong Marks : 0.25

The pharmacokinetic parameters like distribution and elimination together is called:

Options :

1. ✗ metabolism
2. ✗ excretion
3. ✗ absorption
4. ✓ disposition

Question Number : 172 Question Id : 7532295233 Question Type : MCQ Option Shuffling : Yes Is Question Mandatory : No Option Orientation : Vertical

Correct Marks : 1 Wrong Marks : 0.25

वितरण और उन्मूलन जैसे फार्माकोकाइनेटिक मापदंडों को संयुक्त रूप से किस नाम से जाना जाता है?

Options :

1. ✗ उपापचय
2. ✗ उत्सर्जन

3. ✘ अवशोषण

4. ✔ स्ववृत्ति

Question Number : 173 Question Id : 7532295234 Question Type : MCQ Option Shuffling : Yes Is Question Mandatory : No Option Orientation : Vertical

Correct Marks : 1 Wrong Marks : 0.25

The blood protein to which vitamin B12 binds is:

Options :

1. ✔ $\alpha 1$ globulin

2. ✘ $\alpha 2$ globulin

3. ✘ $\alpha 1$ acid glycoprotein

4. ✘ $\alpha 2$ acid glycoprotein

Question Number : 173 Question Id : 7532295234 Question Type : MCQ Option Shuffling : Yes Is Question Mandatory : No Option Orientation : Vertical

Correct Marks : 1 Wrong Marks : 0.25

वह रक्त प्रोटीन कौन सा है जिसके साथ विटामिन B12 बद्ध होता है?

Options :

1. ✔ $\alpha 1$ ग्लोब्युलिन

2. ✘ $\alpha 2$ ग्लोब्युलिन

3. ✘ $\alpha 1$ एसिड ग्लाइकोप्रोटीन

4. ✘ $\alpha 2$ एसिड ग्लाइकोप्रोटीन

Question Number : 174 Question Id : 7532295235 Question Type : MCQ Option Shuffling : Yes Is Question Mandatory : No Option Orientation : Vertical

Correct Marks : 1 Wrong Marks : 0.25

The specialised cells known as astrocytes are present in which of the following biological barriers in the body?

Options :

1. ✘ Capillary endothelial barrier

2. ✘ Cell membrane barrier

3. ✔ Blood brain barrier

4. ✖ Blood cerebrospinal fluid barrier

Question Number : 174 Question Id : 7532295235 Question Type : MCQ Option Shuffling : Yes Is Question Mandatory : No Option Orientation : Vertical

Correct Marks : 1 Wrong Marks : 0.25

एस्ट्रोसाइट्स के नाम से जानी जाने वाली विशेष कोशिकाएं शरीर में निम्नलिखित में से किस जैविक अवरोध में मौजूद होती हैं?

Options :

1. ✖ केशिका अंतःकला अवरोध
2. ✖ कोशिका झिल्ली अवरोध
3. ✔ रक्त मस्तिष्क अवरोध
4. ✖ रक्त मस्तिष्कमेरु द्रव अवरोध

Question Number : 175 Question Id : 7532295236 Question Type : MCQ Option Shuffling : Yes Is Question Mandatory : No Option Orientation : Vertical

Correct Marks : 1 Wrong Marks : 0.25

The reagent used in the assay of oxygen is:

Options :

1. ✔ alkaline pyrogallol solution
2. ✖ neutral ferric chloride
3. ✖ acetous perchloric acid
4. ✖ neutral formaldehyde

Question Number : 175 Question Id : 7532295236 Question Type : MCQ Option Shuffling : Yes Is Question Mandatory : No Option Orientation : Vertical

Correct Marks : 1 Wrong Marks : 0.25

ऑक्सीजन के आमापन में किस अभिकर्मक का प्रयोग किया जाता है?

Options :

1. ✔ क्षारीय पाइरोगैलोल विलयन
2. ✖ उदासीन फेरिक क्लोराइड
3. ✖ एसिटस परक्लोरिक अम्ल
4. ✖ उदासीन फॉर्मैल्डिहाइड

Question Number : 176 Question Id : 7532295237 Question Type : MCQ Option Shuffling : Yes Is Question Mandatory : No Option Orientation : Vertical

Correct Marks : 1 Wrong Marks : 0.25

The permanent red colour obtained at the end of the titration in Volhard's method is due to the formation of:

Options :

1. ✓ ferric thiocyanate
2. ✗ silver chromate
3. ✗ ammonium thiocyanate
4. ✗ ammonium chromate

Question Number : 176 Question Id : 7532295237 Question Type : MCQ Option Shuffling : Yes Is Question Mandatory : No Option Orientation : Vertical

Correct Marks : 1 Wrong Marks : 0.25

वोल्हार्ड की विधि में अनुमापन के अंत में प्राप्त स्थायी लाल रंग _____ के बनने के कारण प्राप्त होता है।

Options :

1. ✓ फेरिक थायोसाइनेट
2. ✗ सिल्वर क्रोमेट
3. ✗ अमोनियम थायोसाइनेट
4. ✗ अमोनियम क्रोमेट

Question Number : 177 Question Id : 7532295238 Question Type : MCQ Option Shuffling : Yes Is Question Mandatory : No Option Orientation : Vertical

Correct Marks : 1 Wrong Marks : 0.25

Which of the following is used for standardisations in redox titrations?

Options :

1. ✓ Ferrous ammonium sulphate
2. ✗ Calcium carbonate
3. ✗ Potassium hydrogen phthalate
4. ✗ Sulfanilic acid

Question Number : 177 Question Id : 7532295238 Question Type : MCQ Option Shuffling : Yes Is Question Mandatory : No Option

Orientation : Vertical

Correct Marks : 1 Wrong Marks : 0.25

रेडॉक्स अनुमापन में मानकीकरण हेतु निम्नलिखित में से किसका इस्तेमाल किया जाता है?

Options :

1. ✓ फेरस अमोनियम सल्फेट
2. ✗ कैल्शियम कार्बोनेट
3. ✗ पोटेशियम हाइड्रोजन थेलेट
4. ✗ सल्फानिलिक अम्ल

Question Number : 178 Question Id : 7532295239 Question Type : MCQ Option Shuffling : Yes Is Question Mandatory : No Option

Orientation : Vertical

Correct Marks : 1 Wrong Marks : 0.25

In gravimetric analysis for the determination of ash value, the acid insoluble portion of ash is determined by boiling with:

Options :

1. ✓ dilute hydrochloric acid
2. ✗ sodium chloride
3. ✗ acetic acid
4. ✗ ammonium hydroxide

Question Number : 178 Question Id : 7532295239 Question Type : MCQ Option Shuffling : Yes Is Question Mandatory : No Option

Orientation : Vertical

Correct Marks : 1 Wrong Marks : 0.25

एश वैल्यू (ash value) के निर्धारण के लिए किए जाने वाले भारात्मक विश्लेषण में, राख के अम्ल अघुलनशील हिस्से को _____ के साथ उबालकर निर्धारित किया जाता है।

Options :

1. ✓ तनु हाइड्रोक्लोरिक अम्ल
2. ✗ सोडियम क्लोराइड
3. ✗ एसीटिक अम्ल
4. ✗ अमोनियम हाइड्रॉक्साइड

Question Number : 179 Question Id : 7532295240 Question Type : MCQ Option Shuffling : Yes Is Question Mandatory : No Option

Orientation : Vertical

Correct Marks : 1 Wrong Marks : 0.25

Which of the following drugs is assayed by complexometric titrations as per Pharmacopoeial standards?

Options :

1. ✘ Calcium amino salicylate
2. ✘ Potassium bromide
3. ✔ Magnesium sulphate
4. ✘ Zinc oxide

Question Number : 179 Question Id : 7532295240 Question Type : MCQ Option Shuffling : Yes Is Question Mandatory : No Option

Orientation : Vertical

Correct Marks : 1 Wrong Marks : 0.25

फार्माकोपियल मानकों के अनुसार निम्नलिखित में से कौन सी दवा को कॉम्प्लेक्सोमेट्रिक अनुमापन द्वारा जांचा जाता है?

Options :

1. ✘ कैल्शियम अमीनो सैलिसिलेट
2. ✘ पोटेशियम ब्रोमाइड
3. ✔ मैगनीशियम सल्फेट
4. ✘ जिंक ऑक्साइड

Question Number : 180 Question Id : 7532295241 Question Type : MCQ Option Shuffling : Yes Is Question Mandatory : No Option

Orientation : Vertical

Correct Marks : 1 Wrong Marks : 0.25

Complexone III is otherwise known as:

Options :

1. ✘ ferri ferrocyanide
2. ✔ disodium edetate
3. ✘ potassium permanganate
4. ✘ cupric iodide

Question Number : 180 Question Id : 7532295241 Question Type : MCQ Option Shuffling : Yes Is Question Mandatory : No Option

Orientation : Vertical

Correct Marks : 1 Wrong Marks : 0.25

कॉम्प्लेक्सोन III को _____ नाम से भी जाना जाता है।

Options :

1. ✘ फेरी फेरोसाइनाइड
2. ✔ सोडियम एडिटेड
3. ✘ पोटेशियम परमैंगनेट
4. ✘ क्यूप्रिक आयोडाइड

Discipline5

Group Number :	10
Group Id :	753229274
Group Maximum Duration :	0
Group Minimum Duration :	120
Show Attended Group? :	No
Edit Attended Group? :	No
Break time :	0
Group Marks :	20
Is this Group for Examiner? :	No

Discipline5

Section Id :	753229274
Section Number :	1
Section type :	Online
Mandatory or Optional :	Mandatory
Number of Questions :	20
Number of Questions to be attempted :	20
Section Marks :	20
Enable Mark as Answered Mark for Review and Clear Response :	Yes
Sub-Section Number :	1
Sub-Section Id :	753229331
Question Shuffling Allowed :	Yes

Question Number : 181 Question Id : 7532295242 Question Type : MCQ Option Shuffling : Yes Is Question Mandatory : No Option Orientation : Vertical

Correct Marks : 1 Wrong Marks : 0.25

Which of the following is an example of azo indicator?

Options :

1. ✘ Phenolphthalein
2. ✘ Phenol red
3. ✔ Methyl red
4. ✘ Ferroin

Question Number : 181 Question Id : 7532295242 Question Type : MCQ Option Shuffling : Yes Is Question Mandatory : No Option Orientation : Vertical

Correct Marks : 1 Wrong Marks : 0.25

निम्नलिखित में से कौन सा एज़ो संकेतक (azo indicator) का उदाहरण है?

Options :

1. ✘ फिनोफथेलीन
2. ✘ फिनाॅल रेड
3. ✔ मिथाइल रेड
4. ✘ फेरोइन

Question Number : 182 Question Id : 7532295243 Question Type : MCQ Option Shuffling : Yes Is Question Mandatory : No Option Orientation : Vertical

Correct Marks : 1 Wrong Marks : 0.25

The pH range of _____ indicator is 6.8-8.4.

Options :

1. ✘ methyl orange
2. ✔ phenol red
3. ✘ bromocresol green
4. ✘ methyl red

Question Number : 182 Question Id : 7532295243 Question Type : MCQ Option Shuffling : Yes Is Question Mandatory : No Option Orientation : Vertical

Correct Marks : 1 Wrong Marks : 0.25

_____ संकेतक की पी.एच. परास (pH range) 6.8-8.4 होती है।

Options :

1. ✘ मिथाइल ऑरेंज
2. ✔ फिनाॅल रेड
3. ✘ ब्रोमोक्रिसोल ग्रीन
4. ✘ मिथाइल रेड

Question Number : 183 Question Id : 7532295244 Question Type : MCQ Option Shuffling : Yes Is Question Mandatory : No Option Orientation : Vertical

Correct Marks : 1 Wrong Marks : 0.25

Which of the following is a dye that produces results similar to litmus paper?

Options :

1. ✘ Morin
2. ✘ Curcumin
3. ✘ Lawsone
4. ✔ Azolitmin

Question Number : 183 Question Id : 7532295244 Question Type : MCQ Option Shuffling : Yes Is Question Mandatory : No Option Orientation : Vertical

Correct Marks : 1 Wrong Marks : 0.25

निम्नलिखित में से कौन सा एक रंजक है जो लिटमस पेपर के समान परिणाम देता है?

Options :

1. ✘ मोरिन
2. ✘ करक्यूमिन
3. ✘ लॉसोन
4. ✔ एज़ोलिटमिन

Question Number : 184 Question Id : 7532295245 Question Type : MCQ Option Shuffling : Yes Is Question Mandatory : No Option Orientation : Vertical

Correct Marks : 1 Wrong Marks : 0.25

The indicator used in nonaqueous titration of barbiturates is:

Options :

1. ✓ thymol blue
2. ✗ phenolphthalein
3. ✗ bromocresol green
4. ✗ crystal violet

Question Number : 184 Question Id : 7532295245 Question Type : MCQ Option Shuffling : Yes Is Question Mandatory : No Option Orientation : Vertical

Correct Marks : 1 Wrong Marks : 0.25

बार्बिटुरेट्स के गैर-जलीय अनुमापन में किस संकेतक का प्रयोग किया जाता है?

Options :

1. ✓ थाइमोल ब्लू
2. ✗ फीनॉलफ्थेलीन
3. ✗ ब्रोमोक्रिसॉल ग्रीन
4. ✗ क्रिस्टल वॉयलेट

Question Number : 185 Question Id : 7532295246 Question Type : MCQ Option Shuffling : Yes Is Question Mandatory : No Option Orientation : Vertical

Correct Marks : 1 Wrong Marks : 0.25

The buffer present in water soluble radio opaque contrast media is:

Options :

1. ✓ citrate buffer
2. ✗ acetate buffer
3. ✗ sulfate buffer
4. ✗ tartrate buffer

Question Number : 185 Question Id : 7532295246 Question Type : MCQ Option Shuffling : Yes Is Question Mandatory : No Option Orientation : Vertical

Correct Marks : 1 Wrong Marks : 0.25

जल में घुलनशील रेडियो अपारदर्शी कंट्रास्ट माध्यम में इनमें से कौन सा बफर मौजूद होता है?

Options :

1. ✓ साइट्रेट बफर
2. ✗ एसीटेट बफर
3. ✗ सल्फेट बफर
4. ✗ टार्ट्रेट बफर

Question Number : 186 Question Id : 7532295247 Question Type : MCQ Option Shuffling : Yes Is Question Mandatory : No Option Orientation : Vertical

Correct Marks : 1 Wrong Marks : 0.25

The inorganic compound used as an emetic is:

Options :

1. ✗ sodium iodide
2. ✗ ferric chloride
3. ✗ iodine
4. ✓ copper sulphate

Question Number : 186 Question Id : 7532295247 Question Type : MCQ Option Shuffling : Yes Is Question Mandatory : No Option Orientation : Vertical

Correct Marks : 1 Wrong Marks : 0.25

वमनकारी के रूप में इस्तेमाल किया जाने वाला अकार्बनिक यौगिक कौन सा है?

Options :

1. ✗ सोडियम आयोडाइड
2. ✗ फेरिक क्लोराइड
3. ✗ आयोडीन
4. ✓ कॉपर सल्फेट

Question Number : 187 Question Id : 7532295248 Question Type : MCQ Option Shuffling : Yes Is Question Mandatory : No Option Orientation : Vertical

Correct Marks : 1 Wrong Marks : 0.25

Nitrous oxide should be stored in metal cylinders with temperature NOT exceeding:

Options :

1. ✘ 10°C
2. ✘ 26°C
3. ✔ 36°C
4. ✘ 45°C

Question Number : 187 Question Id : 7532295248 Question Type : MCQ Option Shuffling : Yes Is Question Mandatory : No Option Orientation : Vertical

Correct Marks : 1 Wrong Marks : 0.25

नाइट्रस ऑक्साइड को _____ से अधिक तापमान पर धातु के सिलिंडरों में भंडारित नहीं किया जाना चाहिए।

Options :

1. ✘ 10°C
2. ✘ 26°C
3. ✔ 36°C
4. ✘ 45°C

Question Number : 188 Question Id : 7532295249 Question Type : MCQ Option Shuffling : Yes Is Question Mandatory : No Option Orientation : Vertical

Correct Marks : 1 Wrong Marks : 0.25

The most abundant extracellular ion in the body is:

Options :

1. ✘ Mg²⁺
2. ✔ Na⁺
3. ✘ K⁺
4. ✘ Ca²⁺

Question Number : 188 Question Id : 7532295249 Question Type : MCQ Option Shuffling : Yes Is Question Mandatory : No Option Orientation : Vertical

Correct Marks : 1 Wrong Marks : 0.25

शरीर में सबसे प्रचुर मात्रा में पाया जाने वाला बाह्य कोशिकीय आयन कौन सा है?

Options :

1. ✘ Mg²⁺

2. ✓ Na+
3. ✗ K+
4. ✗ Ca²⁺

Question Number : 189 Question Id : 7532295250 Question Type : MCQ Option Shuffling : Yes Is Question Mandatory : No Option Orientation : Vertical

Correct Marks : 1 Wrong Marks : 0.25

Clonidine structurally is a/an _____ derivative.

Options :

1. ✗ pyrazoline
2. ✗ triazine
3. ✓ imidazoline
4. ✗ pyrimidine

Question Number : 189 Question Id : 7532295250 Question Type : MCQ Option Shuffling : Yes Is Question Mandatory : No Option Orientation : Vertical

Correct Marks : 1 Wrong Marks : 0.25

क्लोनिडिन संरचनात्मक रूप से एक _____ व्युत्पन्न है।

Options :

1. ✗ पायराज़ोलिन
2. ✗ ट्रायाज़ीन
3. ✓ इमिडाज़ोलिन
4. ✗ पायरीमिडिन

Question Number : 190 Question Id : 7532295251 Question Type : MCQ Option Shuffling : Yes Is Question Mandatory : No Option Orientation : Vertical

Correct Marks : 1 Wrong Marks : 0.25

Which of the following cholesterol lowering agents is a naphthalenyl ester derivative?

Options :

1. ✗ Clofibrate
2. ✗ Gemfibrozil

3. ✘ Colestipol

4. ✔ Lovastatin

Question Number : 190 Question Id : 7532295251 Question Type : MCQ Option Shuffling : Yes Is Question Mandatory : No Option Orientation : Vertical

Correct Marks : 1 Wrong Marks : 0.25

निम्नलिखित में से कौन सा कोलेस्ट्रॉल कम करने वाला कारक नेफ्थलिनिल एस्टर व्युत्पन्न है?

Options :

1. ✘ क्लोफिब्रेट

2. ✘ जेमफाइब्रोजिल

3. ✘ कोलस्टिपॉल

4. ✔ लोवास्टैटिन

Question Number : 191 Question Id : 7532295252 Question Type : MCQ Option Shuffling : Yes Is Question Mandatory : No Option Orientation : Vertical

Correct Marks : 1 Wrong Marks : 0.25

The antibiotic having mechanism of action attributed to muco peptide synthesis inhibition is:

Options :

1. ✘ cycloserine

2. ✔ bacitracin

3. ✘ penicillin

4. ✘ chloramphenicol

Question Number : 191 Question Id : 7532295252 Question Type : MCQ Option Shuffling : Yes Is Question Mandatory : No Option Orientation : Vertical

Correct Marks : 1 Wrong Marks : 0.25

निम्नलिखित में से कौन सी एंटीबायोटिक की प्रक्रिया म्यूको पेप्टाइड संश्लेषण अवरोध पर आधारित होती है?

Options :

1. ✘ साइक्लोसीरिन

2. ✔ बैसिट्रेसिन

3. ✘ पेनिसिलिन

4. ✖ क्लोरमफेनिकॉल

Question Number : 192 Question Id : 7532295253 Question Type : MCQ Option Shuffling : Yes Is Question Mandatory : No Option Orientation : Vertical

Correct Marks : 1 Wrong Marks : 0.25

Dioscin is an example of:

Options :

1. ✖ triterpenoid
2. ✔ steroid saponin
3. ✖ alkaloidal resin
4. ✖ mucilage

Question Number : 192 Question Id : 7532295253 Question Type : MCQ Option Shuffling : Yes Is Question Mandatory : No Option Orientation : Vertical

Correct Marks : 1 Wrong Marks : 0.25

डाइऑसिन इनमें से किसका एक उदाहरण है?

Options :

1. ✖ ट्राइटरपेनॉइड
2. ✔ स्टेरॉयड सैपोनिन
3. ✖ एल्केलोइड रेजिन
4. ✖ म्यूसिलेज़

Question Number : 193 Question Id : 7532295254 Question Type : MCQ Option Shuffling : Yes Is Question Mandatory : No Option Orientation : Vertical

Correct Marks : 1 Wrong Marks : 0.25

Aleurone grains present in seeds are a type of:

Options :

1. ✖ defensive proteins
2. ✖ transport proteins
3. ✔ storage proteins
4. ✖ contractile proteins

Question Number : 193 Question Id : 7532295254 Question Type : MCQ Option Shuffling : Yes Is Question Mandatory : No Option Orientation : Vertical

Correct Marks : 1 Wrong Marks : 0.25

बीजों में मौजूद एल्यूरोन ग्रेन _____ का एक प्रकार होते हैं।

Options :

1. ✘ रक्षात्मक प्रोटीन
2. ✘ परिवहन प्रोटीन
3. ✔ भंडारण प्रोटीन
4. ✘ संकुचनशील प्रोटीन

Question Number : 194 Question Id : 7532295255 Question Type : MCQ Option Shuffling : Yes Is Question Mandatory : No Option Orientation : Vertical

Correct Marks : 1 Wrong Marks : 0.25

The pungency of ginger is due to the presence of which of the following homologous phenols?

Options :

1. ✔ Gingerol
2. ✘ Borneol
3. ✘ Cineole
4. ✘ Citral

Question Number : 194 Question Id : 7532295255 Question Type : MCQ Option Shuffling : Yes Is Question Mandatory : No Option Orientation : Vertical

Correct Marks : 1 Wrong Marks : 0.25

अदरक का तीखापन निम्नलिखित में से किस समजात फीनॉल की उपस्थिति के कारण होता है?

Options :

1. ✔ जिंजरोल
2. ✘ बोर्नियोल
3. ✘ सिनेओल
4. ✘ सिट्रल

Question Number : 195 Question Id : 7532295256 Question Type : MCQ Option Shuffling : Yes Is Question Mandatory : No Option Orientation : Vertical

Correct Marks : 1 Wrong Marks : 0.25

Which of the following is an oleogum resin obtained from the stem of Commiphora?

Options :

1. ✘ Asafoetida
2. ✔ Myrrh
3. ✘ Ginger
4. ✘ Camphor

Question Number : 195 Question Id : 7532295256 Question Type : MCQ Option Shuffling : Yes Is Question Mandatory : No Option Orientation : Vertical

Correct Marks : 1 Wrong Marks : 0.25

निम्नलिखित में से कौन सा एक ओलेओगम रेजिन (oleogum resin) है जो कोमीफोरा के तने से प्राप्त होता है?

Options :

1. ✘ हींग
2. ✔ लोहबान
3. ✘ अदरक
4. ✘ कपूर

Question Number : 196 Question Id : 7532295257 Question Type : MCQ Option Shuffling : Yes Is Question Mandatory : No Option Orientation : Vertical

Correct Marks : 1 Wrong Marks : 0.25

Which of the following is NOT an organoleptic factor for the standardisation of herbal drugs?

Options :

1. ✘ Colour
2. ✔ Moisture content
3. ✘ Odour
4. ✘ Taste

Question Number : 196 Question Id : 7532295257 Question Type : MCQ Option Shuffling : Yes Is Question Mandatory : No Option Orientation : Vertical

Correct Marks : 1 Wrong Marks : 0.25

निम्नलिखित में से कौन सा हर्बल दवाओं के मानकीकरण के लिए प्रयुक्त होने वाला एक ऑर्गेनोलेप्टिक कारक नहीं है?

Options :

1. ✘ रंग
2. ✔ आर्द्रतांश
3. ✘ गंध
4. ✘ स्वाद

Question Number : 197 Question Id : 7532295258 Question Type : MCQ Option Shuffling : Yes Is Question Mandatory : No Option Orientation : Vertical

Correct Marks : 1 Wrong Marks : 0.25

Which of the following traditional medicines is a semisolid dosage form?

Options :

1. ✘ Asava
2. ✘ Vatika
3. ✘ Satva
4. ✔ Avaleha

Question Number : 197 Question Id : 7532295258 Question Type : MCQ Option Shuffling : Yes Is Question Mandatory : No Option Orientation : Vertical

Correct Marks : 1 Wrong Marks : 0.25

निम्नलिखित में से कौन सी पारंपरिक औषधि अर्ध-ठोस खुराक रूप में होती है?

Options :

1. ✘ आसव
2. ✘ वाटिका
3. ✘ सत्व
4. ✔ अवलेहा

Question Number : 198 Question Id : 7532295259 Question Type : MCQ Option Shuffling : Yes Is Question Mandatory : No Option Orientation : Vertical

Correct Marks : 1 Wrong Marks : 0.25

The prominent nutraceutical used for allergy relief is/are:

Options :

1. ✓ Ginkgo biloba
2. ✗ Momordica
3. ✗ flax seeds
4. ✗ green tea

Question Number : 198 Question Id : 7532295259 Question Type : MCQ Option Shuffling : Yes Is Question Mandatory : No Option Orientation : Vertical

Correct Marks : 1 Wrong Marks : 0.25

एलर्जी से राहत के लिए इस्तेमाल किया जाने वाला प्रमुख पौष्टिक औषध (न्यूट्रास्युटिकल) कौन-सी है?

Options :

1. ✓ जिन्कगो बिलोबा
2. ✗ मोमोर्डिका
3. ✗ अलसी के बीज
4. ✗ ग्रीन टी

Question Number : 199 Question Id : 7532295260 Question Type : MCQ Option Shuffling : Yes Is Question Mandatory : No Option Orientation : Vertical

Correct Marks : 1 Wrong Marks : 0.25

An unpleasant ammoniacal odour is generated in which of the following drugs during storage due to humidity?

Options :

1. ✗ Saffron
2. ✗ Rhubarb
3. ✗ Cinnamon
4. ✓ Ergot

Question Number : 199 Question Id : 7532295260 Question Type : MCQ Option Shuffling : Yes Is Question Mandatory : No Option Orientation : Vertical

Correct Marks : 1 Wrong Marks : 0.25

भंडारण के दौरान नमी के कारण निम्नलिखित में से किस दवा में एक अप्रिय अमोनियाई गंध उत्पन्न होती है?

Options :

1. ✖ केसर
2. ✖ रेबंदचीनी
3. ✖ दालचीनी
4. ✔ अर्गोट

Question Number : 200 Question Id : 7532295261 Question Type : MCQ Option Shuffling : Yes Is Question Mandatory : No Option Orientation : Vertical

Correct Marks : 1 Wrong Marks : 0.25

Which of the following is the brilliant red dye obtained from insects?

Options :

1. ✖ Ocher
2. ✖ Indigo
3. ✔ Cochineal
4. ✖ Carajurin

Question Number : 200 Question Id : 7532295261 Question Type : MCQ Option Shuffling : Yes Is Question Mandatory : No Option Orientation : Vertical

Correct Marks : 1 Wrong Marks : 0.25

निम्नलिखित में से कौन सा कीड़ों से प्राप्त होने वाला चमकदार लाल रंजक है?

Options :

1. ✖ गेरू
2. ✖ नील
3. ✔ कोषिनील
4. ✖ काराजुरिन